



分数と小数、
整数の関係 3

● 分数の倍

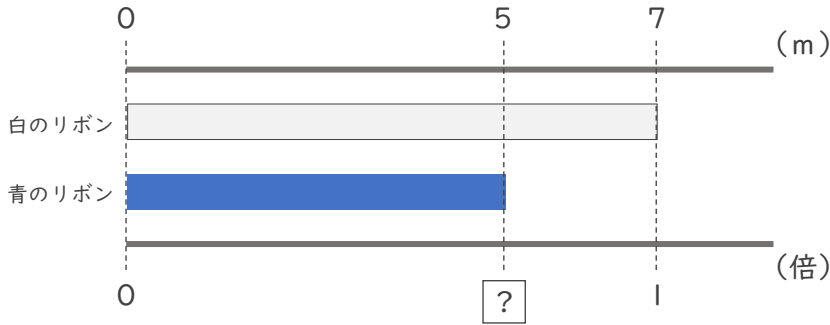


日にち： 月 日

名まえ _____

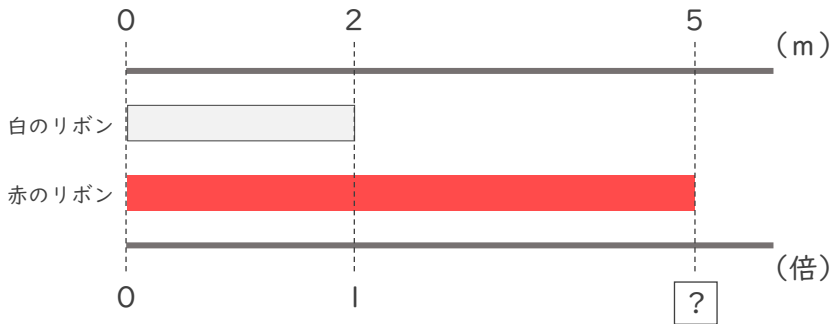
・次の問いに分数で答えましょう。(うすい字はなぞりましょう。)

① 青のリボンは白のリボンの何倍ですか。



青のリボン ÷ 白のリボン で $\frac{5}{7}$ 倍

② 赤のリボンは白のリボンの何倍ですか。



赤のリボン ÷ 白のリボン で $\frac{\square}{\square}$ 倍

③ 青のリボンは白のリボンの何倍ですか。



青のリボン ÷ 白のリボン で $\frac{\square}{\square}$ 倍





分数と小数、
整数の関係 3

● 分数の倍

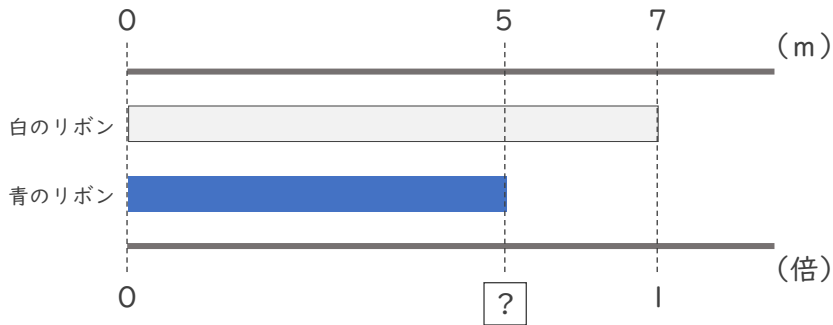


日にち： 月 日

名まえ _____

・次の問いに分数で答えましょう。（うすい字はなぞりましょう。）

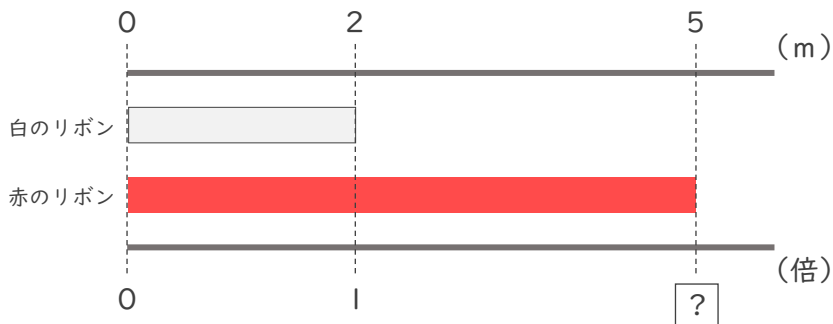
① 青のリボンは白のリボンの何倍ですか。



青のリボン 白のリボン

$$5 \div 7 \text{ で } \frac{5}{7} \text{ 倍}$$

② 赤のリボンは白のリボンの何倍ですか。



赤のリボン 白のリボン

$$5 \div 2 \text{ で } \frac{5}{2} \text{ 倍}$$

③ 青のリボンは白のリボンの何倍ですか。



青のリボン 白のリボン

$$5 \div 4 \text{ で } \frac{5}{4} \text{ 倍}$$

④ 確認 答え

