



単位量あたりの
大きさ 4

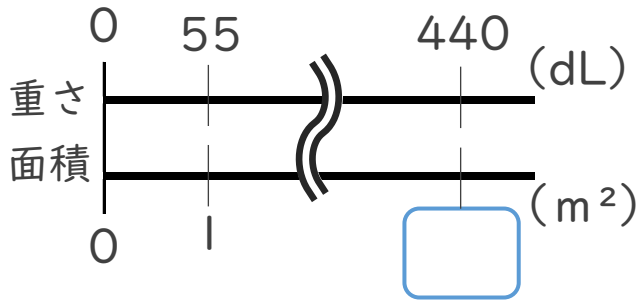
● 単位量から
比べられる量を求める



日にち： 月 日

名まえ _____

1 かべを 1 m^2 あたり55dLのペンキで塗ります。ペンキは440dL必要です。
かべの面積を求めましょう。

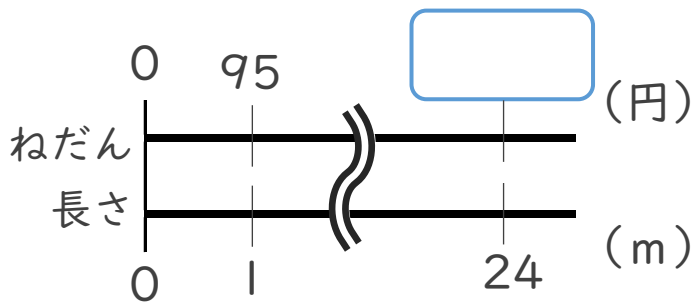


式：

筆算

答え： _____

2 1 mあたりのねだんが95円のリボンの24mのねだんはいくらでしょう。



式：

筆算

答え： _____



単位量あたりの
大きさ 4

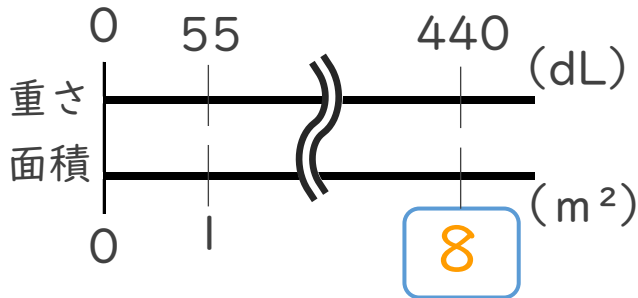
● 単位量から
比べられる量を求める



日にち： 月 日

名まえ _____

1 かべを 1 m^2 あたり55dLのペンキで塗ります。ペンキは440dL必要です。
かべの面積を求めましょう。

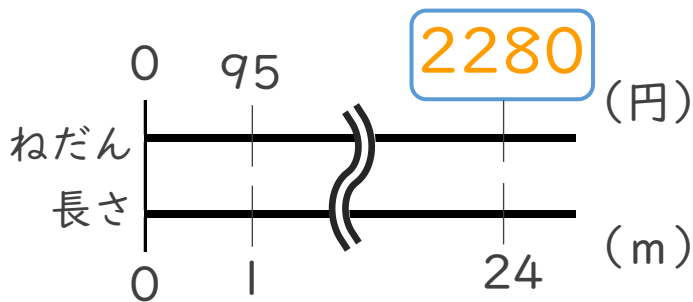


式： $440 \div 55 = 8$

筆算

答え：8 m²

2 1 mあたりのねだんが95円のリボンの24mのねだんはいくらでしょう。



式： $95 \times 24 = 2280$

筆算

答え：2280 円