



合同な図形 6

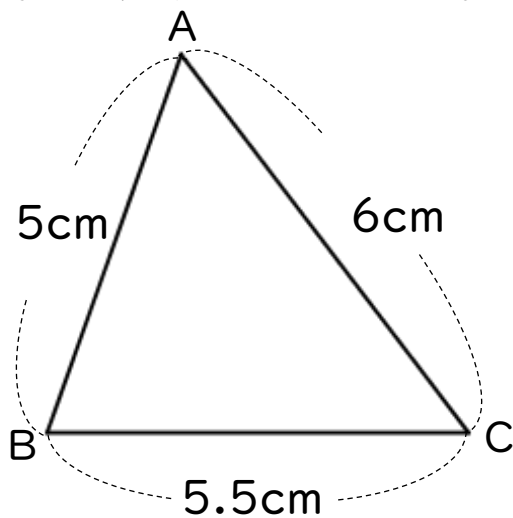
● 合同な三角形の作図
(3組の辺)



日にち： 月 日

名まえ _____


・ 次の三角形ABCと合同な三角形をかきなさい。



① 5.5cmの辺を引く。



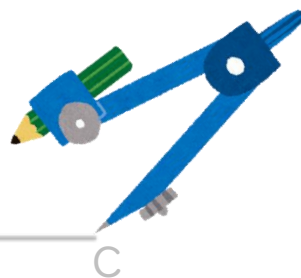
② コンパスで5cmはかる。



③ コンパスで6cmはかる。



④ AとB、AとCを結ぶ。





合同な図形 6

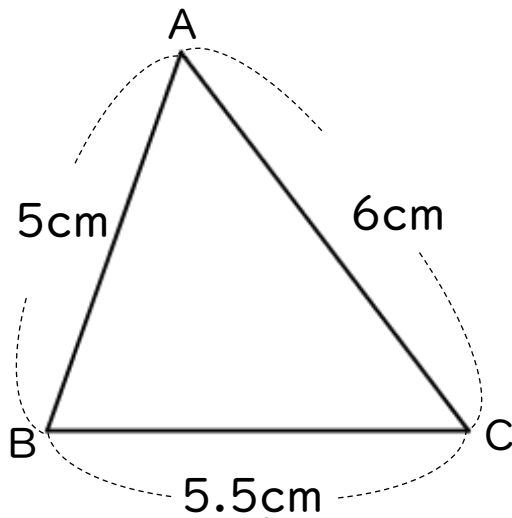
◎ 合同な三角形の作図
(3組の辺)



日にち： 月 日

名まえ _____

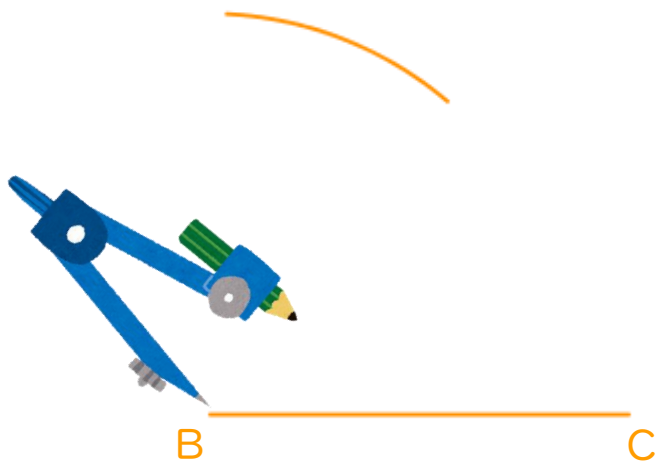
・ 次の三角形ABCと合同な三角形をかきなさい。



① 5.5cmの辺を引く。



② コンパスで5cmはかる。



③ コンパスで6cmはかる。



④ AとB、AとCを結ぶ。

