



# 合同な図形 6

合同な三角形の作図  
(3組の辺)

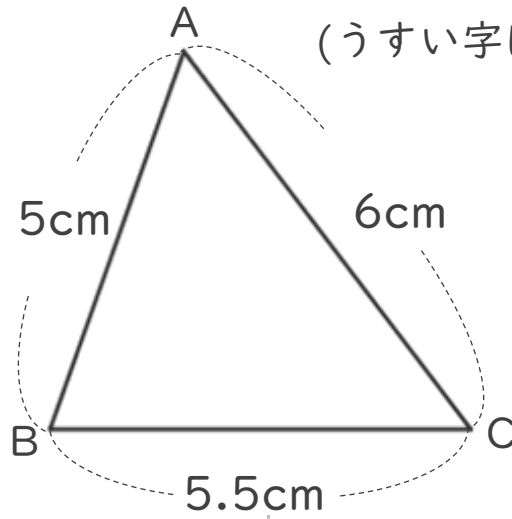


日にち：            月            日

名まえ \_\_\_\_\_

・ 次の三角形ABCと合同な三角形をかきましょう。


(うすい字は、なぞりましょう。)



① 5.5cmの辺を引く。




② コンパスで5cmはかる。



③ コンパスで6cmはかる。



④ AとB、AとCを結ぶ。





# 合同な図形 6

合同な三角形の作図  
(3組の辺)

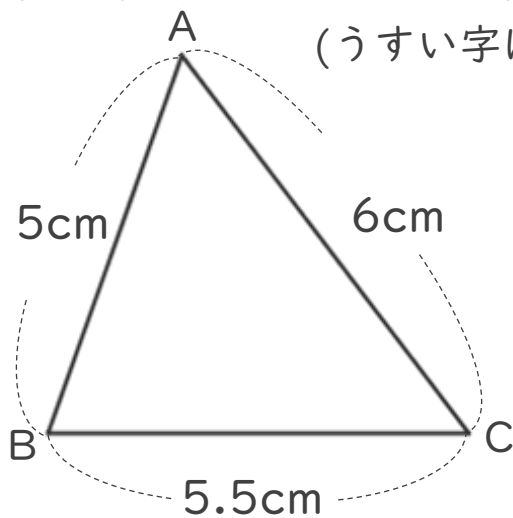


日にち：            月            日

名まえ \_\_\_\_\_

・ 次の三角形ABCと合同な三角形をかきましょう。

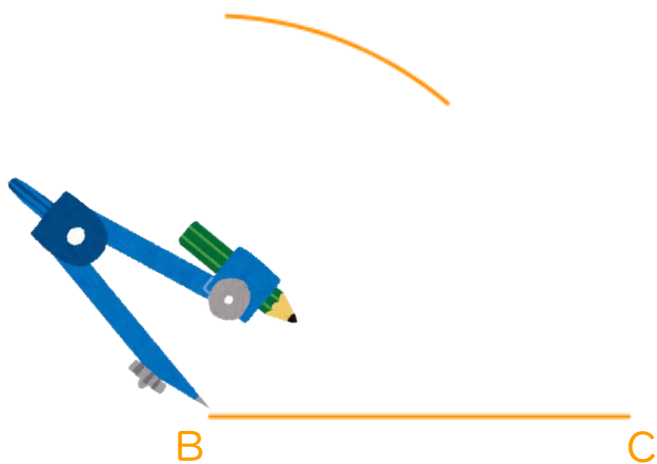
(うすい字は、なぞりましょう。)



① 5.5cmの辺を引く。



② コンパスで5cmはかる。



③ コンパスで6cmはかる。



④ AとB、AとCを結ぶ。

