



## 合同な図形 8

合同な四角形の作図  
(4組の辺と対角線)

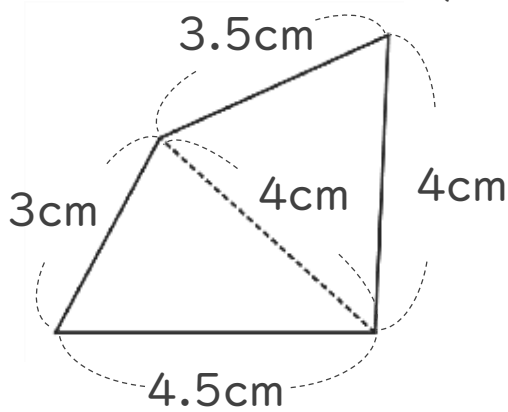


日にち：            月            日

名まえ \_\_\_\_\_

・ 次の四角形ABCDと合同な四角形をかきましょう。

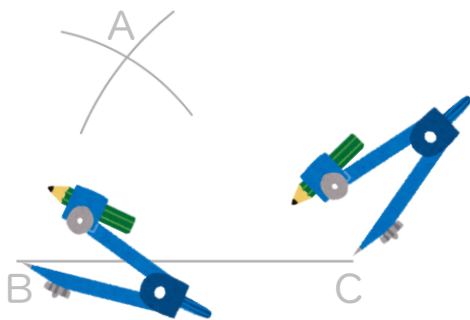
(うすい字は、なぞりましょう。)



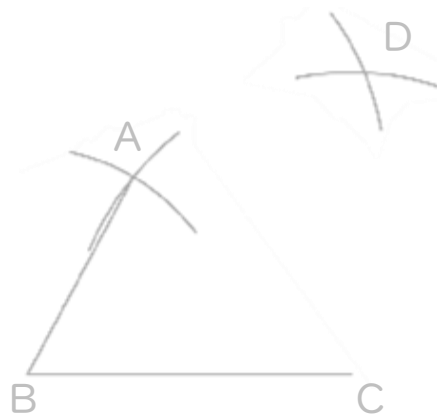
① 4.5cmの辺を引く。



② コンパスで3cm、4cm  
はかり、AとBを結ぶ。



③ コンパスで3.5cm、4cmを  
はかる。



④ AとD、DとCを結ぶ。



# 合同な図形 8

合同な四角形の作図  
(4組の辺と対角線)

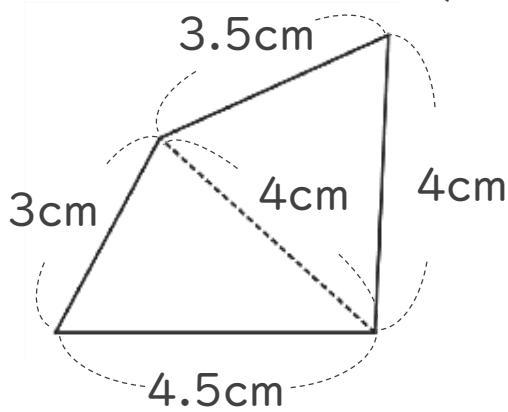


日にち： 月 日

名まえ \_\_\_\_\_

・ 次の四角形ABCDと合同な四角形をかきましょう。

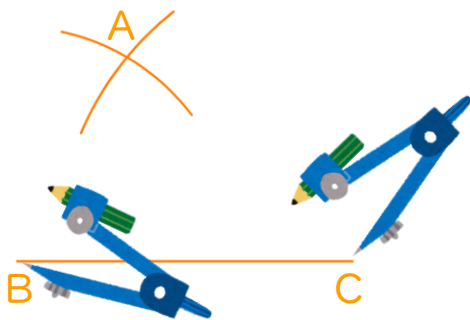
(うすい字は、なぞりましょう。)



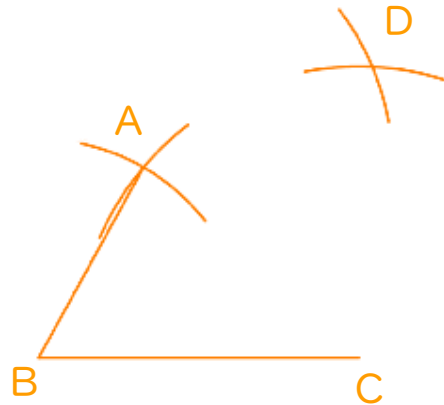
① 4.5cmの辺を引く。



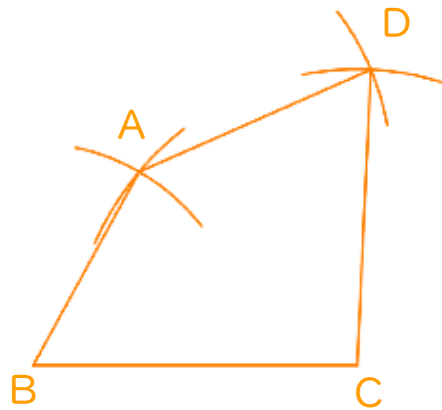
② コンパスで3cm、4cmはかり、AとBを結ぶ。



③ コンパスで3.5cm、4cmをはかる。



④ AとD、DとCを結ぶ。



④ 確認 答え