



正多角形と
円周の長さ |

4

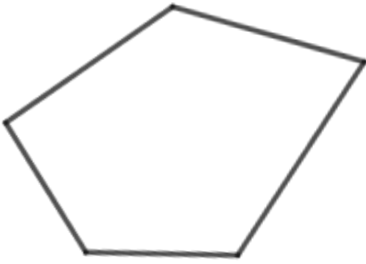
◎ 多角形の名前

日にち： 月 日

名まえ

・ 次の図形の名前を書きましょう。

①



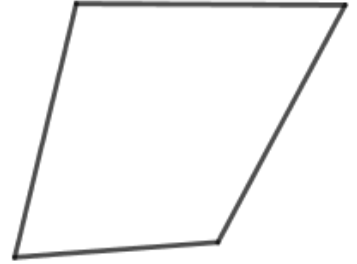
答え：

②



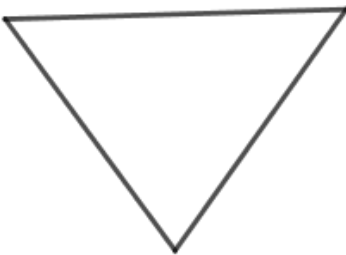
答え：

③



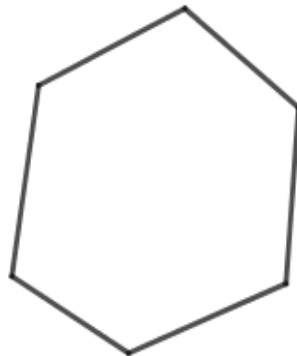
答え：

④



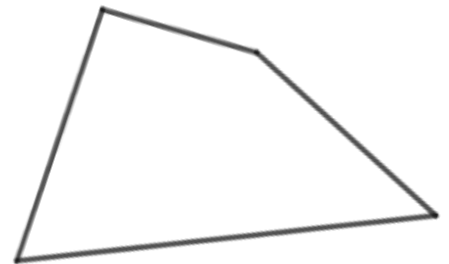
答え：

⑤



答え：

⑥



答え：





正多角形と
円周の長さ |
◎ 多角形の名前

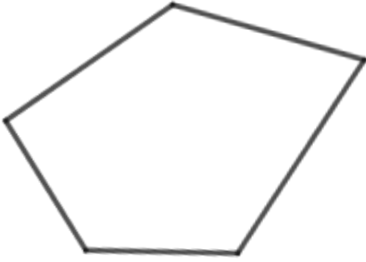
4

日にち： 月 日

名まえ _____

・ 次の図形の名前を書きましょう。

①



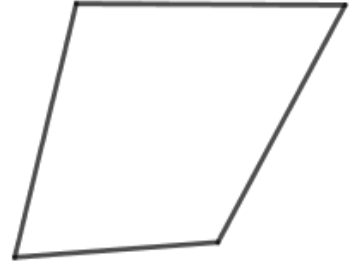
答え： 五角形

②



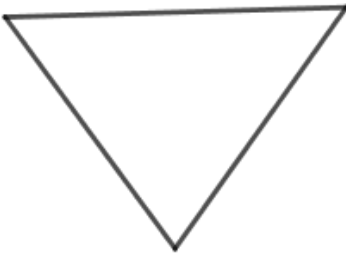
答え： 三角形

③



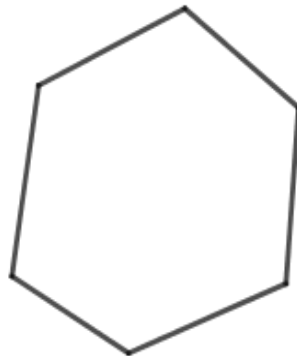
答え： 四角形

④



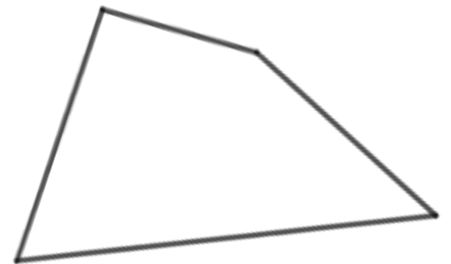
答え： 三角形

⑤



答え： 六角形

⑥



答え： 四角形

