



小数のわり算21

◎ 帯小数÷真小数の文章題

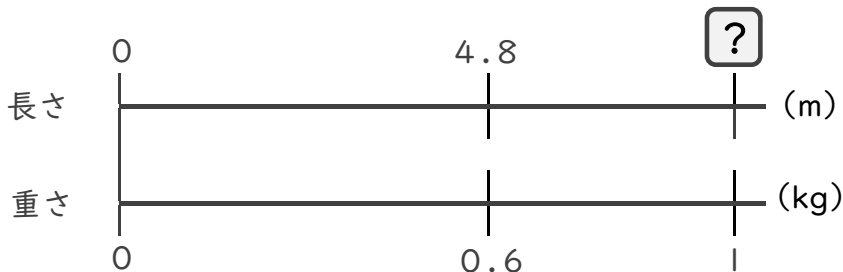


日にち： 月 日

名まえ

・ 次の問いに答えましょう。(うすい字は、なぞりましょう。)

1 4.8mの重さが、0.6kgのホースがあります。このホースの1kgあたりの長さは何mになるでしょうか。



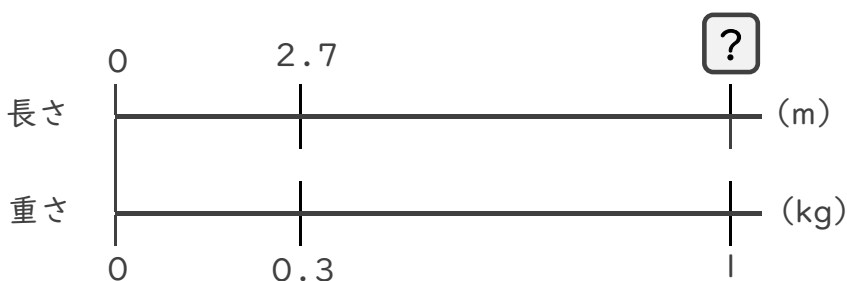
$$\square \times 0.6 = 4.8$$

$$\square = 4.8 \div 0.6$$

$$\square =$$

答え： _____ m

2 2.7mの重さが、0.3kgの金属があります。この金属の1kgあたりの長さは何mになるでしょうか。



$$\square \times =$$

$$\square =$$

$$\square =$$

答え： _____



小数のわり算21

◎ 帯小数÷真小数の文章題

4

日にち： 月 日

名まえ

・ 次の問いに答えましょう。(うすい字は、なぞりましょう。)

1 4.8mの重さが、0.6kgのホースがあります。このホースの1kgあたりの長さは何mになるでしょうか。



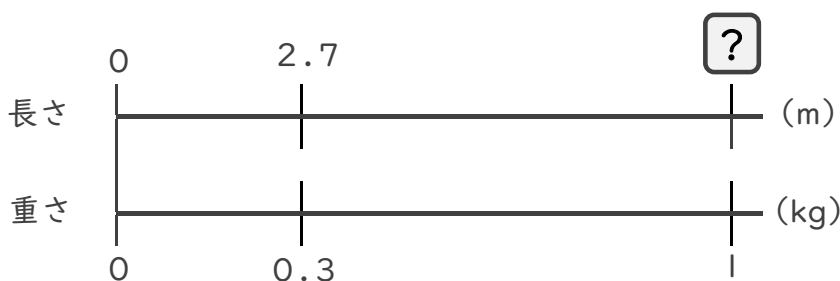
$$\square \times 0.6 = 4.8$$

$$\square = 4.8 \div 0.6$$

$$\square = 8$$

答え： 8 m

2 2.7mの重さが、0.3kgの金属があります。この金属の1kgあたりの長さは何mになるでしょうか。



$$\square \times 0.3 = 2.7$$

$$\square = 2.7 \div 0.3$$

$$\square = 9$$

答え： 9 m