



平均 2

平均の求め方



日にち： 月 日

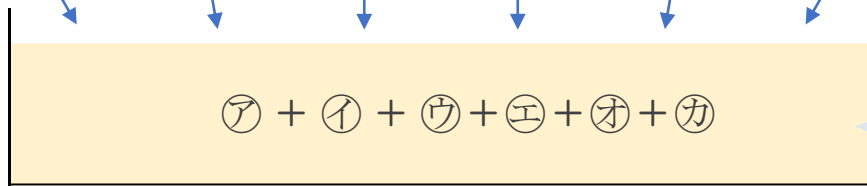
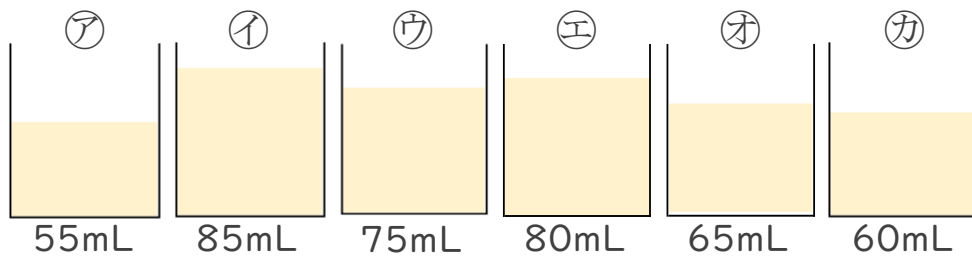
名まえ _____

・ ジュースの量の平均を、計算で求めましょう。

(うすい字は、なぞりましょう。)

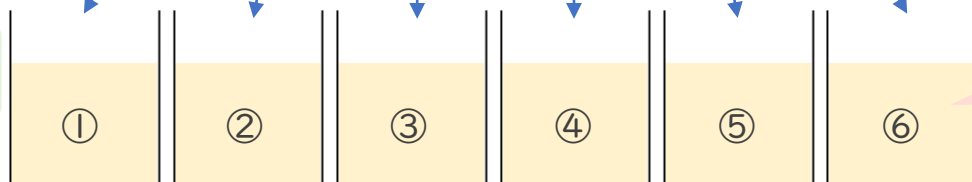
いくつかの数量を、等しい大きさにならしたものを

へいきん
平均 といいます。



ジュースの量の合計

個数



ならした量

ジュースの量の合計

個数

() ÷

= ÷

= ならした量

[]

④ 確認



平均 2

平均の求め方



日にち： 月 日

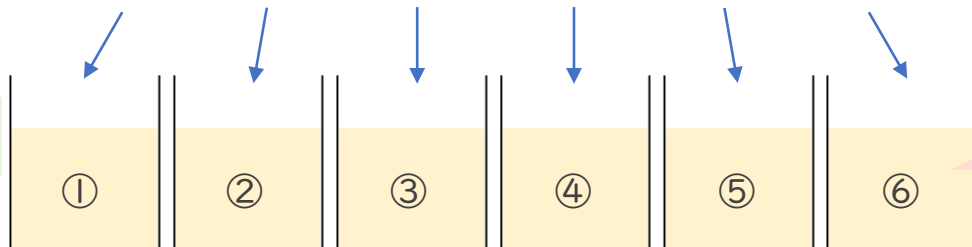
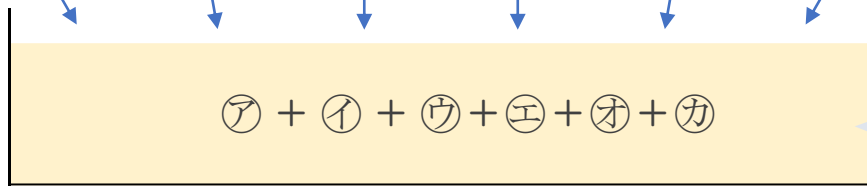
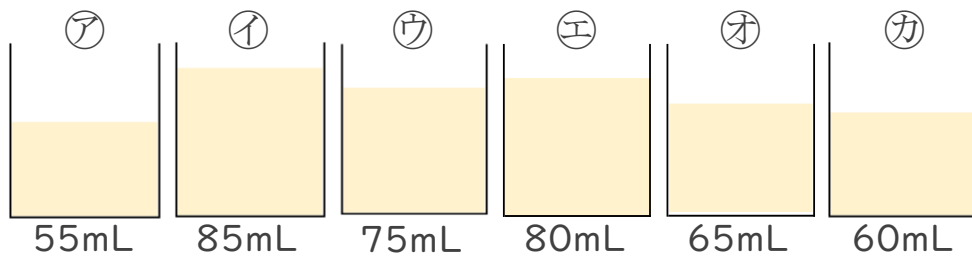
名まえ _____

・ ジュースの量の平均を、計算で求めましょう。

(うすい字は、なぞりましょう。)

いくつかの数量を、等しい大きさにならしたものを

へいきん
平均 といいます。



個数

ならした量

ジュースの量の合計

個数

$$\begin{aligned}
 & (55 + 85 + 75 + 80 + 65 + 60) \div 6 \\
 & = 420 \div 6 \\
 & = 70 \text{ ならした量} \quad \left[70\text{mL} \right]
 \end{aligned}$$

④ 確認 答え

