



# 分数のたし算とひき算 1

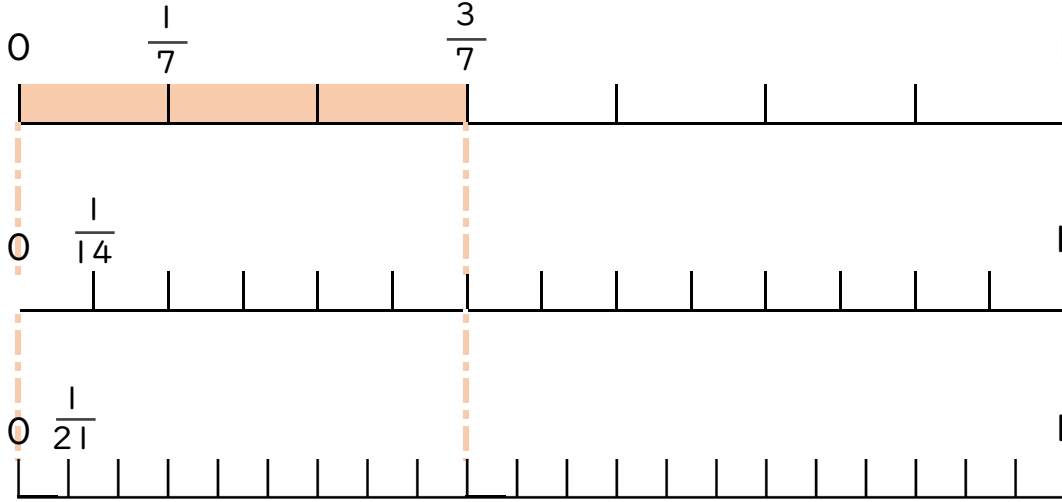
◎ 数直線と大きさの等しい分数



日にち：            月            日

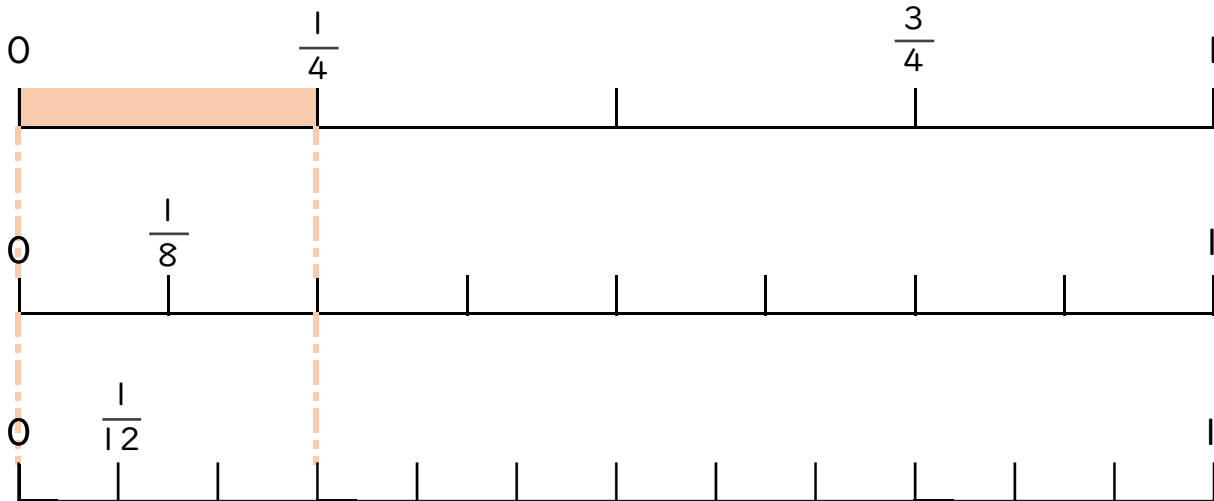
名まえ \_\_\_\_\_

1  $\frac{3}{7}$  と大きさの等しい分数を2つ見つけましょう(うすい字はなぞろう)



答え  $\frac{6}{14}$  と  $\frac{9}{21}$

2  $\frac{1}{4}$  と大きさの等しい分数を2つ見つけましょう。



答え \_\_\_\_\_



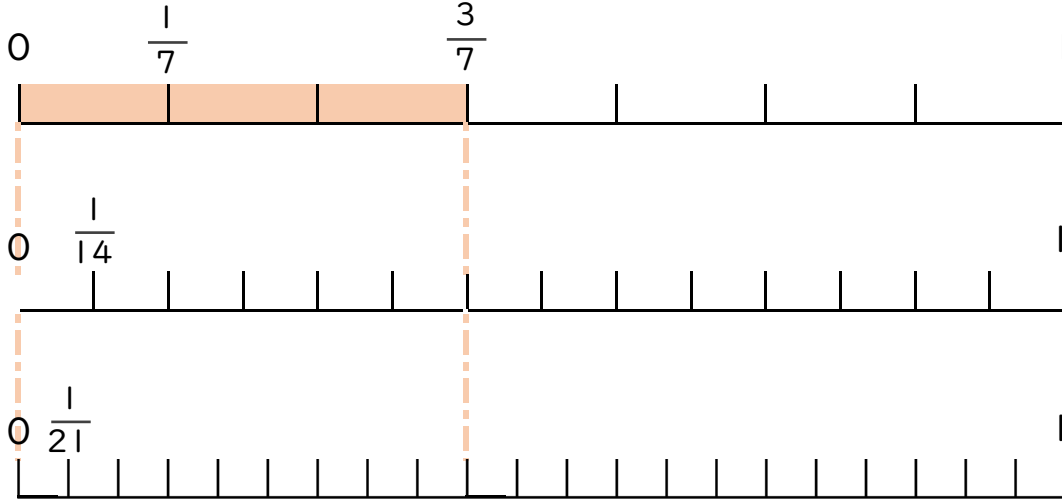
分数のたし算とひき算 I  
 ◎ 数直線と大きさの等しい分数



日にち：            月            日

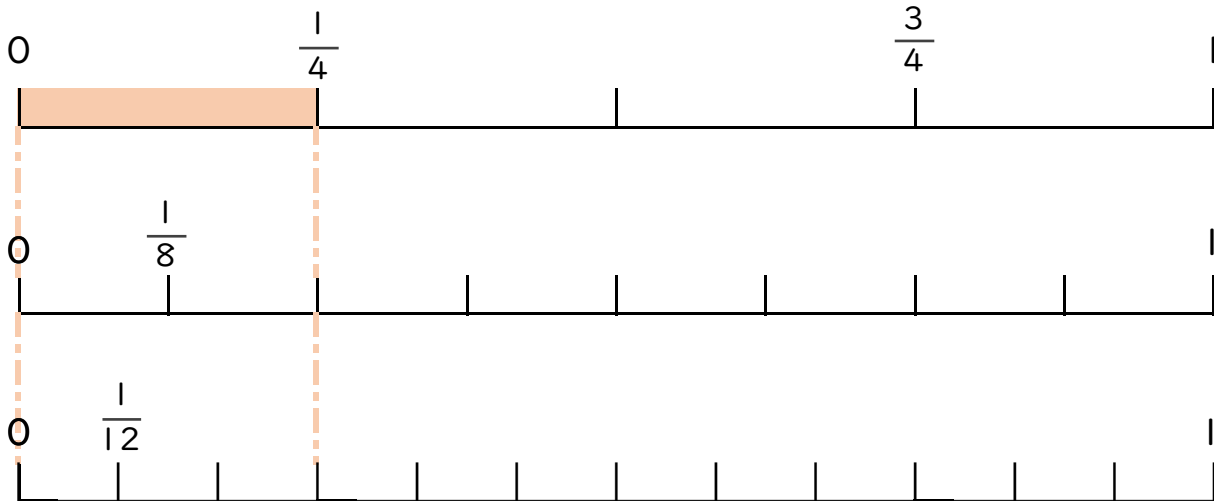
名まえ \_\_\_\_\_

1  $\frac{3}{7}$  と大きさの等しい分数を2つ見つけましょう(うすい字はなぞろう)



答え  $\frac{6}{14}$  と  $\frac{9}{21}$

2  $\frac{1}{4}$  と大きさの等しい分数を2つ見つけましょう。



答え  $\frac{2}{8}$  と  $\frac{3}{12}$