



分数のたし算とひき算 I

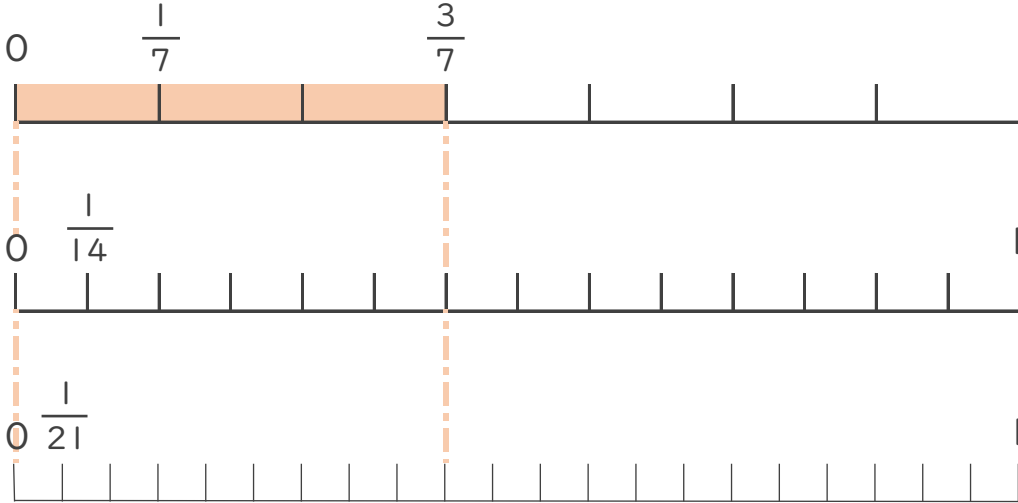
◎ 数直線と大きさの等しい分数



日にち： 月 日

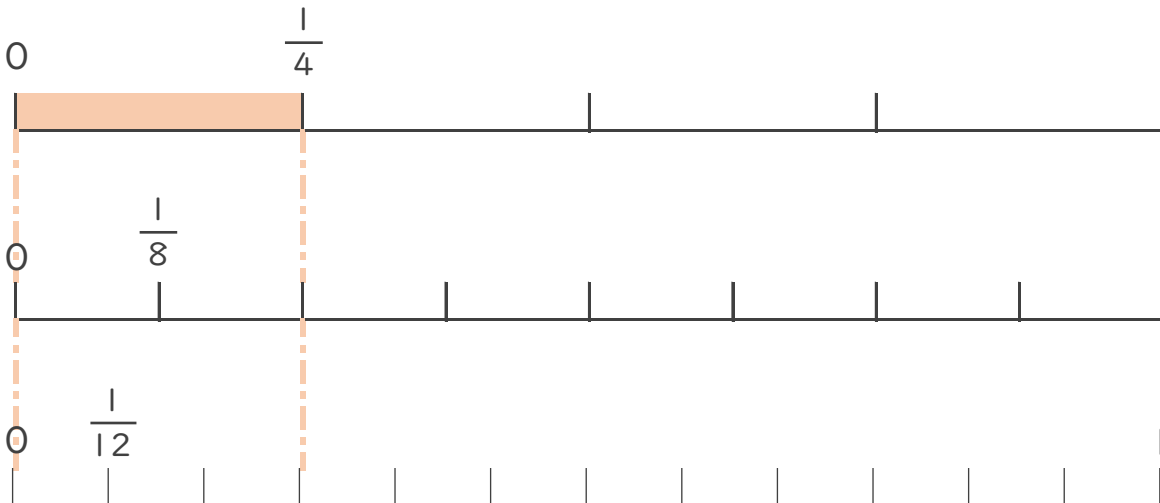
名まえ _____

1 $\frac{3}{7}$ と大きさの等しい分数を2つ見つけましょう。
(うすい字は、なぞりましょう。)



答え $\frac{6}{14}$ と $\frac{9}{21}$

2 $\frac{1}{4}$ と大きさの等しい分数を2つ見つけましょう。



答え _____



分数のたし算とひき算 I

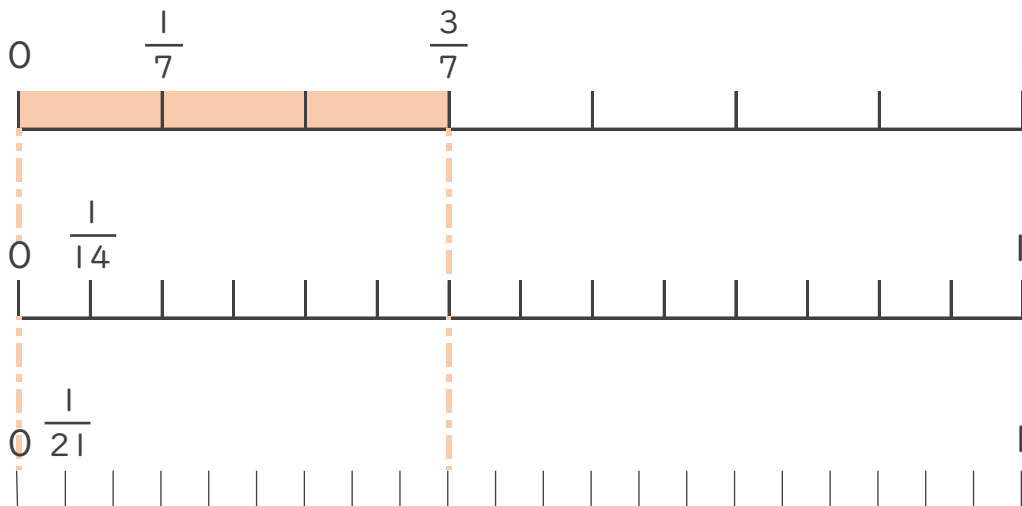
◎ 数直線と大きさの等しい分数



日にち： 月 日

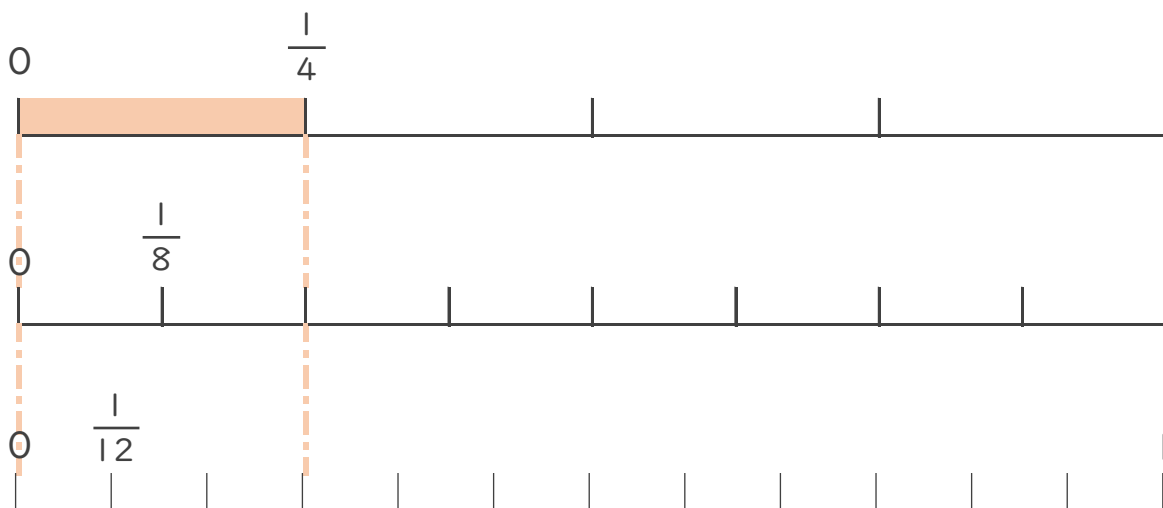
名まえ _____

- 1 $\frac{3}{7}$ と大きさの等しい分数を2つ見つけましょう。
 (うすい字は、なぞりましょう。)



答え $\frac{6}{14}$ と $\frac{9}{21}$

- 2 $\frac{1}{4}$ と大きさの等しい分数を2つ見つけましょう。



答え $\frac{2}{8}$ と $\frac{3}{12}$