



角柱と円柱 4



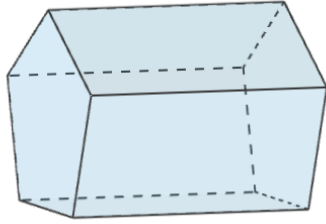
● 横にたおれた角柱

日にち： 月 日

名まえ _____

・次のような角柱があります、何という角柱ですか。□にあうことばを書き、
{ }の中の正しいものを○で囲みましょう。

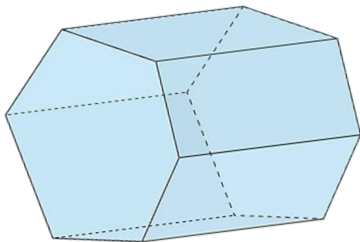
①



・この角柱は、□の形が □だから、

{ 四角柱 ・ 五角柱 ・ 六角柱 } です。

②



・この角柱は、□の形が □だから、

{ 四角柱 ・ 五角柱 ・ 六角柱 } です。





角柱と円柱 4



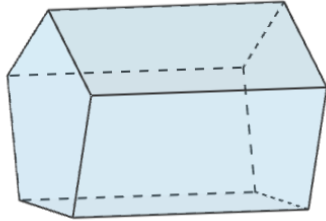
◎ 横にたおれた角柱

日にち： 月 日

名まえ _____

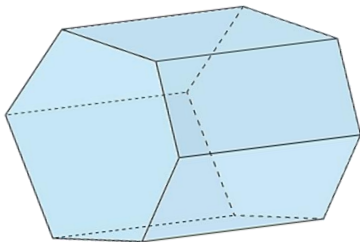
・次のような角柱があります、何という角柱ですか。□にあうことばを書き、
{ }の中の正しいものを○で囲みましょう。

①



・この角柱は、**底面**の形が**五角形**だから、
{ 四角柱 ・ **五角柱** ・ 六角柱 } です。

②



・この角柱は、**底面**の形が**六角形**だから、
{ 四角柱 ・ 五角柱 ・ **六角柱** } です。

