





直方体や  
立方体の体積 3

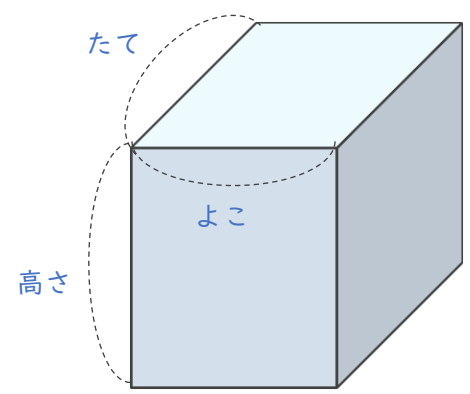
◎ 直方体の体積を求める公式

4

日にち：        月        日  
名まえ \_\_\_\_\_

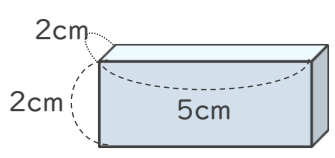
1 次の式は、直方体の体積を求める公式です。□にあてはまる言葉を書きましょう。

直方体の体積 = たて × 横 × 高さ

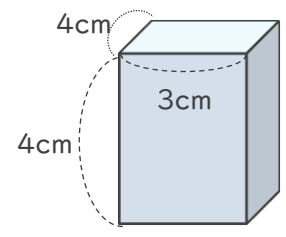


2 直方体の体積を求めましょう。

①



②



式：  $2 \times 5 \times 2 = 20$

式：  $4 \times 3 \times 4 = 48$

答え (  $20\text{cm}^3$  )

答え (  $48\text{cm}^3$  )