



小数のわり算20

◎ 真小数÷帯小数の文章題

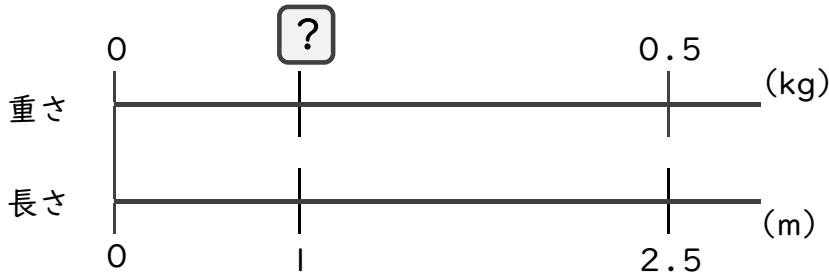


日にち： 月 日

名まえ _____

・ 次の問いに答えましょう。(うすい字は、なぞりましょう。)

1 2.5 mの重さが、0.5 kgのホースがあります。このホースの1 mあたりの重さは何kgになるでしょうか。



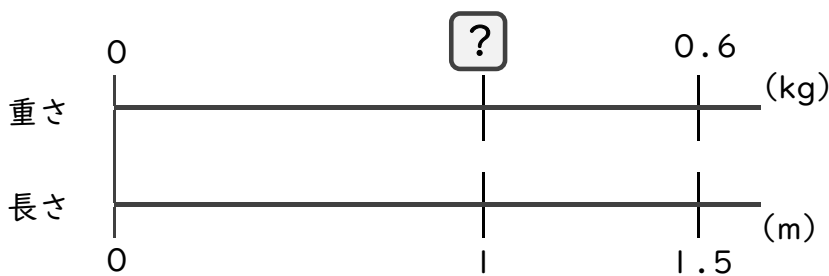
式： × 2.5 = 0.5

= 0.5 ÷ 2.5

=

答え： _____ kg

2 1.5 mの重さが、0.6 kgのホースがあります。このホースの1 mあたりの重さは何kgになるでしょうか。



式： × =

=

=

答え： _____



小数のわり算20

◎ 真小数÷帯小数の文章題

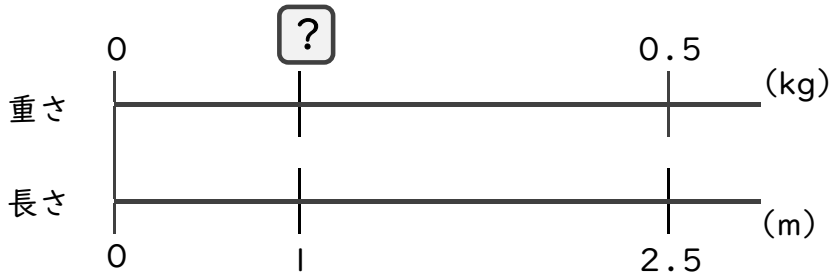


日にち： 月 日

名まえ _____

・ 次の問いに答えましょう。(うすい字は、なぞりましょう。)

1 2.5 mの重さが、0.5 kgのホースがあります。このホースの1 mあたりの重さは何kgになるでしょうか。



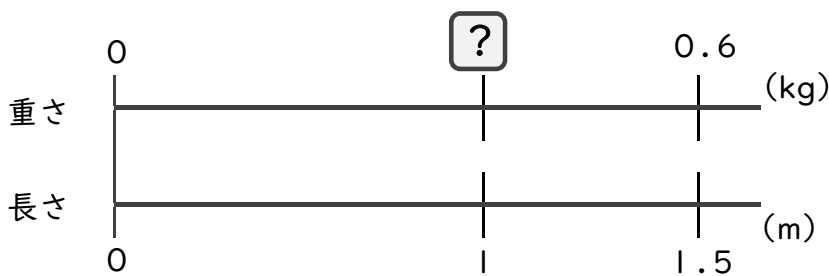
式： × 2.5 = 0.5

= 0.5 ÷ 2.5

= 0.2

答え：0.2 kg

2 1.5 mの重さが、0.6 kgのホースがあります。このホースの1 mあたりの重さは何kgになるでしょうか。



式： × 1.5 = 0.6

= 0.6 ÷ 1.5

= 0.4

答え：0.4 kg

