



小数の倍2

◎ 短いリボンは
長いリボンの何倍？

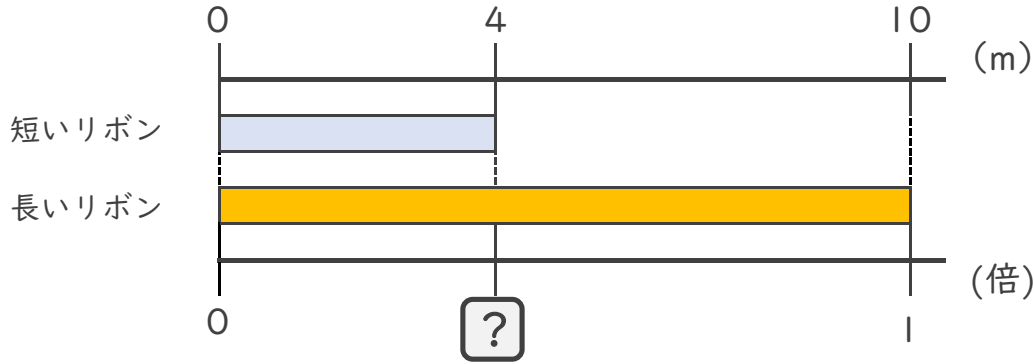


日にち： 月 日

名まえ _____

・ 次の問いに答えましょう。(うすい字は、なぞりましょう。)

① 短いリボンは長いリボンの何倍ですか。



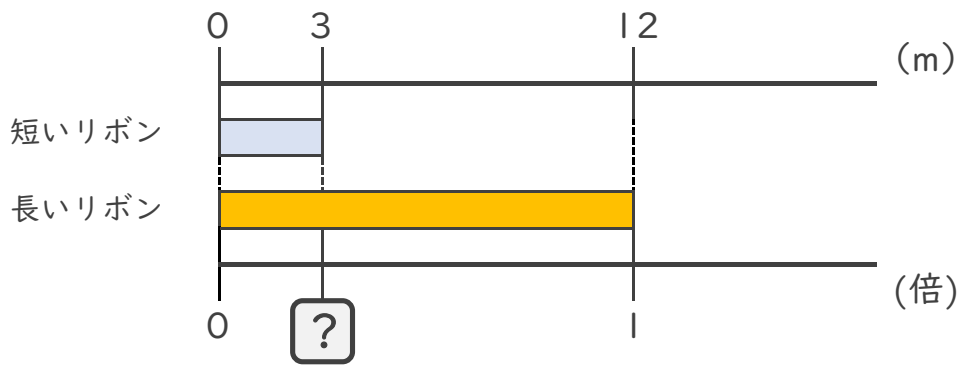
式： $10 \times \square =$

$\square = \div$

$\square =$

答え： _____ 倍

② 短いリボンは長いリボンの何倍ですか。



式： $\times \square =$

$\square = \div$

$\square =$

答え： _____





小数の倍2

◎ 短いリボンは
長いリボンの何倍？

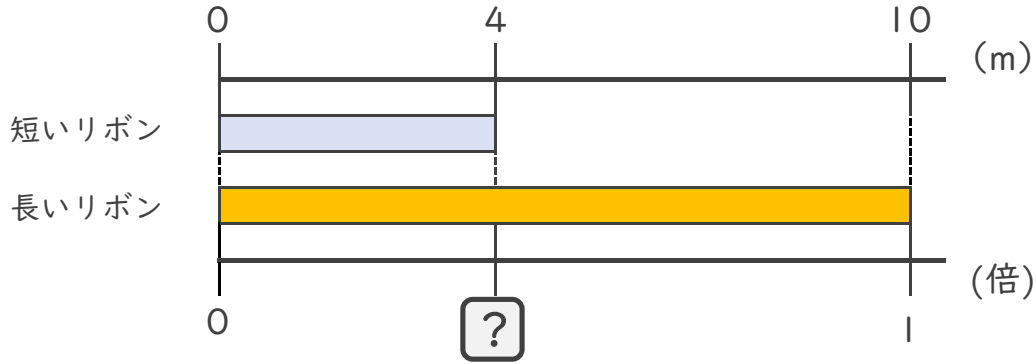


日にち： 月 日

名まえ _____

・ 次の問いに答えましょう。(うすい字は、なぞりましょう。)

① 短いリボンは長いリボンの何倍ですか。



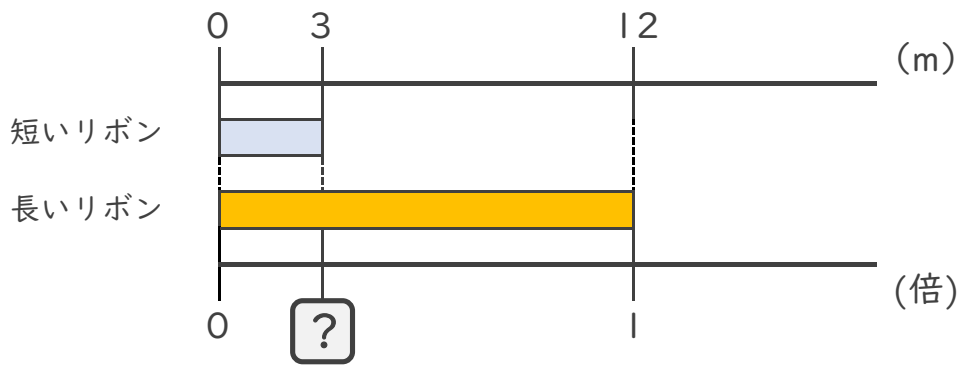
式： $10 \times \square = 4$

$\square = 4 \div 10$

$\square = 0.4$

答え： 0.4倍

② 短いリボンは長いリボンの何倍ですか。



式： $12 \times \square = 3$

$\square = 3 \div 12$

$\square = 0.25$

答え： 0.25倍

