



角柱と円柱



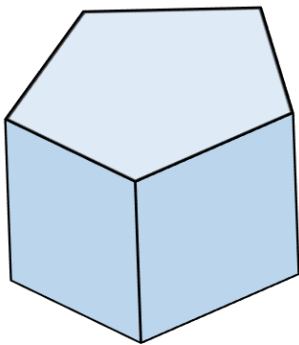
◎ 立体を調べる

日にち： 月 日


名まえ _____

・ 次の立体を、立体を囲む面かこに注目して、2つのグループに分けて に
① ~ ⑤ を書きましょう。

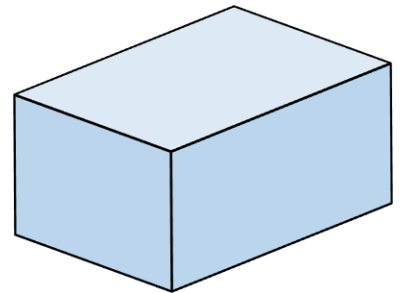
①



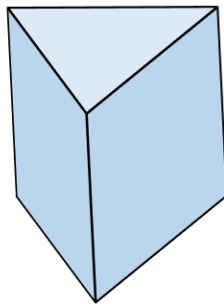
②



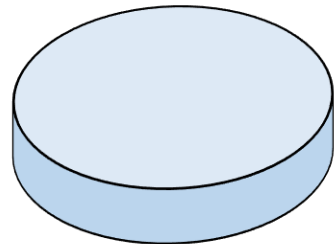
③



④



⑤



1つめのグループ

2つめのグループ





角柱と円柱



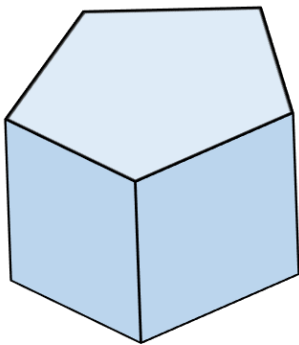
◎ 立体を調べる

日にち： 月 日


名まえ _____

・ 次の立体を、立体を囲む面かこに注目して、2つのグループに分けて に
① ~ ⑤ を書きましょう。

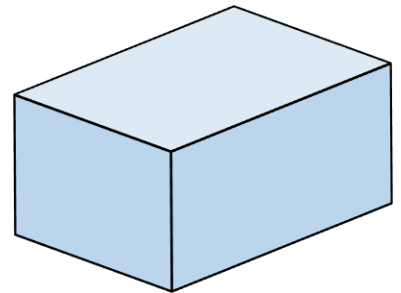
①



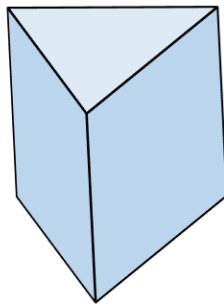
②



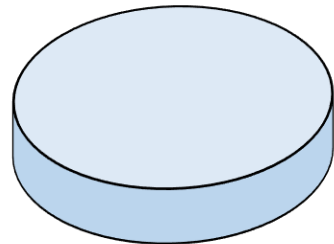
③



④



⑤



1つめのグループ

①、③、④

2つめのグループ

②、⑤