

# 図形の角 9

◎ 色々な  
多角形の名前

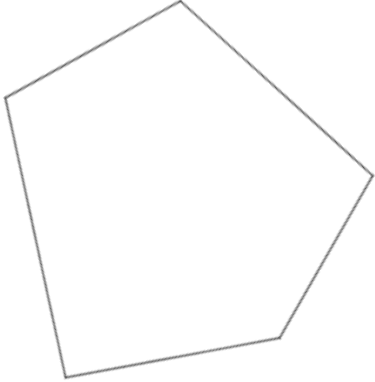


日にち：            月            日

名まえ \_\_\_\_\_

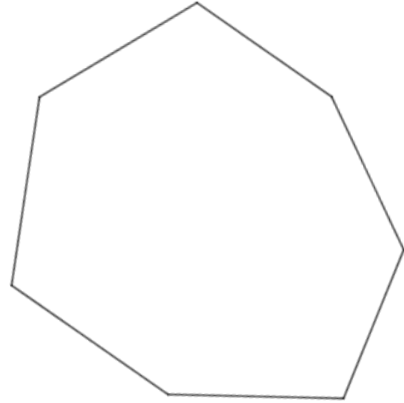
・ 次の多角形の名前を答えましょう。

①



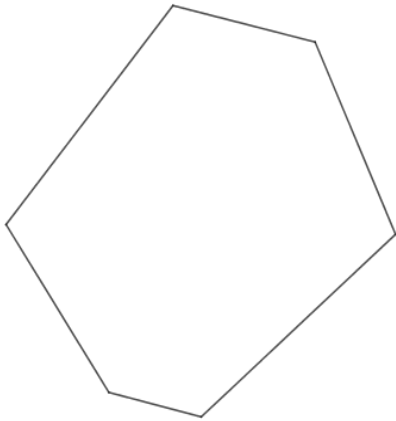
答え： \_\_\_\_\_

②



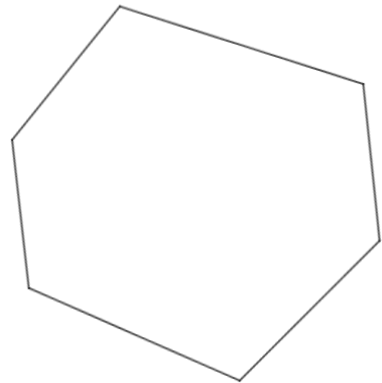
答え： \_\_\_\_\_

③



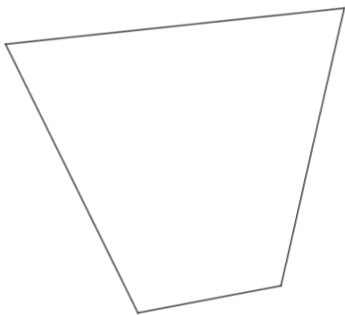
答え： \_\_\_\_\_

④



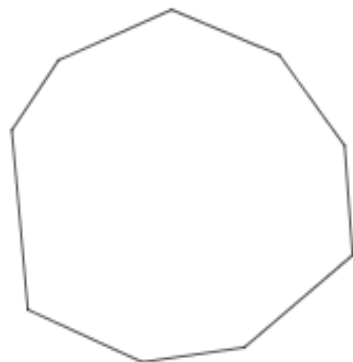
答え： \_\_\_\_\_

⑤



答え： \_\_\_\_\_

⑥



答え： \_\_\_\_\_



# 図形の角 9

◎ 色々な  
多角形の名前




日にち：            月            日

名まえ \_\_\_\_\_

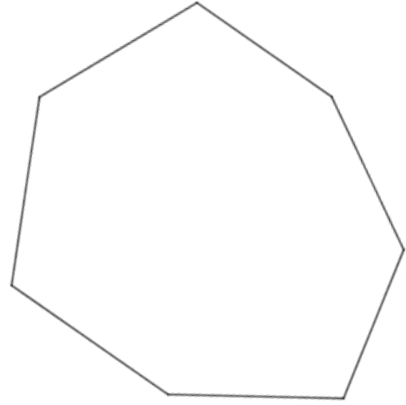
・ 次の多角形の名前を答えましょう。

①



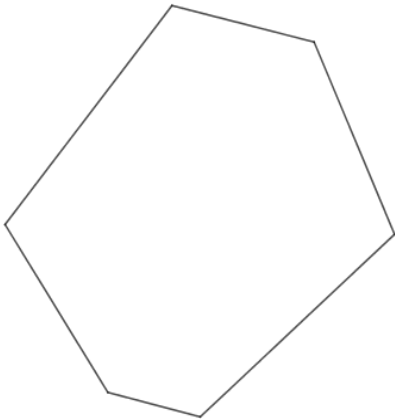
答え： **五角形**

②



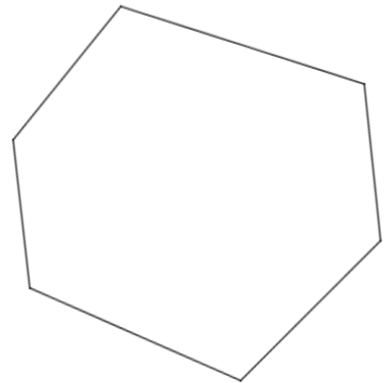
答え： **七角形**

③



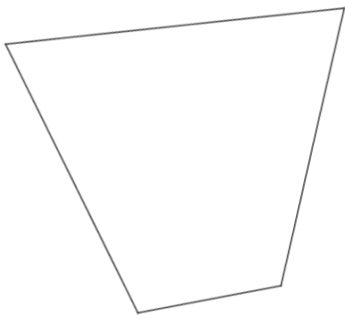
答え： **六角形**

④



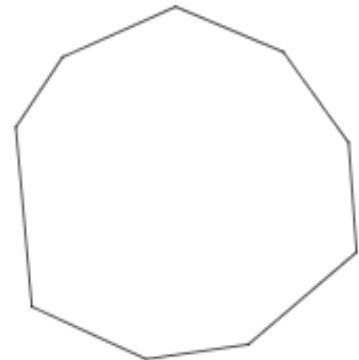
答え： **六角形**

⑤



答え： **四角形**

⑥



答え： **九角形**