

小数の倍①

◎ 長いリボンは
短いリボンの何倍？

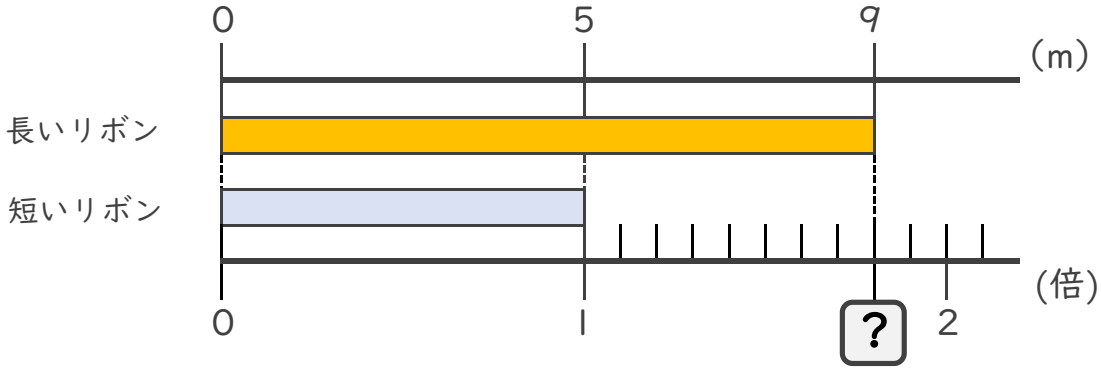


日にち： 月 日

名まえ _____

・ 次の問いに答えましょう。

① 長いリボンは短いリボンの何倍でしょうか？



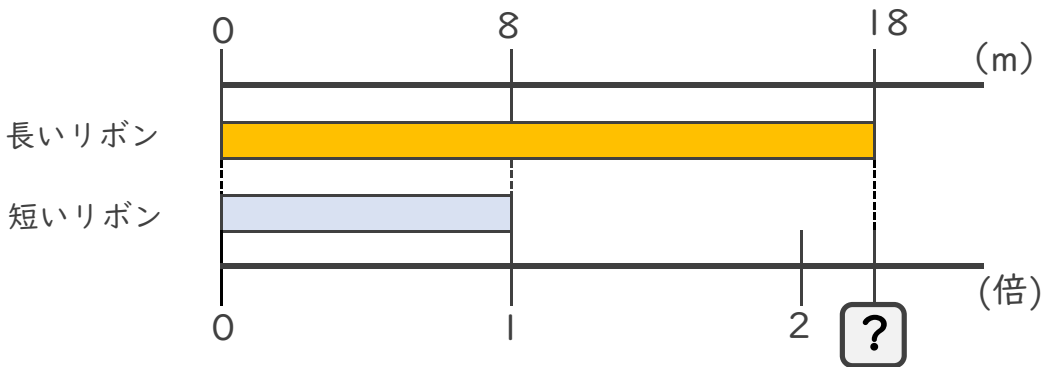
式： $5 \times \square = 9$

$\square = 9 \div 5$

$\square =$

答え： _____ 倍

② 長いリボンは短いリボンの何倍でしょうか？




式： $8 \times \square = 18$

$\square =$ \div

$\square =$

答え： _____





小数の倍!

◎ 長いリボンは
短いリボンの何倍?

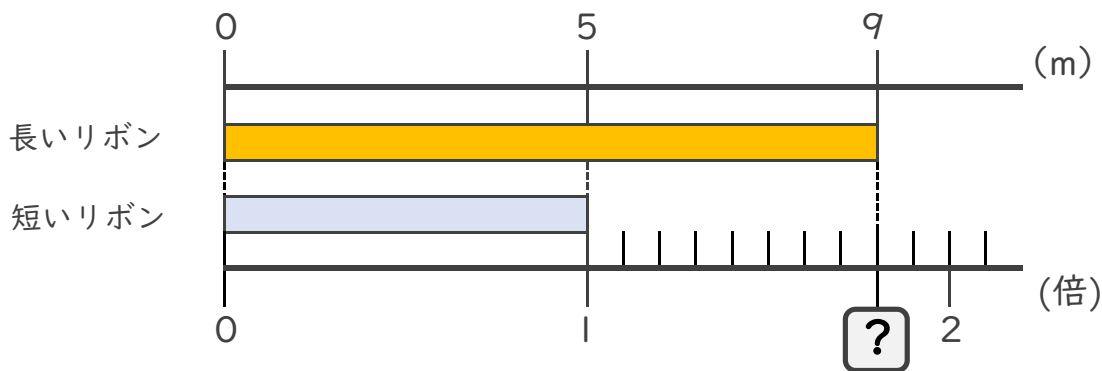


日にち： 月 日

名まえ _____

・ 次の問いに答えましょう。

① 長いリボンは短いリボンの何倍でしょうか?



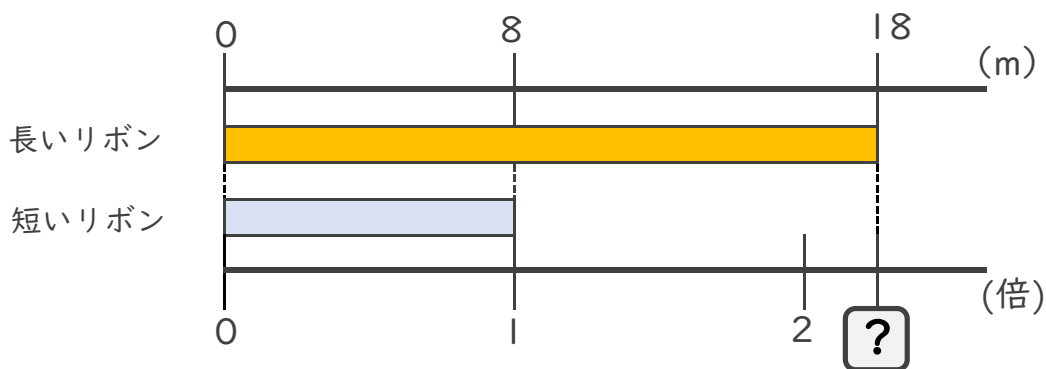
式： $5 \times \square = 9$

$\square = 9 \div 5$

$\square = 1.8$

答え： 1.8倍

② 長いリボンは短いリボンの何倍でしょうか?



式： $8 \times \square = 18$

$\square = 18 \div 8$

$\square = 2.25$

答え： 2.25倍

