



四角形と
三角形の面積 3

● 高さが外にある
平行四辺形の面積

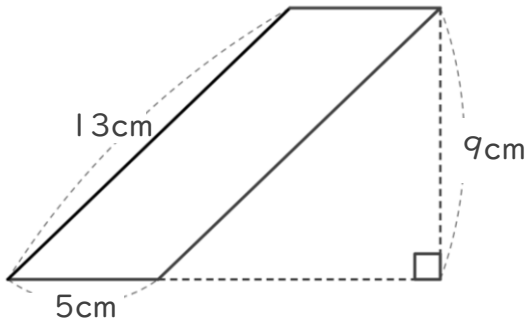


日にち： 月 日

名まえ _____

・ 次の平行四辺形の面積を計算でもとめましょう。
(うすい字はなぞりましょう。)

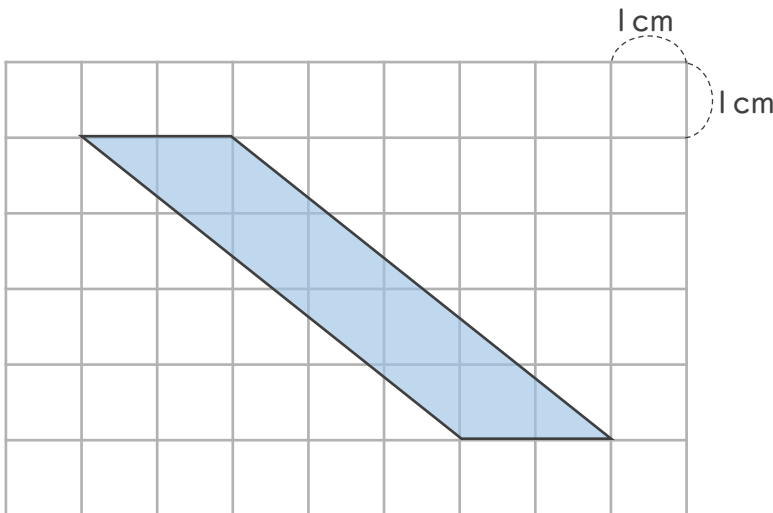
①



式：

答え： _____

②



式：

答え： _____





四角形と
三角形の面積 3

● 高さが外にある
平行四辺形の面積

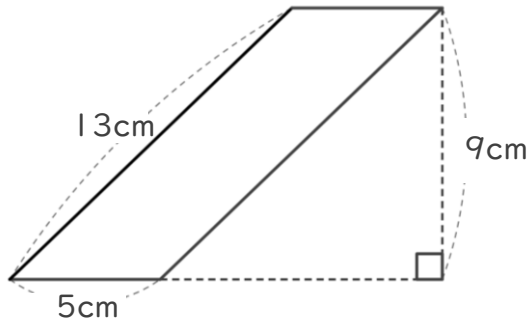


日にち： 月 日

名まえ _____

- ・ 次の平行四辺形の面積を計算でもとめましょう。
(うすい字はなぞりましょう。)

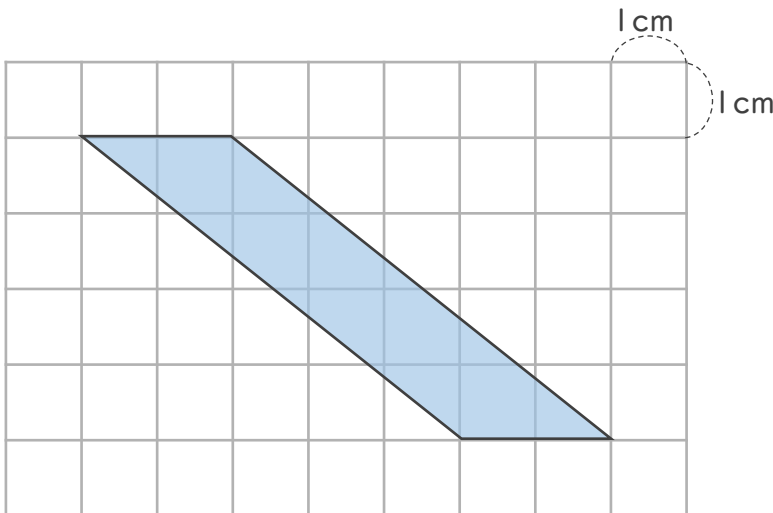
①



式： $5 \times 9 = 45$

答え： 45 cm^2

②



式： $2 \times 4 = 8$

答え： 8 cm^2