



単位数あたりの  
大きさ 3

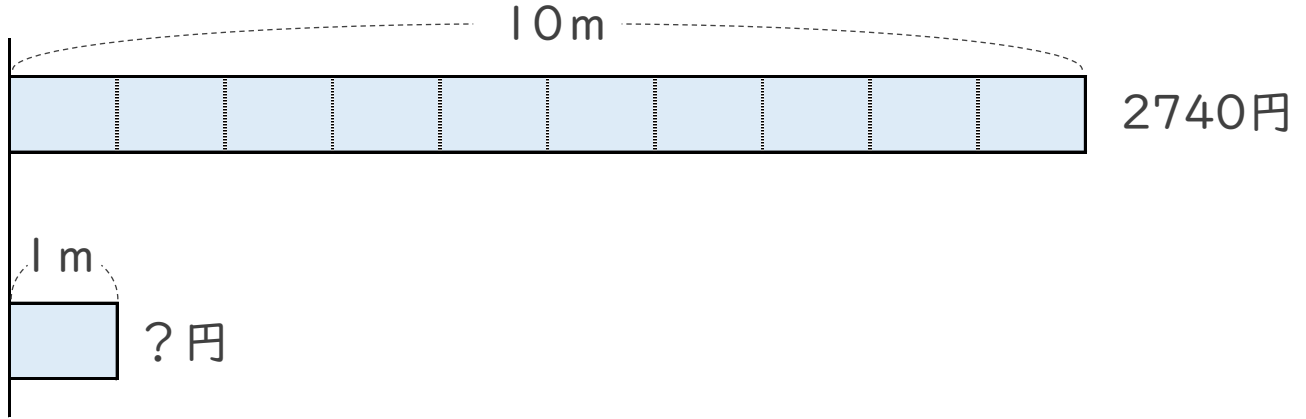


● 1あたりの量を求める

日にち：            月            日

名まえ \_\_\_\_\_

1 10mで2740円のリボンがあります。1mのねだんはいくらでしょう。

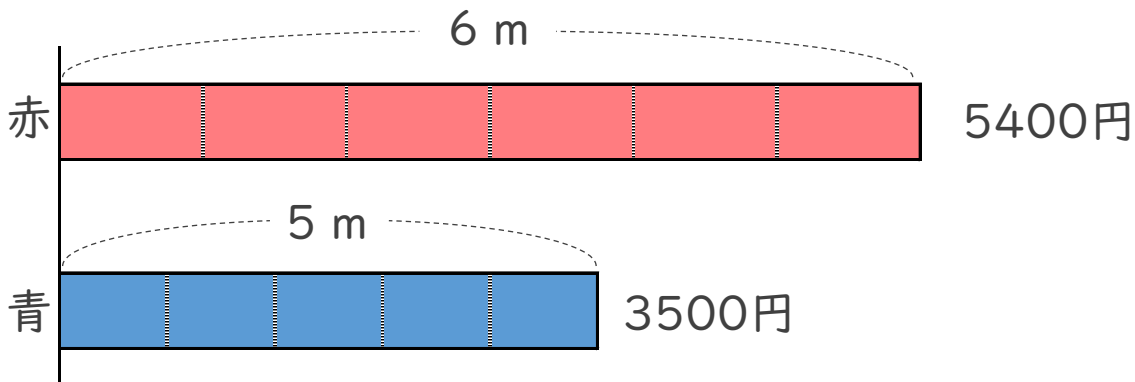


式：

答え： \_\_\_\_\_

2 6mで5400円の赤い布と、5mで3500円の青い布があります。

1mあたりのねだんを比べると、どちらが安いでしょう。



赤の式：

青の式：

答え： \_\_\_\_\_





単位数あたりの  
大きさ 3

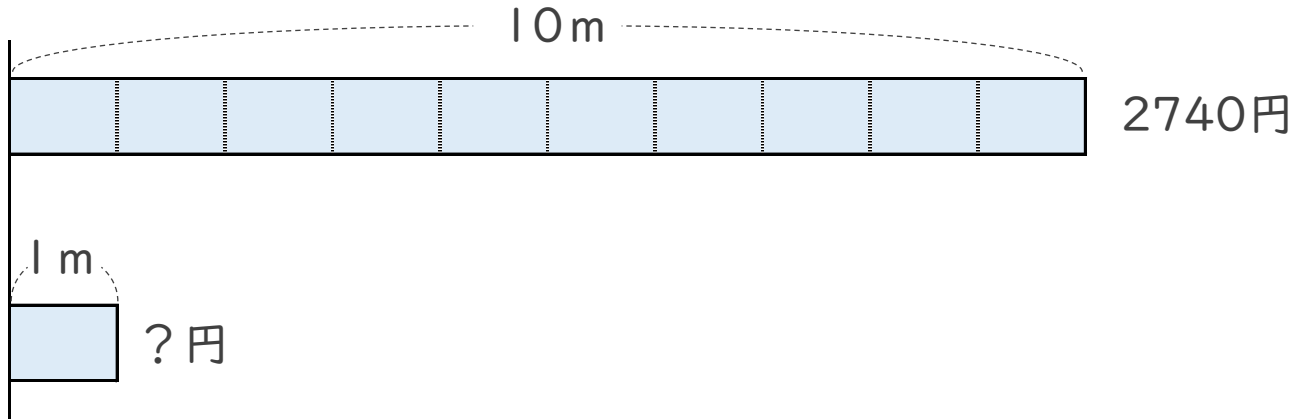


① 1あたりの量を求める

日にち：            月            日

名まえ \_\_\_\_\_

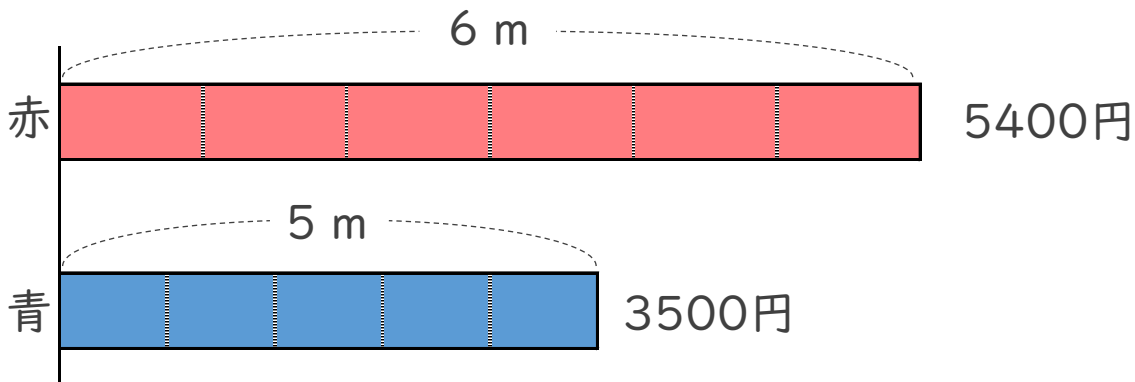
1 10mで2740円のリボンがあります。1mのねだんはいくらでしょう。



式： $2740 \div 10 = 274$

答え：274 円

2 6mで5400円の赤い布と、5mで3500円の青い布があります。  
1mあたりのねだんを比べると、どちらが安いでしょう。



赤の式： $5400 \div 6 = 900$

青の式： $3500 \div 5 = 700$

答え：青い布

