



小数のわり算 18

◎ あまりのあるわり算
(商が整数)



日にち： 月 日

名まえ _____

- ・ 商は一の位まで求めて、あまりも出しましょう。
(うすい字は、なぞりましょう。)

① $6.6 \div 1.7$

			3	
1	7	6	6	

② $36.8 \div 4.1$

				8
4	1	3	6	8

③ $86.7 \div 6.6$

			1	
6	6	8	6	7
		6	6	

④ $59.7 \div 2.8$

⑤ $8.6 \div 2.5$

⑥ $6.4 \div 4.4$



小数のわり算 18

㊦ あまりのあるわり算
(商が整数)

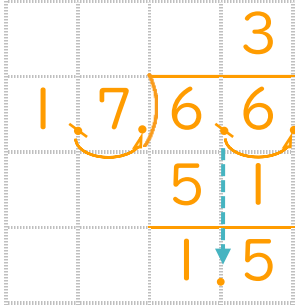


日にち： 月 日

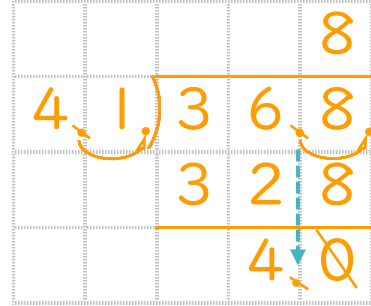
名まえ _____

- ・ 商は一の位まで求めて、あまりも出しましょう。
(うすい字は、なぞりましょう。)

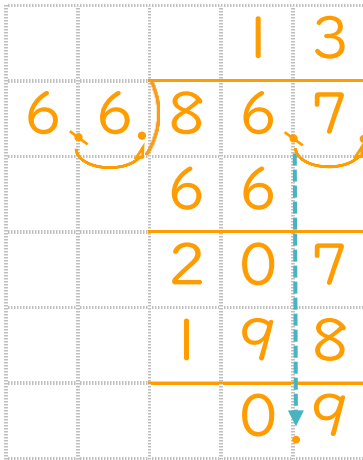
① $6.6 \div 1.7$



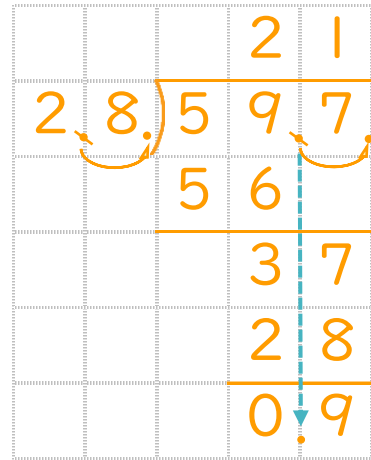
② $36.8 \div 4.1$



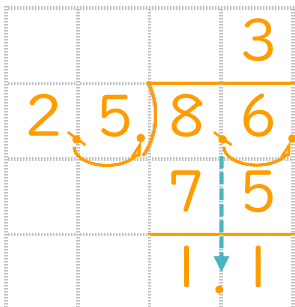
③ $86.7 \div 6.6$



④ $59.7 \div 2.8$



⑤ $8.6 \div 2.5$



⑥ $6.4 \div 4.4$

