



小数の倍3

◎ リボンを小数倍した長さ

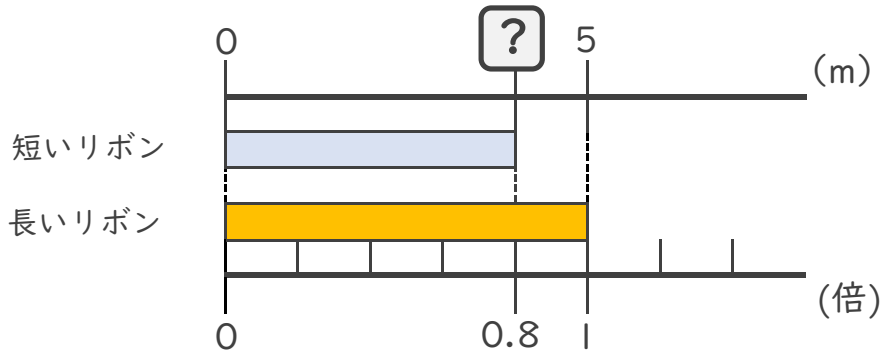


日にち： 月 日

名まえ _____

・ 次の問いに答えましょう。

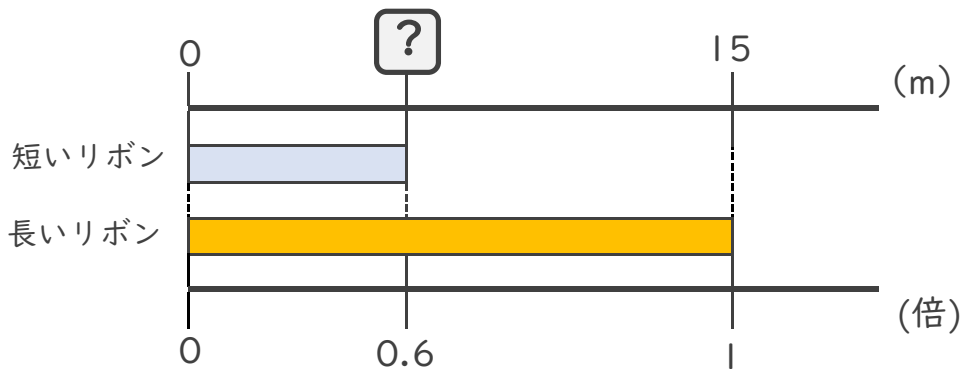
① 短いリボンは長いリボンの0.7倍の長さです。短いリボンの長さをもとめましょう。



式：

答え： _____

② 短いリボンは長いリボンの0.6倍の長さです。短いリボンの長さをもとめましょう。



式：

答え： _____

③ 5mの赤いリボンがあります。青いリボンは赤いリボンの0.4倍の長さです。青いリボンの長さをもとめましょう。

式： $5 \times 0.4 =$

答え： _____





小数の倍3

◎ リボンを小数倍した長さ

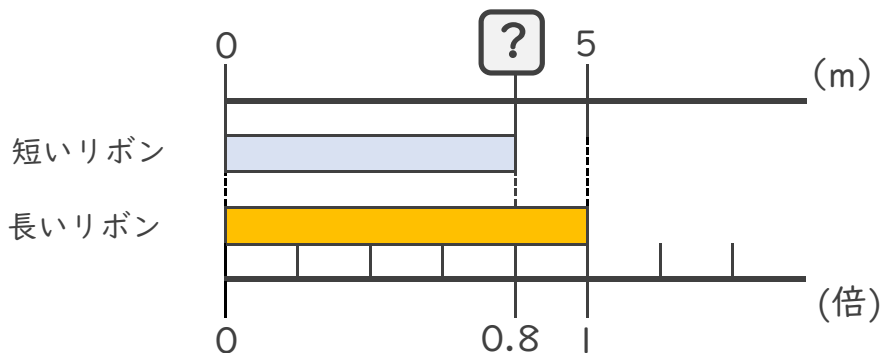


日にち： 月 日

名まえ _____

・ 次の問いに答えましょう。

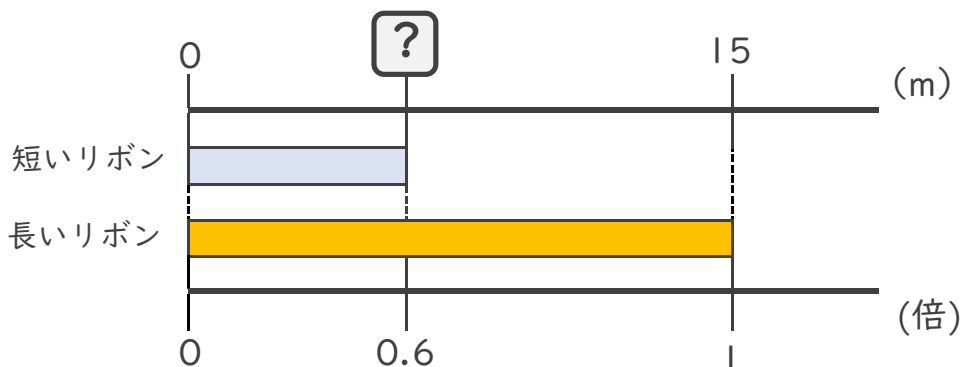
① 短いリボンは長いリボンの0.7倍の長さです。短いリボンの長さをもとめましょう。



式： $5 \times 0.8 = 4$

答え： 4m

② 短いリボンは長いリボンの0.6倍の長さです。短いリボンの長さをもとめましょう。



式： $15 \times 0.6 = 9$

答え： 9m

③ 5mの赤いリボンがあります。青いリボンは赤いリボンの0.4倍の長さです。青いリボンの長さをもとめましょう。

式： $5 \times 0.4 = 2$

答え： 2m

