



直方体や 立方体の体積 9

5

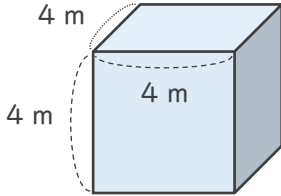
● m^3 で表す体積を求める

日にち： 月 日

名まえ _____

・ 次の立方体や直方体の体積を求めましょう。

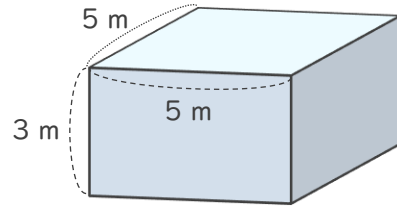
①



式：

答え（ ）

②



式：

答え（ ）

③ たて7 m、横5 m、高さ4 mの直方体

式：

答え（ ）

④ 1辺が5 mの立方体

式：

答え（ ）



直方体や 立方体の体積 9

● m^3 で表す体積を求める

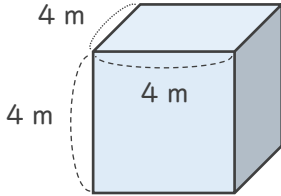
5

日にち： 月 日

名まえ _____

・ 次の立方体や直方体の体積を求めましょう。

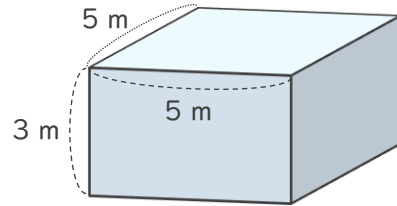
①



式： $4 \times 4 \times 4 = 64$

答え ($64 m^3$)

②



式： $5 \times 5 \times 3 = 75$

答え ($75 m^3$)

③ たて7 m、横5 m、高さ4 mの直方体

式： $7 \times 5 \times 4 = 140$

答え ($140 m^3$)

④ 1辺が5 mの立方体

式： $5 \times 5 \times 5 = 125$

答え ($125 m^3$)

