



# 直方体や 立方体の体積 9



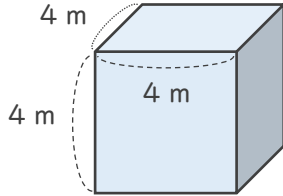
●  $\text{m}^3$ で表す体積を求める

日にち：            月            日

名まえ \_\_\_\_\_

・ 次の立方体や直方体の体積を求めましょう。

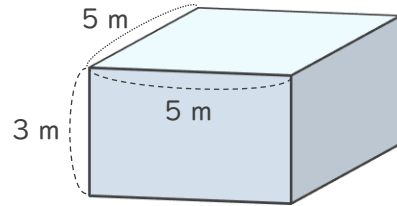
①



式：

答え (                            )

②



式：

答え (                            )

③ たて 7 m、横 5 m、高さ 4 m の直方体

式：

答え (                            )

④ 1 辺が 5 m の立方体

式：

答え (                            )



# 直方体や 立方体の体積 9

●  $m^3$ で表す体積を求める

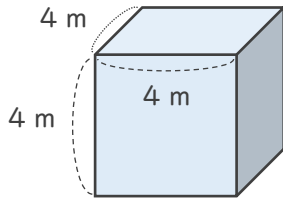
# 5

日にち：            月            日

名まえ \_\_\_\_\_

・ 次の立方体や直方体の体積を求めましょう。

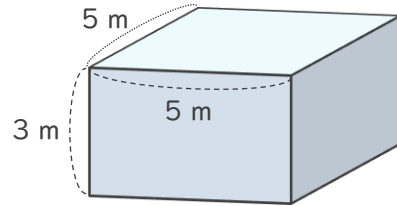
①



式：  $4 \times 4 \times 4 = 64$

答え (  $64 m^3$  )

②



式：  $5 \times 5 \times 3 = 75$

答え (  $75 m^3$  )

③ たて7 m、横5 m、高さ4 mの直方体

式：  $7 \times 5 \times 4 = 140$

答え (  $140 m^3$  )

④ 1辺が5 mの立方体

式：  $5 \times 5 \times 5 = 125$

答え (  $125 m^3$  )

