



図形の角 3

◎ 三角形の外角



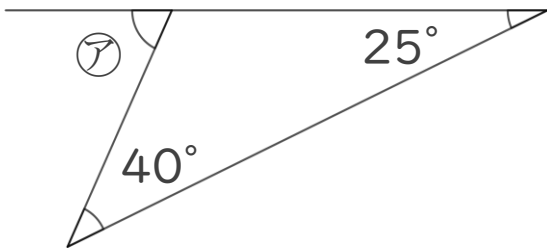
日にち： 月 日

名まえ _____

・ 次の図で、㉞～㉟の角度は何度ですか。
計算で求めましょう。(うすい字は、なぞりましょう。)

①

$$\text{㉞} = 25 + 40$$

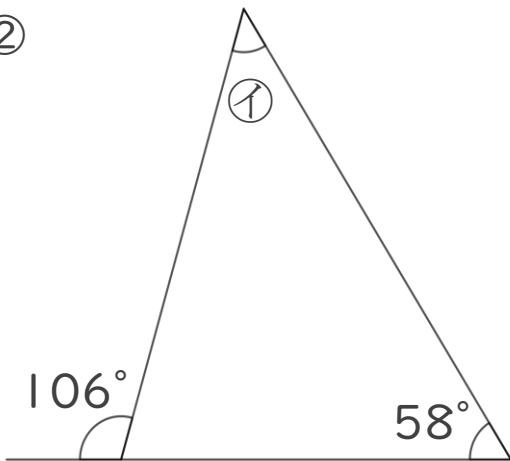


=

答え：

②

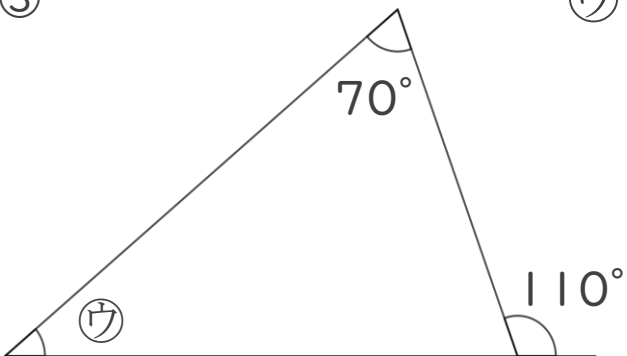
$$\text{㉞} =$$



答え：

③

$$\text{㉞} =$$



答え：



図形の角 3

● 三角形の外角



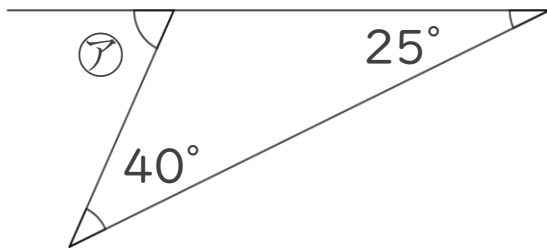
日にち： 月 日

名まえ _____

・次の図で、㉠～㉣の角度は何度ですか。
計算で求めましょう。(うすい字は、なぞりましょう。)

①

$$\text{㉠} = 25 + 40$$

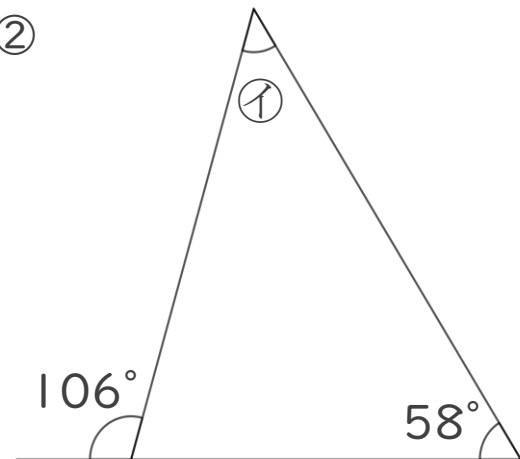


$$= 65$$

答え： 65°

②

$$\text{㉠} = 106 - 58$$

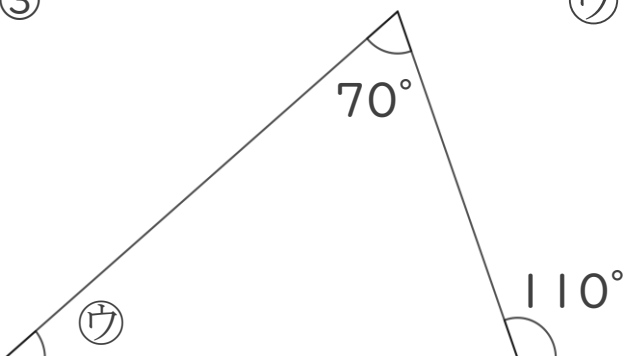


$$= 48$$

答え： 48°

③

$$\text{㉣} = 110 - 70$$



$$= 40$$

答え： 40°