



四角形と
三角形の面積 5

● 三角形の面積を求める公式

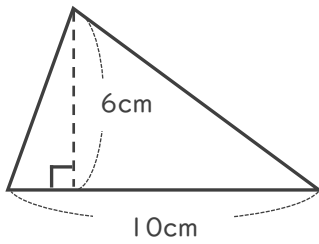


日にち： 月 日

名まえ _____

・ 次の三角形の面積を計算でもとめましょう。

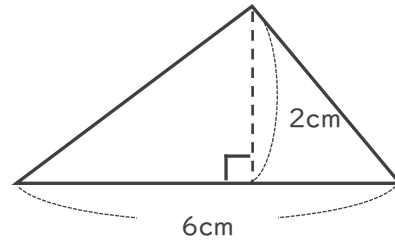
①



式：

答え： _____

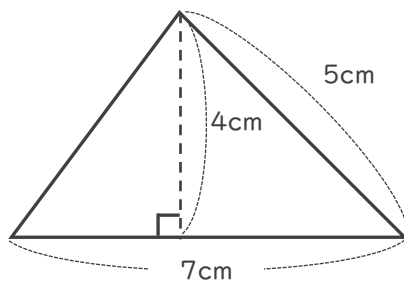
②



式：

答え： _____

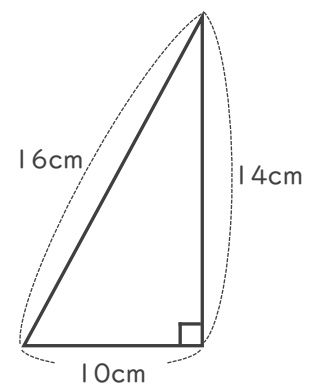
③



式：

答え： _____

④



式：

答え： _____



四角形と
三角形の面積 5

● 三角形の面積を求める公式

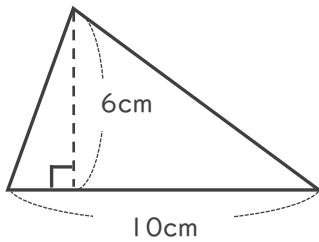


日にち： 月 日

名まえ _____

・ 次の三角形の面積を計算でもとめましょう。

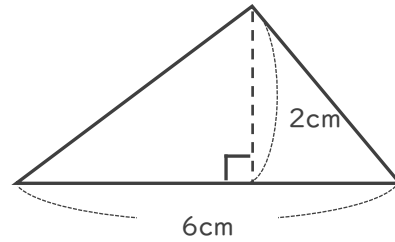
①



式： $10 \times 6 \div 2 = 30$

答え： 30cm^2

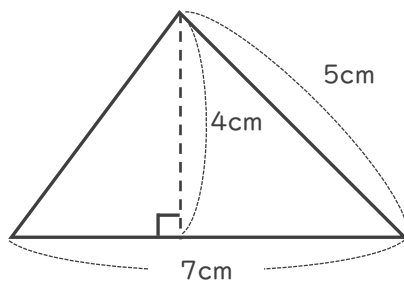
②



式： $6 \times 2 \div 2 = 6$

答え： 6cm^2

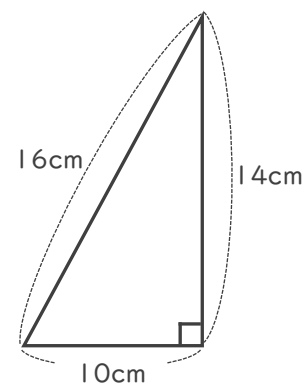
③



式： $7 \times 4 \div 2 = 14$

答え： 14cm^2

④



式： $10 \times 14 \div 2 = 70$

答え： 70cm^2

