



分数と小数  
整数の関係 3

● 分数の倍

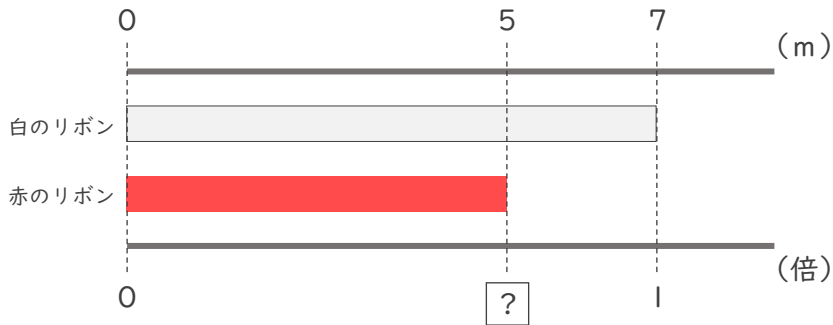


日にち： 月 日

名まえ \_\_\_\_\_

・次の問いに分数で答えましょう。(うすい字はなぞりましょう。)

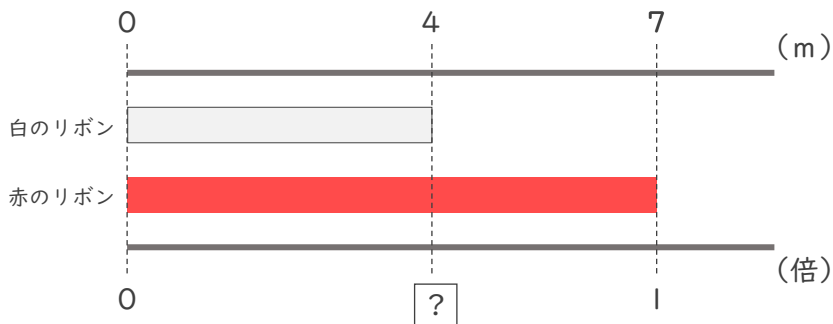
① 赤のリボンは白のリボンの何倍ですか。



式：  $5 \div 7 = \frac{5}{7}$

答え (  $\frac{5}{7}$  倍 )

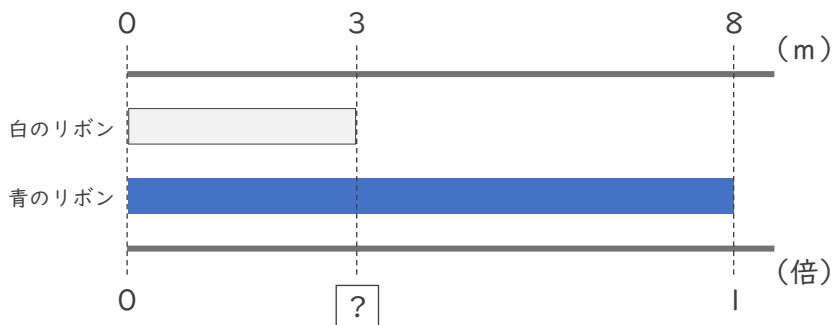
② 白のリボンは赤のリボンの何倍ですか。



式：  $4 \div 7 =$

答え ( 倍 )

③ 白のリボンは青のリボンの何倍ですか。



式：

答え ( 倍 )



分数と小数  
整数の関係 3

● 分数の倍

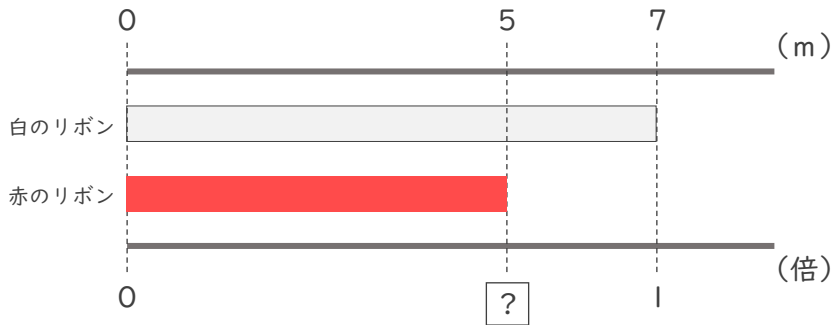


日にち： 月 日

名まえ \_\_\_\_\_

・次の問いに分数で答えましょう。(うすい字はなぞりましょう。)

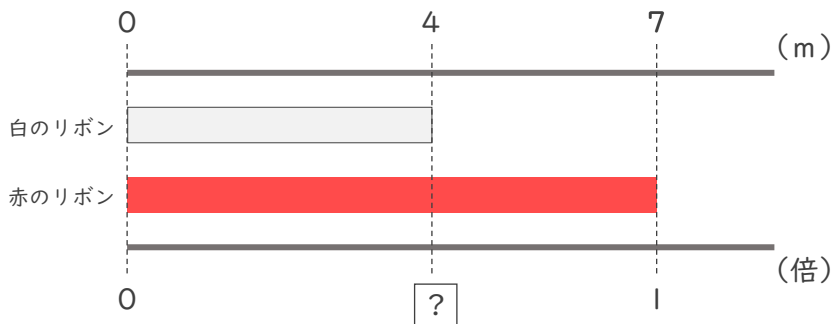
① 赤のリボンは白のリボンの何倍ですか。



式：  $5 \div 7 = \frac{5}{7}$

答え (  $\frac{5}{7}$  倍 )

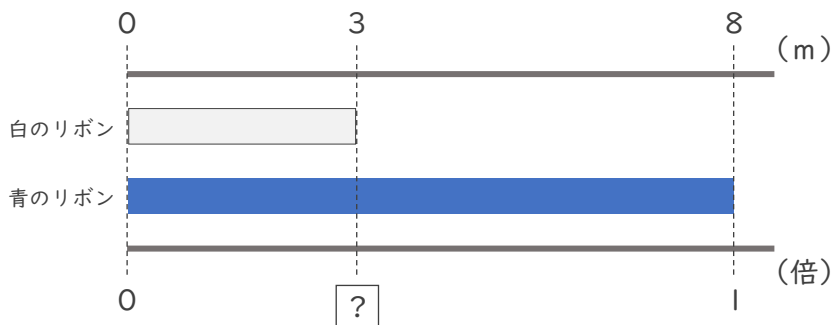
② 白のリボンは赤のリボンの何倍ですか。



式：  $4 \div 7 = \frac{4}{7}$

答え (  $\frac{4}{7}$  倍 )

③ 白のリボンは青のリボンの何倍ですか。



式：  $3 \div 8 = \frac{3}{8}$

答え (  $\frac{3}{8}$  倍 )