



四角形と
三角形の面積 2

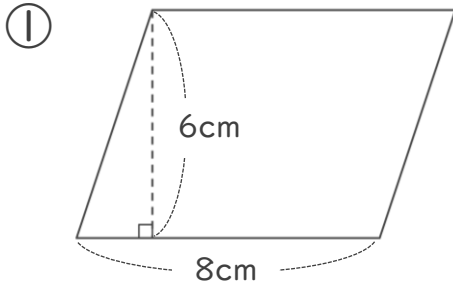
● 平行四辺形の
面積を求める公式



日にち： 月 日

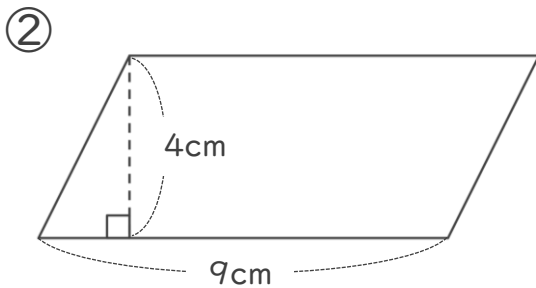
名まえ _____

・ 次の平行四辺形の面積を計算でもとめましょう。



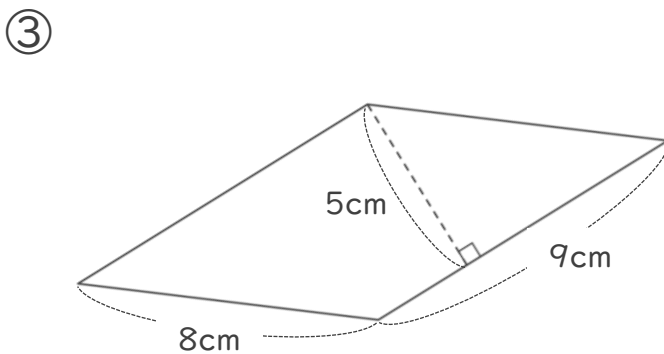
式：

答え： _____



式：

答え： _____



式：

答え： _____



四角形と
三角形の面積 2

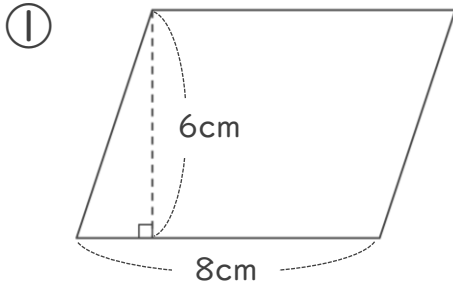
● 平行四辺形の
面積を求める公式



日にち： 月 日

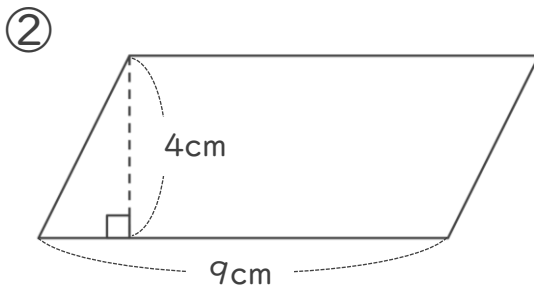
名まえ _____

・ 次の平行四辺形の面積を計算でもとめましょう。



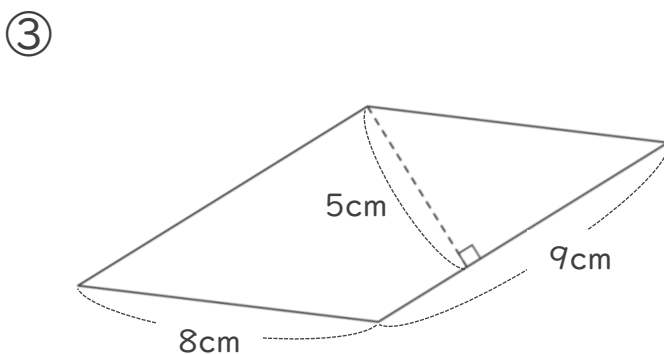
式： $8 \times 6 = 48$

答え： 48cm^2



式： $9 \times 4 = 36$

答え： 36cm^2



式： $9 \times 5 = 45$

答え： 45cm^2

