

分数のたし算とひき算 I

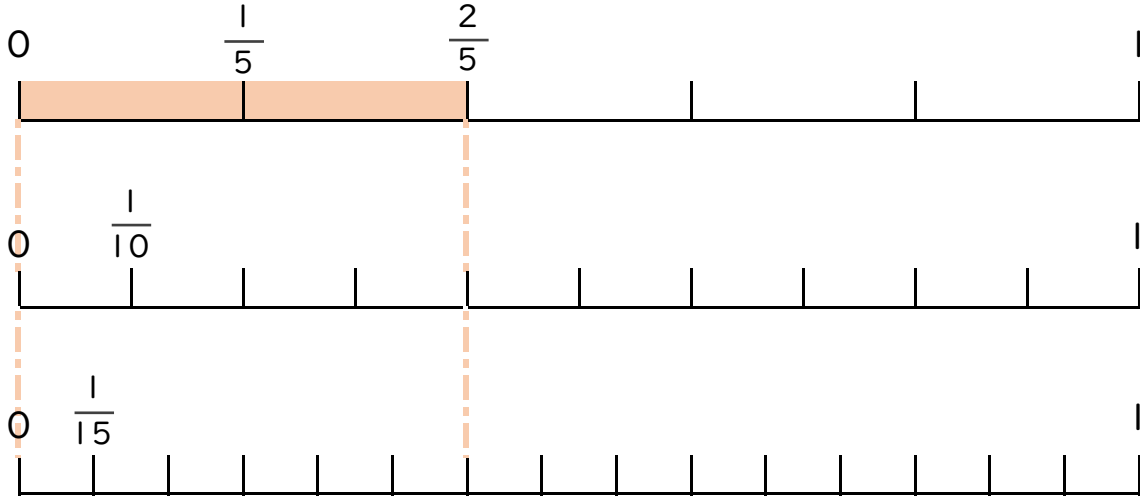
◎ 数直線と大きさの等しい分数



日にち： 月 日

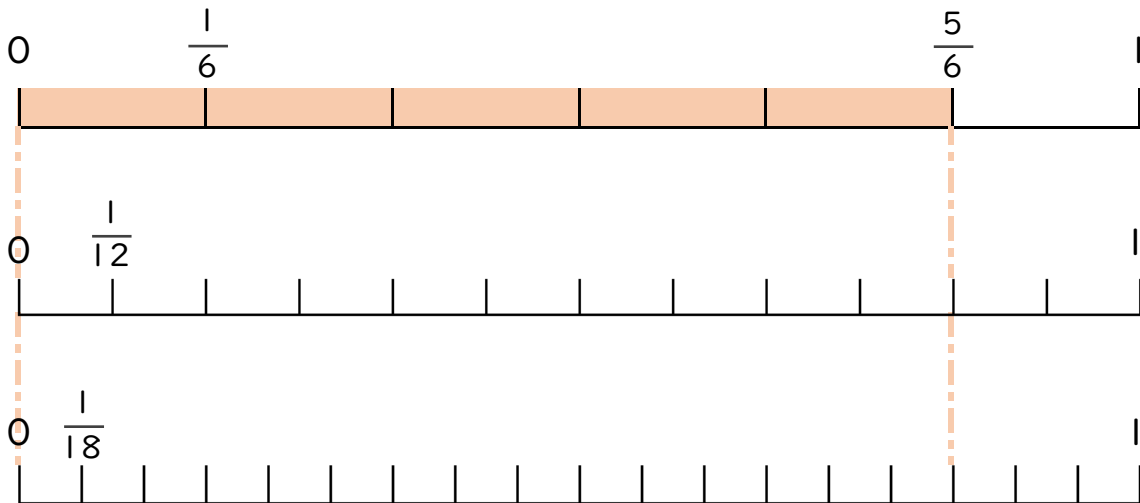
名まえ _____

1 $\frac{2}{5}$ と大きさの等しい分数を2つ見つけましょう(うすい字はなぞろう)




答え $\frac{4}{10}$ と $\frac{6}{15}$

2 $\frac{5}{6}$ と大きさの等しい分数を2つ見つけましょう。



答え _____



分数のたし算とひき算 I

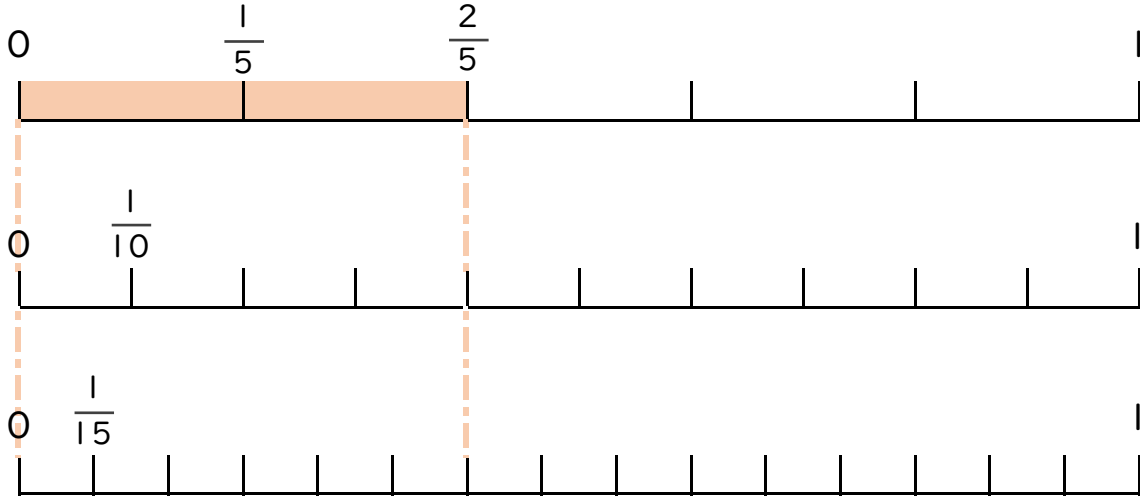
◎ 数直線と大きさの等しい分数



日にち： 月 日

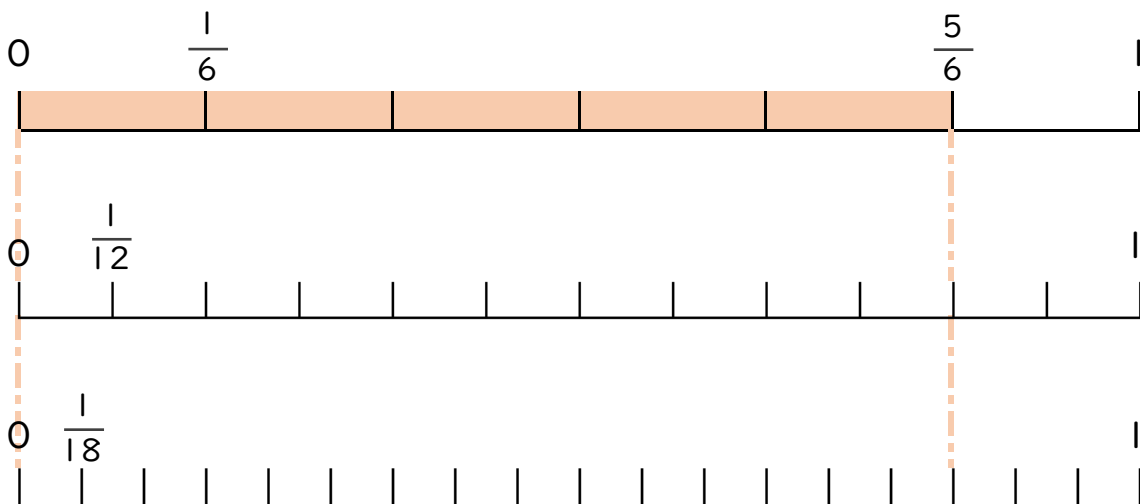
名まえ _____

1 $\frac{2}{5}$ と大きさの等しい分数を2つ見つけましょう(うすい字はなぞろう)



答え $\frac{4}{10}$ と $\frac{6}{15}$

2 $\frac{5}{6}$ と大きさの等しい分数を2つ見つけましょう。



答え $\frac{10}{12}$ と $\frac{15}{18}$