



# 分数のたし算とひき算 I

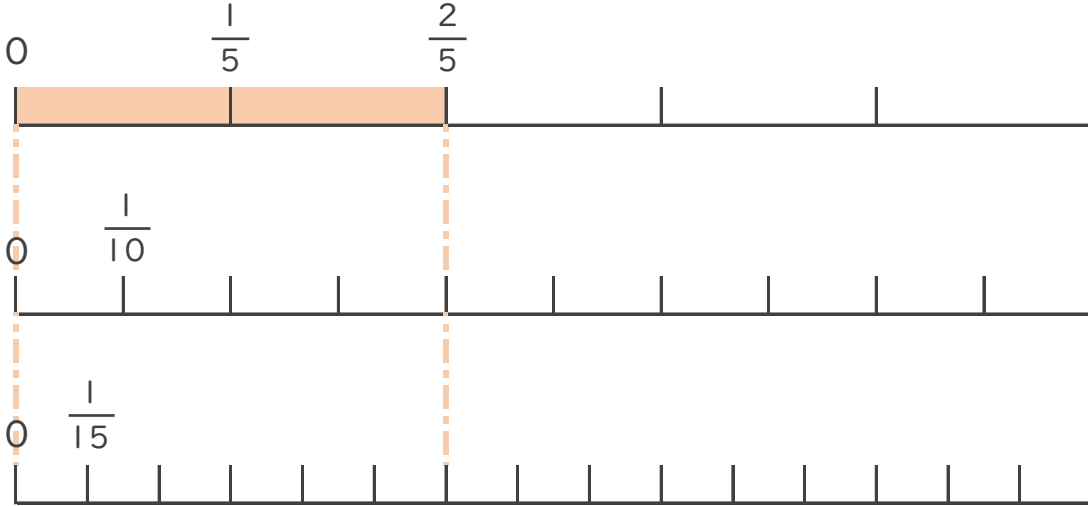
◎ 数直線と大きさの等しい分数



日にち：            月            日

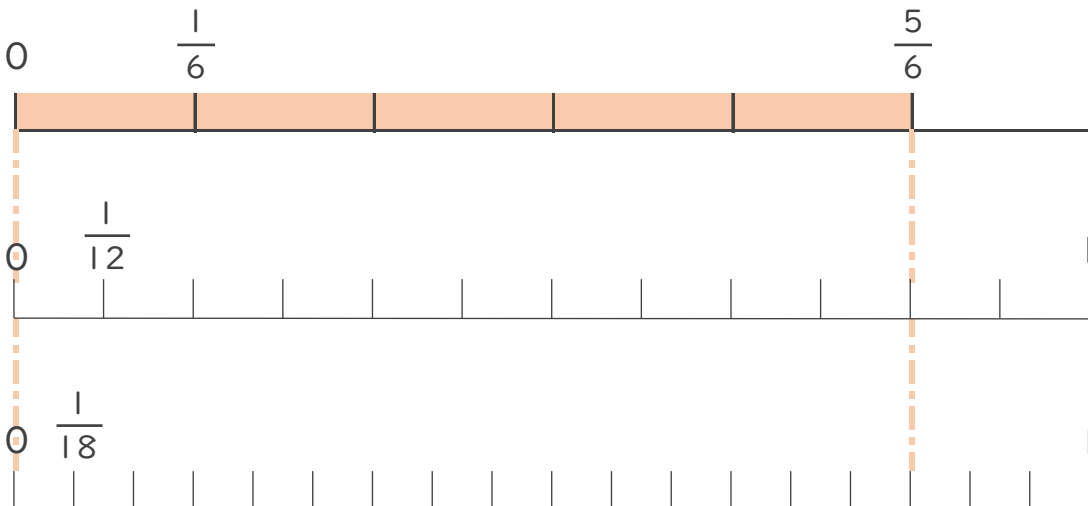
名まえ \_\_\_\_\_

1  $\frac{2}{5}$  と大きさの等しい分数を2つ見つけましょう。  
(うすい字は、なぞりましょう。)



答え  $\frac{4}{10}$  と  $\frac{6}{15}$

2  $\frac{5}{6}$  と大きさの等しい分数を2つ見つけましょう。



答え \_\_\_\_\_



# 分数のたし算とひき算 I

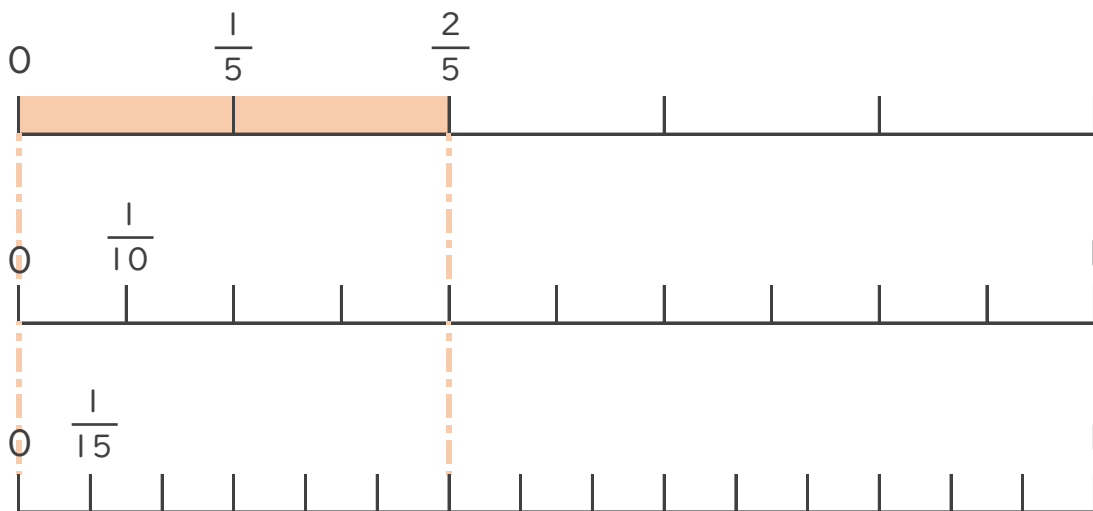
◎ 数直線と大きさの等しい分数



日にち：            月            日

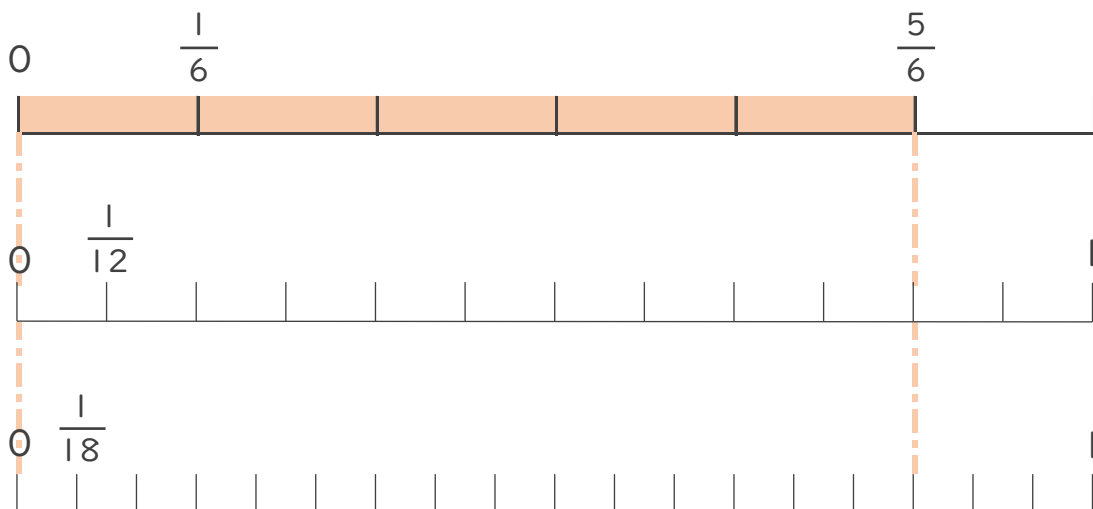
名まえ \_\_\_\_\_

1  $\frac{2}{5}$  と大きさの等しい分数を2つ見つけましょう。  
(うすい字は、なぞりましょう。)



答え  $\frac{4}{10}$  と  $\frac{6}{15}$

2  $\frac{5}{6}$  と大きさの等しい分数を2つ見つけましょう。



答え  $\frac{10}{12}$  と  $\frac{15}{18}$