



小数のかけ算 17

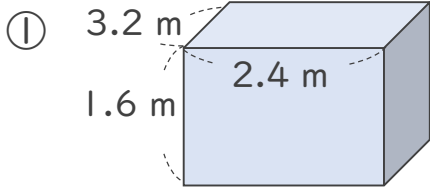


㊦ 直方体の体積

日にち： 月 日

名まえ _____

・ 次の立体の体積は何 m^3 でしょうか。(うすい字は、なぞりましょう。)



式： $3.2 \times 2.4 \times 1.6 =$ _____

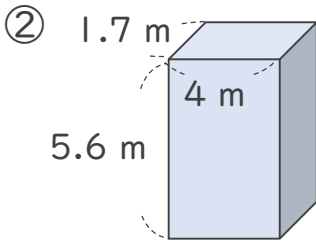
<筆算>

| | | | |
|-------|---|---|---|
| | | 3 | 2 |
| | × | 2 | 4 |
| <hr/> | | | |
| | | | |
| | | | |
| | | | |
| | | | |

<筆算>

| | | | |
|-------|---|--|--|
| | | | |
| | × | | |
| <hr/> | | | |
| | | | |
| | | | |
| | | | |
| | | | |

答え： _____ m^3



式： _____

<筆算>

| | | | |
|-------|---|--|--|
| | | | |
| | × | | |
| <hr/> | | | |
| | | | |
| | | | |
| | | | |
| | | | |

<筆算>

| | | | |
|-------|---|--|--|
| | | | |
| | × | | |
| <hr/> | | | |
| | | | |
| | | | |
| | | | |
| | | | |

答え： _____





小数のかけ算 17

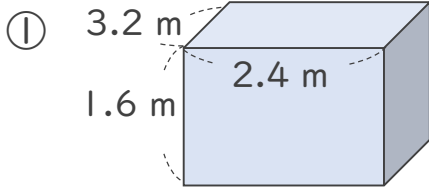


◎ 直方体の体積

日にち： 月 日

名まえ _____

・ 次の立体の体積は何 m^3 でしょうか。(うすい字は、なぞりましょう。)



式： $3.2 \times 2.4 \times 1.6 = 12.288$

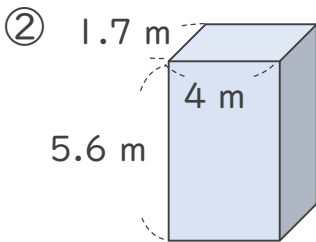
<筆算>

| | | | | | |
|-------|---|---|---|---|---|
| | | 3 | . | 2 | |
| | × | 2 | . | 4 | |
| <hr/> | | | | | |
| | | 1 | 2 | 8 | |
| | | 6 | 4 | | |
| <hr/> | | | | | |
| | | 7 | . | 6 | 8 |

<筆算>

| | | | | | | | |
|-------|---|---|---|---|---|---|---|
| | | 7 | . | 6 | 8 | | |
| | × | | 1 | . | 6 | | |
| <hr/> | | | | | | | |
| | | 4 | 6 | 0 | 8 | | |
| | | 7 | 6 | 8 | | | |
| <hr/> | | | | | | | |
| | | 1 | 2 | . | 2 | 8 | 8 |

答え： $12.288 m^3$



式： $1.7 \times 4 \times 5.6 = 38.08$

<筆算>

| | | | | |
|-------|---|---|---|---|
| | | 1 | . | 7 |
| | × | | 4 | |
| <hr/> | | | | |
| | | 6 | . | 8 |
| | | | | |
| | | | | |

<筆算>

| | | | | | | |
|-------|---|---|---|---|---|---|
| | | 6 | . | 8 | | |
| | × | 5 | . | 6 | | |
| <hr/> | | | | | | |
| | | 4 | 0 | 8 | | |
| | | 3 | 4 | 0 | | |
| <hr/> | | | | | | |
| | | 3 | 8 | . | 0 | 8 |

答え： $38.08 m^3$

