

小数のわり算20

◎ 真小数÷帯小数の文章題

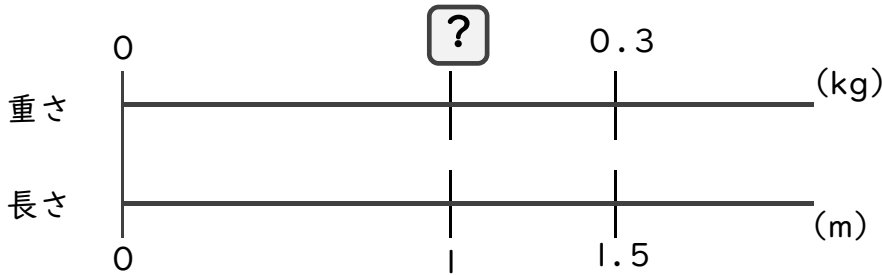


日にち： 月 日

名まえ _____

・ 次の問いに答えましょう。(うすい字はしっかりなぞりましょう)

1 1.5mの重さが、0.3kgのホースがあります。このホースの1mあたりの重さは何kgになるでしょうか。



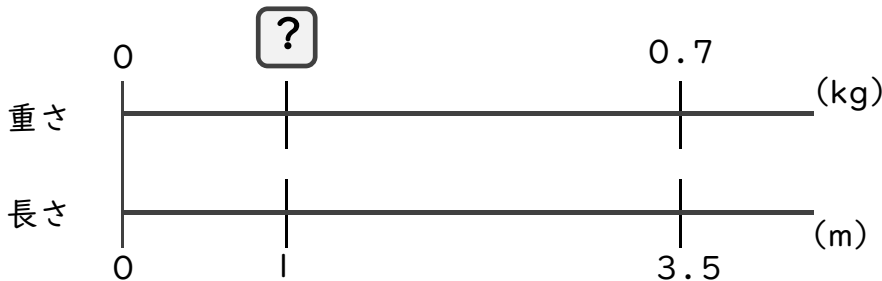
式： × 1.5 = 0.3

=

=

答え： _____

2 3.5mの重さが、0.7kgのホースがあります。このホースの1mあたりの重さは何kgになるでしょうか。



式：

答え： _____

3 4.5mの重さが、0.9kgのホースがあります。このホースの1mあたりの重さは何kgになるでしょうか。

式：

答え： _____



小数のわり算20

◎ 真小数÷帯小数の文章題

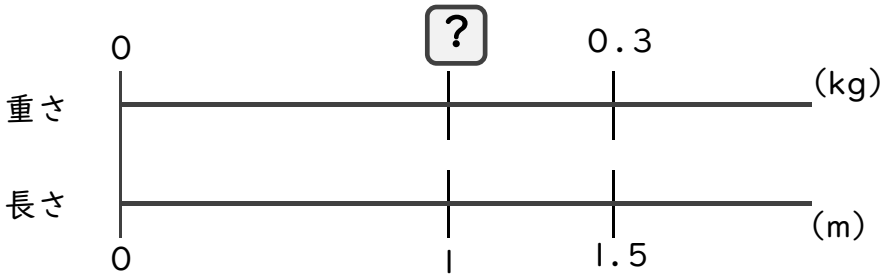


日にち： 月 日

名まえ _____

・次の問いに答えましょう。(うすい字はしっかりなぞりましょう)

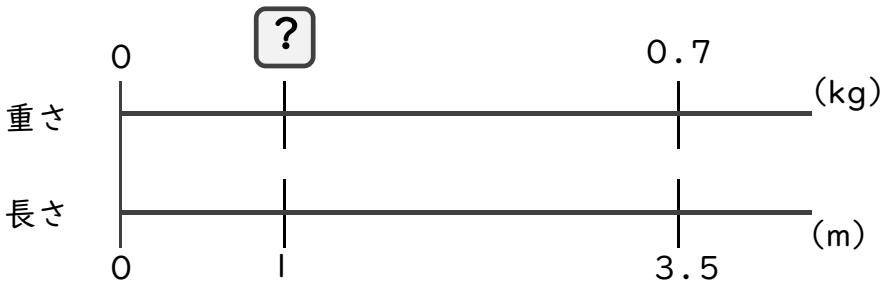
1 1.5mの重さが、0.3kgのホースがあります。このホースの1mあたりの重さは何kgになるでしょうか。



式： × 1.5 = 0.3
 = 0.3 ÷ 1.5
 = 0.2

答え：0.2 kg

2 3.5mの重さが、0.7kgのホースがあります。このホースの1mあたりの重さは何kgになるでしょうか。



式： × 3.5 = 0.7
 = 0.7 ÷ 3.5
 = 0.2

答え：0.2 kg

3 4.5mの重さが、0.9kgのホースがあります。このホースの1mあたりの重さは何kgになるでしょうか。

式： × 4.5 = 0.9
 = 0.9 ÷ 4.5
 = 0.2

答え：0.2 kg

