

小数の倍2

◎ 短いリボンは長いリボンの何倍？

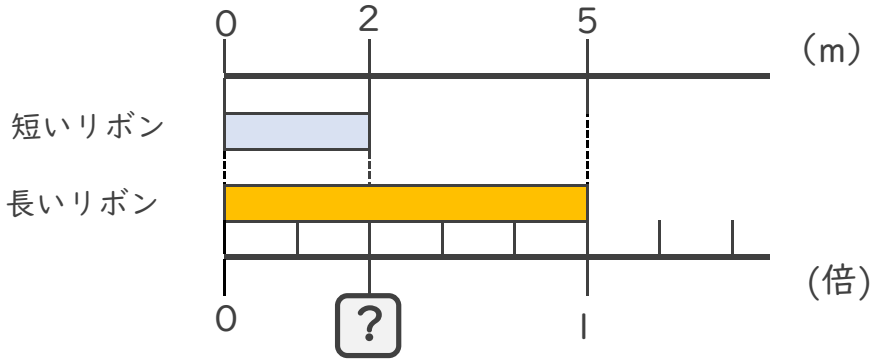


日にち： 月 日

名まえ

・ 次の問いに答えましょう。

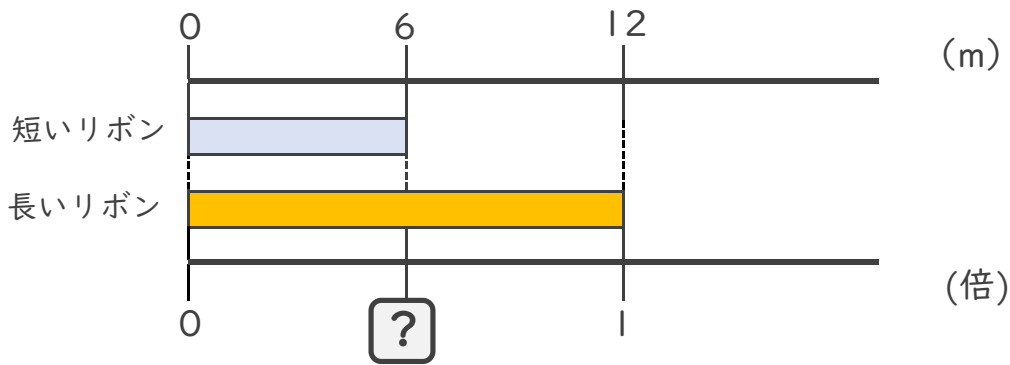
① 短いリボンは長いリボンの何倍でしょうか？



式： $2 \div 5 =$

答え： _____

② 短いリボンは長いリボンの何倍でしょうか？



式：

答え： _____

③ 7mのリボンと10mのリボンがあります。
短いリボンは長いリボンの何倍でしょうか？

式：

答え： _____





小数の倍2

◎ 短いリボンは長いリボンの何倍？

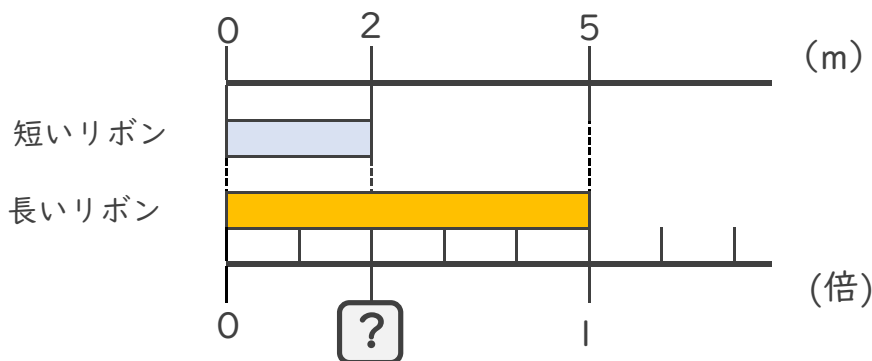


日にち： 月 日

名まえ _____

・ 次の問いに答えましょう。

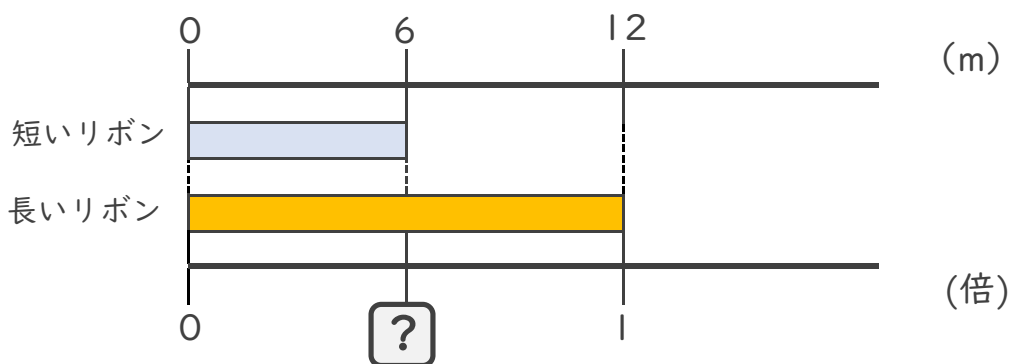
① 短いリボンは長いリボンの何倍でしょうか？



$$\text{式： } 2 \div 5 = 0.4$$

答え： 0.4倍

② 短いリボンは長いリボンの何倍でしょうか？



$$\text{式： } 6 \div 12 = 0.5$$

答え： 0.5倍

③ 7mのリボンと10mのリボンがあります。
短いリボンは長いリボンの何倍でしょうか？

$$\text{式： } 7 \div 10 = 0.7$$

答え： 0.7倍

