



小数の倍2

◎ 短いリボンは
長いリボンの何倍？

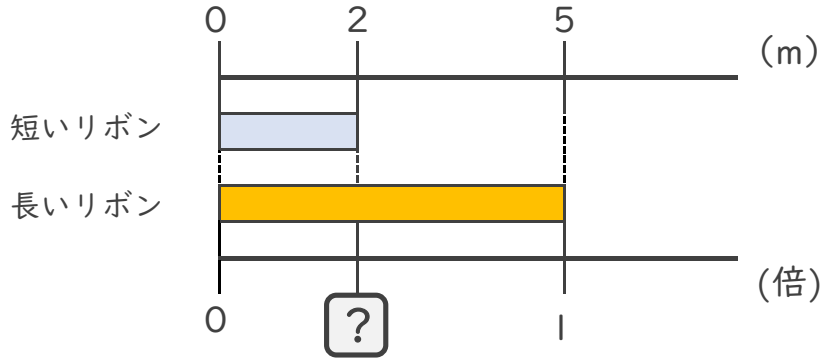


日にち： 月 日

名まえ _____

・ 次の問いに答えましょう。(うすい字は、なぞりましょう。)

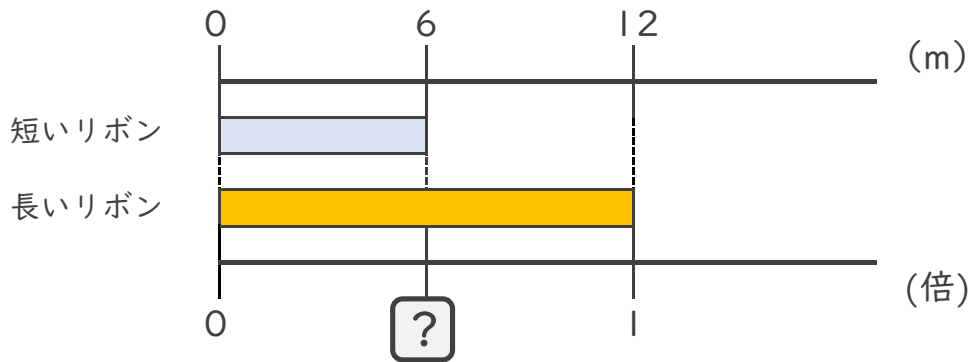
① 短いリボンは長いリボンの何倍ですか。



式： $2 \div \quad =$

答え： _____

② 短いリボンは長いリボンの何倍ですか。



式：

答え： _____

③ 7mのリボンと10mのリボンがあります。
短いリボンは長いリボンの何倍ですか。

式：

答え： _____





小数の倍2

◎ 短いリボンは
長いリボンの何倍？

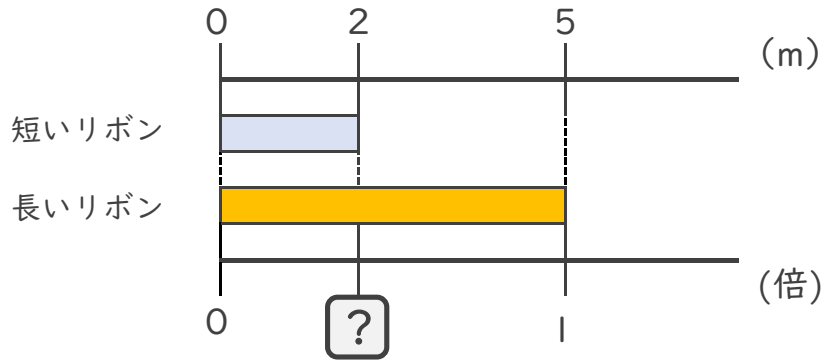


日にち： 月 日

名まえ _____

・ 次の問いに答えましょう。(うすい字は、なぞりましょう。)

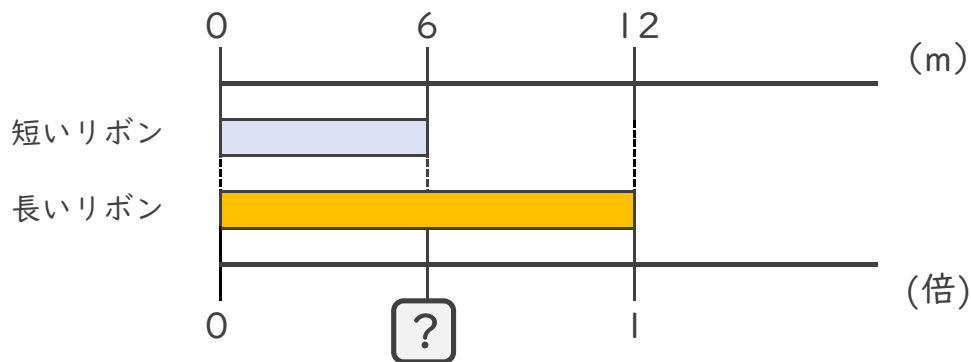
① 短いリボンは長いリボンの何倍ですか。



式： $2 \div 5 = 0.4$

答え： 0.4倍

② 短いリボンは長いリボンの何倍ですか。



式： $6 \div 12 = 0.5$

答え： 0.5倍

③ 7mのリボンと10mのリボンがあります。
短いリボンは長いリボンの何倍ですか。

式： $7 \div 10 = 0.7$

答え： 0.7倍

