



# 角柱と円柱 6

● 角柱と円柱の特ちょう

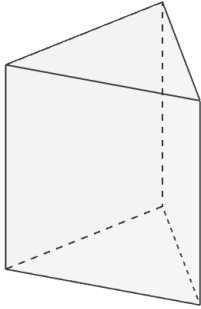


日にち：            月            日

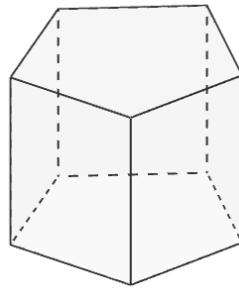
名まえ \_\_\_\_\_

・ 図を見て次の問いに答えましょう。

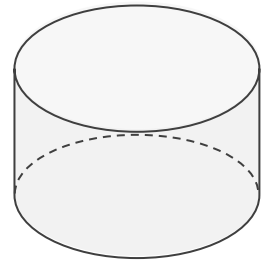
ア



イ



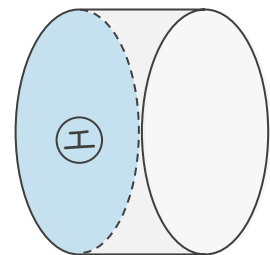
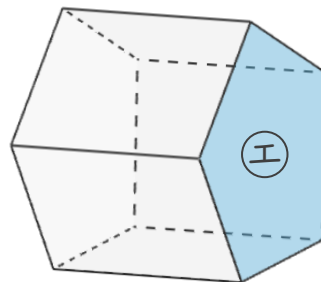
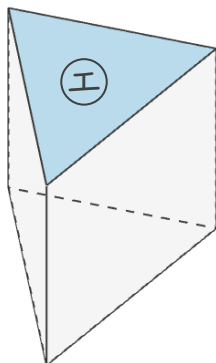
ウ



① 次の表に合う数や言葉を書き、表を完成させましょう。

	ア	イ	ウ
立体の名前			
側面の数			
底面の形			

② ①の面と平行な面に色をぬりましょう。





# 角柱と円柱 6

● 角柱と円柱の特ちょう

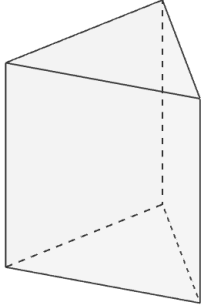


日にち：            月            日

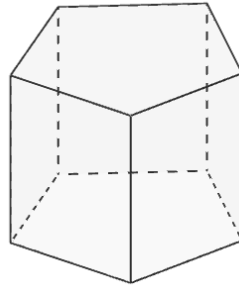
名まえ \_\_\_\_\_

・ 図を見て次の問いに答えましょう。

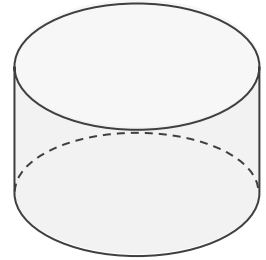
ア



イ



ウ



① 次の表に合う数や言葉を書き、表を完成させましょう。

	ア	イ	ウ
立体の名前	三角柱	五角柱	円柱
側面の数	3	5	1
底面の形	三角形	五角形	円

② ①の面と平行な面に色をぬりましょう。

