

小数の倍①

◎ 長いリボン
短いリボンの何倍？

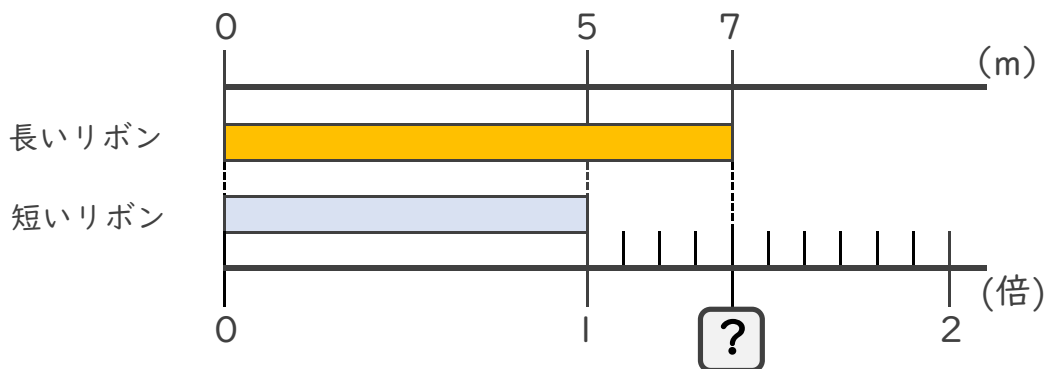


日にち： 月 日

名まえ _____

・ 次の問いに答えましょう。

① 長いリボンは短いリボンの何倍でしょうか？



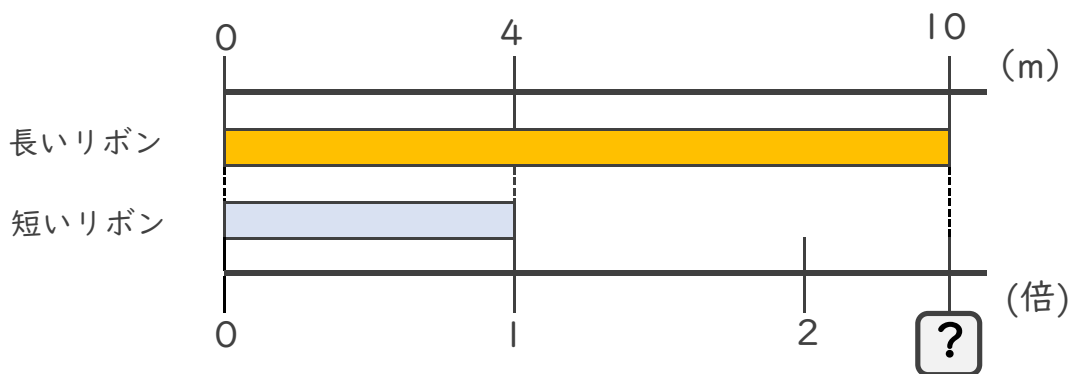
式： $5 \times \square = 7$

$\square = \div$

$\square =$

答え： _____ 倍

② 長いリボンは短いリボンの何倍でしょうか？



式：

答え： _____



小数の倍①

◎ 長いリボンは
短いリボンの何倍？

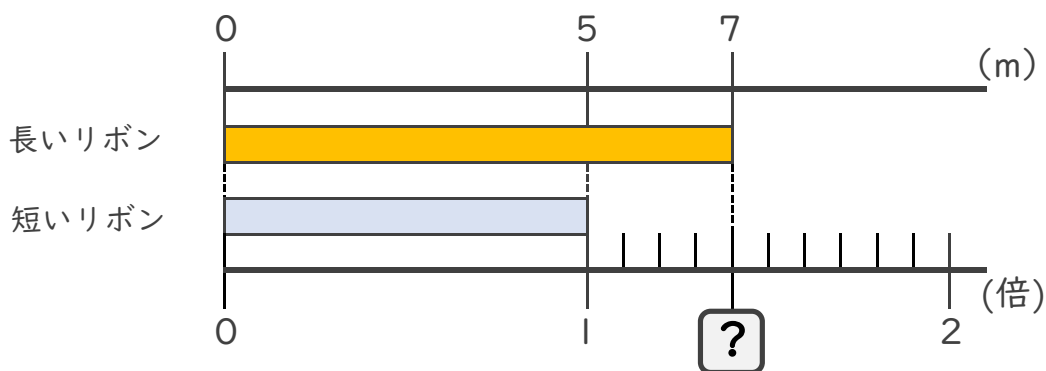


日にち： 月 日

名まえ _____

・ 次の問いに答えましょう。

① 長いリボンは短いリボンの何倍でしょうか？



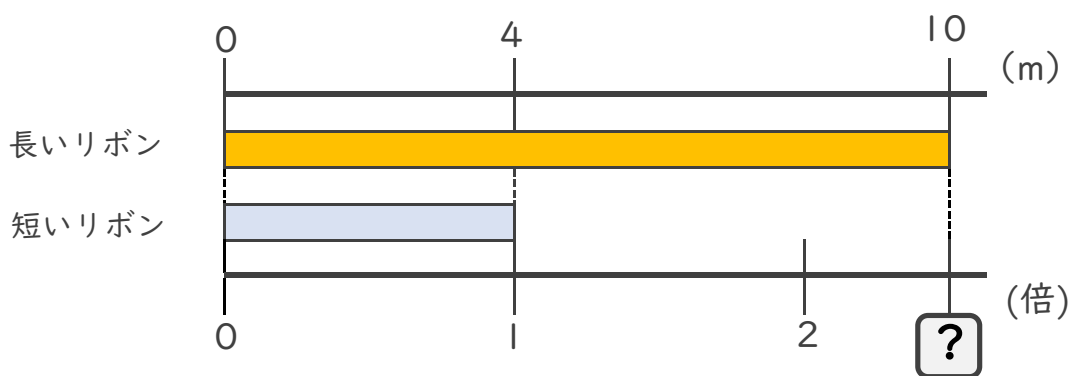
式： $5 \times \square = 7$

$\square = 7 \div 5$

$\square = 1.4$

答え： 1.4倍

② 長いリボンは短いリボンの何倍でしょうか？



式： $4 \times \square = 10$

$\square = 10 \div 4$

$\square = 2.5$

答え： 2.5倍

