



単位数あたりの
大きさ 3



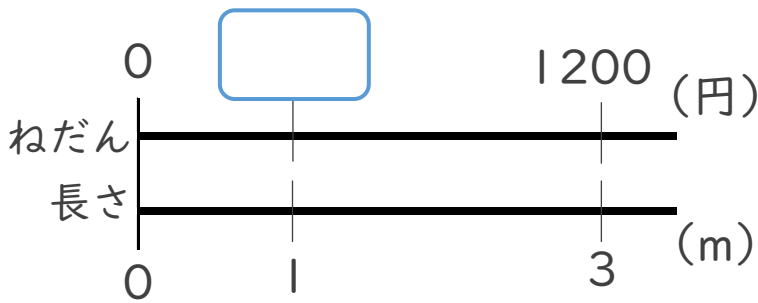
◎ 1あたりの量を求める

日にち： 月 日

名まえ _____

・ 次の問いに答えなさい。(うすい字はなぞりましょう。)

1 3 mで1200円のリボンがあります。1 mのねだんはいくらでしょう。

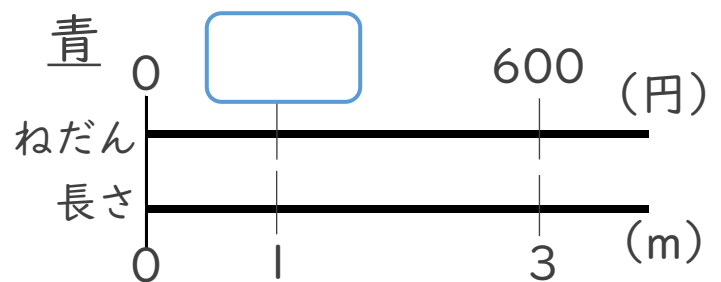
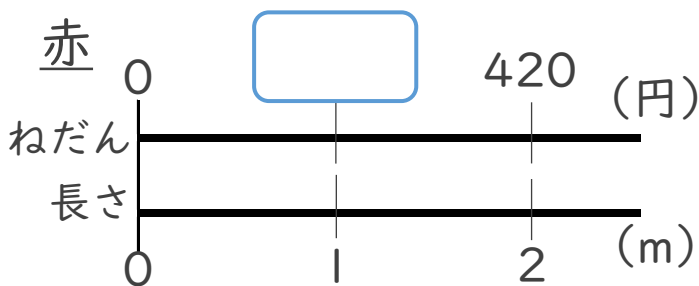


式： $1200 \div 3 =$

筆算

答え： _____

2 2 mで420円の赤いリボンと、3 mで600円の青いリボンがあります。
1 mあたりのねだんを比べると、どちらが安いでしょう。



赤の式： $420 \div 2 =$

筆算はうらに書こう→

青の式：

答え： _____





単位数あたりの
大きさ 3



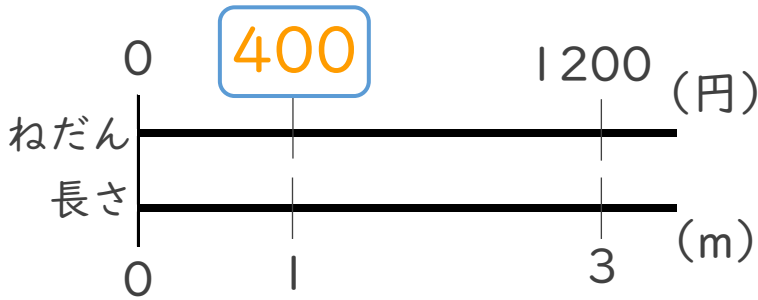
◎ 1あたりの量を求める

日にち： 月 日

名まえ _____

・ 次の問いに答えなさい。(うすい字はなぞりましょう。)

1 3 mで1200円のリボンがあります。1 mのねだんはいくらでしょう。

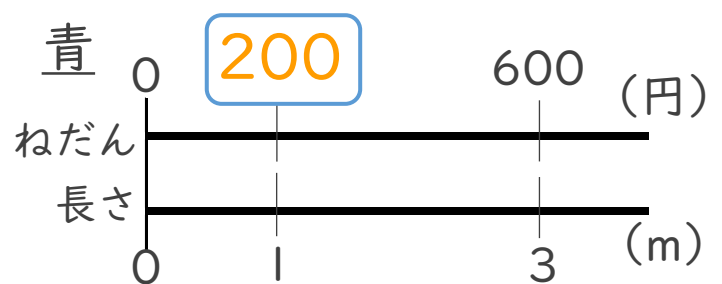
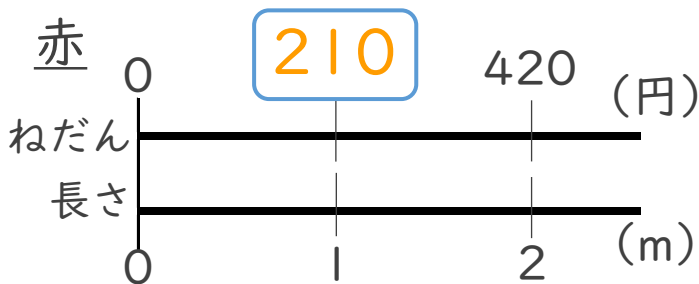


筆算

$$\text{式： } 1200 \div 3 = 400$$

答え： 400 円

2 2 mで420円の赤いリボンと、3 mで600円の青いリボンがあります。
1 mあたりのねだんを比べると、どちらが安いでしょう。



$$\text{赤の式： } 420 \div 2 = 210$$

筆算はうらに書こう→

$$\text{青の式： } 600 \div 3 = 200$$

答え： 青いリボン

