



直方体や
立方体の体積 5

● m と cm の混ざった
体積を求める計算

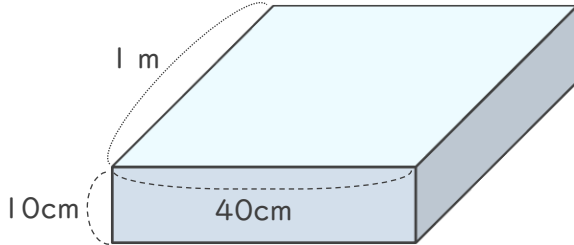


日にち： 月 日

名まえ _____

・次の直方体の体積は何 cm^3 ですか。

①

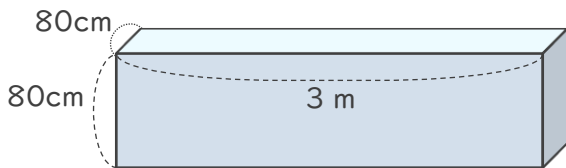


1 m = cm だから、

式：

答え ()

②



3 m = cm だから、

式：

答え ()



直方体や 立方体の体積 5

● m と cm の混ざった
体積を求める計算

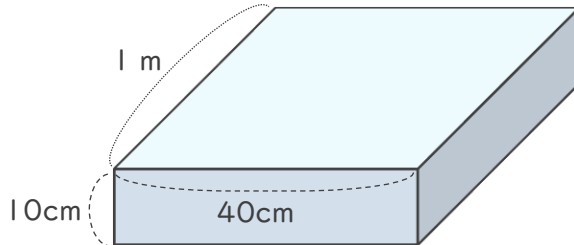


日にち： 月 日

名まえ _____

・次の直方体の体積は何 cm^3 ですか。

①

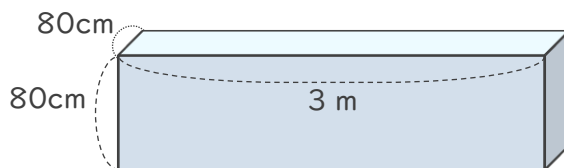


1 m = cm だから、

式： $100 \times 40 \times 10 = 40000$

答え (40000cm^3)

②



3 m = cm だから、

式： $80 \times 300 \times 80 = 1920000$

答え (1920000cm^3)

