



小数のかけ算 17

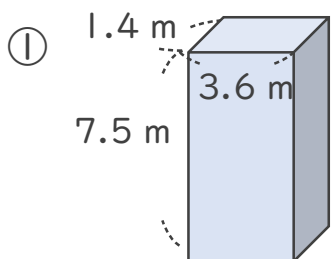


◎ 直方体の体積

日にち： 月 日

名まえ _____

・ 次の立体の体積は何 m^3 でしょうか。



式： _____

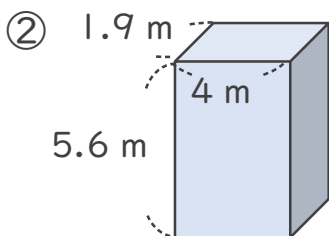
<筆算>

×		

<筆算>

×		

答え： _____



式： _____

<筆算>

×		

<筆算>

×		

答え： _____





小数のかけ算 17

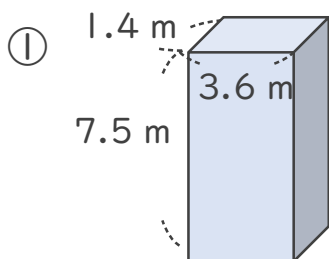


◎ 直方体の体積

日にち： 月 日

名まえ _____

・ 次の立体の体積は何 m^3 でしょうか。



式： $1.4 \times 3.6 \times 7.5 = 37.8$

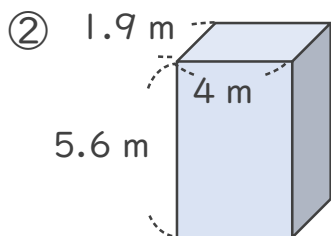
<筆算>

		1.4
×		3.6
<hr/>		
	8	4
	4	2
<hr/>		
	5.0	4

<筆算>

		5.0	4	
×		7.5		
<hr/>				
	2	5	2	0
	3	5	2	8
<hr/>				
	3	7.8	0	0

答え： $37.8 m^3$



式： $1.9 \times 4 \times 5.6 = 42.56$

<筆算>

		1.9
×		4
<hr/>		
	7	6

<筆算>

		7.6	
×		5.6	
<hr/>			
	4	5	6
	3	8	0
<hr/>			
	4	2.5	6

答え： $42.56 m^3$

