



小数のわり算 18

㊦ あまりのあるわり算
(商が整数)



日にち： 月 日

名まえ _____

- 商は一の位まで求めて、あまりも出しましょう。
(うすい字は、なぞりましょう。)

① $8.4 \div 2.2$

			3
2	2	8	4

② $32.2 \div 7.9$

			4
7	9	3	2
			2

③ $88.5 \div 6.5$

			1
6	5	8	8
		6	5

④ $69.5 \div 5.6$

⑤ $7.2 \div 3.4$

⑥ $9.9 \div 2.3$



小数のわり算 18

㊦ あまりのあるわり算
(商が整数)

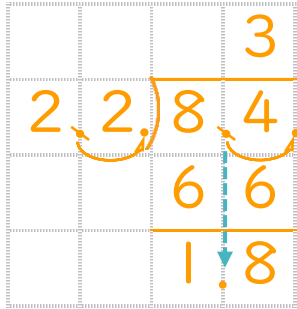


日にち： 月 日

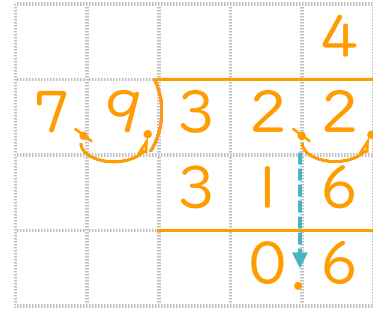
名まえ _____

- 商は一の位まで求めて、あまりも出しましょう。
(うすい字は、なぞりましょう。)

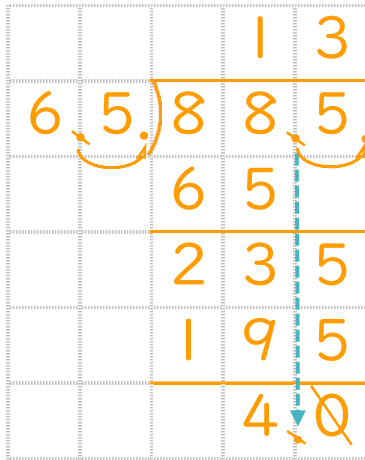
① $8.4 \div 2.2$



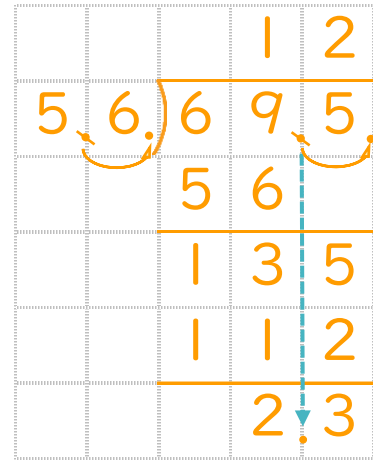
② $32.2 \div 7.9$



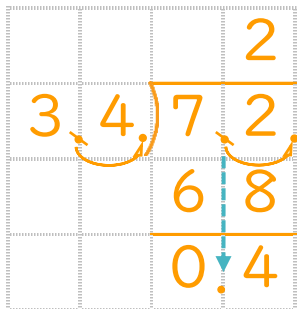
③ $88.5 \div 6.5$



④ $69.5 \div 5.6$



⑤ $7.2 \div 3.4$



⑥ $9.9 \div 2.3$

