



小数の倍3

㊦ リボンを小数倍した長さ

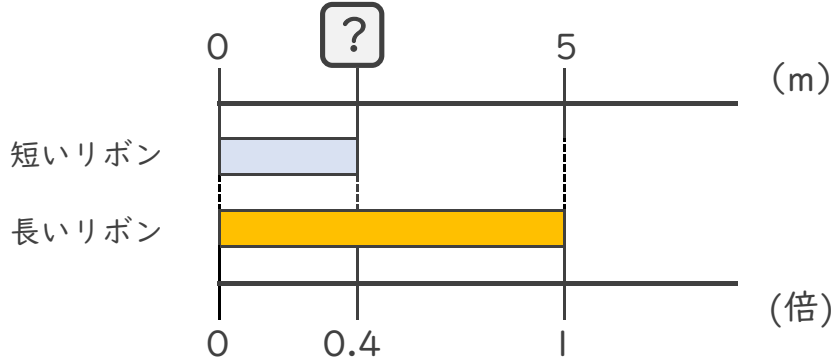


日にち： 月 日

名まえ _____

・ 次の問いに答えましょう。

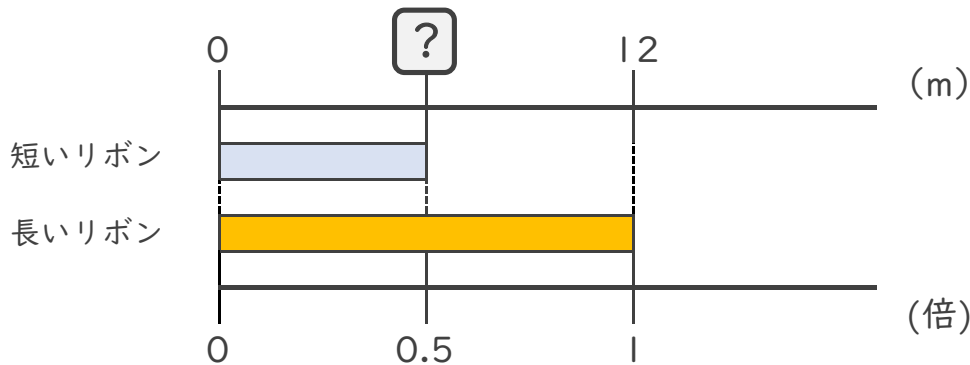
- ① 短いリボンは長いリボンの0.4倍の長さです。
 短いリボンの長さをもとめましょう。



式：

答え： _____

- ② 短いリボンは長いリボンの0.5倍の長さです。
 短いリボンの長さをもとめましょう。



式：

答え： _____

- ③ 15mの赤いリボンがあります。青いリボンは赤いリボンの
 0.4倍の長さです。青いリボンの長さをもとめましょう。

式：

答え： _____





小数の倍3

㊦ リボンを小数倍した長さ

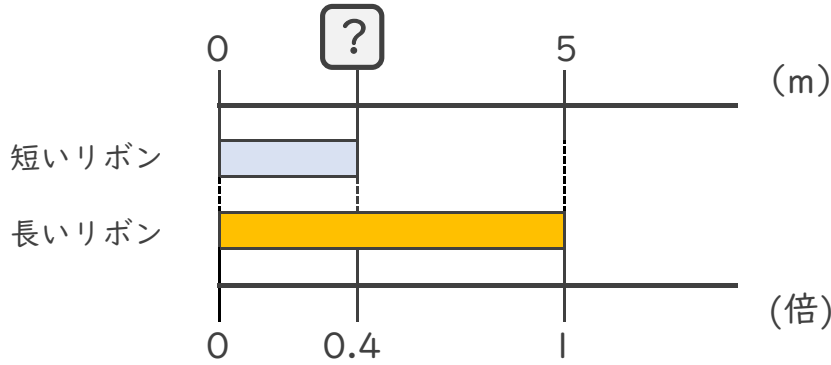


日にち： 月 日

名まえ _____

・ 次の問いに答えましょう。

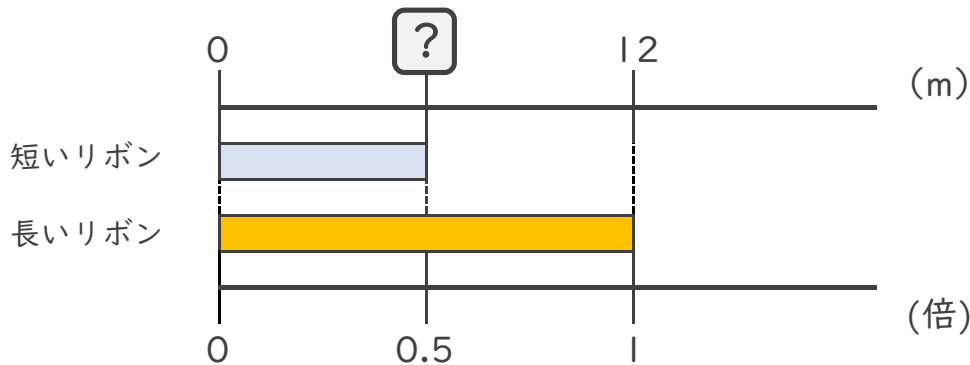
- ① 短いリボンは長いリボンの0.4倍の長さです。
 短いリボンの長さをもとめましょう。



式： $5 \times 0.4 = 2$

答え： 2m

- ② 短いリボンは長いリボンの0.5倍の長さです。
 短いリボンの長さをもとめましょう。



式： $12 \times 0.5 = 6$

答え： 6m

- ③ 15mの赤いリボンがあります。青いリボンは赤いリボンの
 0.4倍の長さです。青いリボンの長さをもとめましょう。

式： $15 \times 0.4 = 6$

答え： 6m

