



# 直方体や 立方体の体積 9



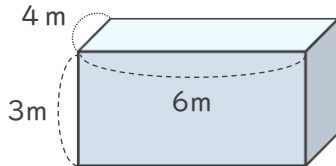
●  $\text{m}^3$ で表す体積を求める

日にち：            月            日

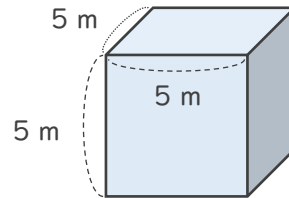
名まえ \_\_\_\_\_

・ 次の立方体や直方体の体積を求めましょう。

①



②



式：

式：

答え（                      ）

答え（                      ）

③ たて6 m、横3 m、高さ5 mの直方体

式：

答え（                      ）

④ 1辺が3 mの立方体

式：

答え（                      ）





# 直方体や 立方体の体積 9

●  $m^3$ で表す体積を求める

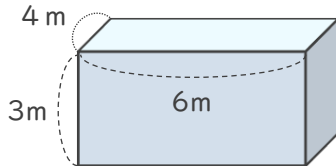


日にち：            月            日

名まえ \_\_\_\_\_

・ 次の立方体や直方体の体積を求めましょう。

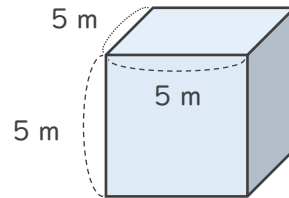
①



式：  $4 \times 6 \times 3 = 72$

答え (  $72m^3$  )

②



式：  $5 \times 5 \times 5 = 125$

答え (  $125m^3$  )

③ たて6 m、横3 m、高さ5 mの直方体

式：  $6 \times 3 \times 5 = 90$

答え (  $90m^3$  )

④ 1辺が3 mの立方体

式：  $3 \times 3 \times 3 = 27$

答え (  $27m^3$  )

