



分数と小数、  
整数の関係 3

● 分数の倍

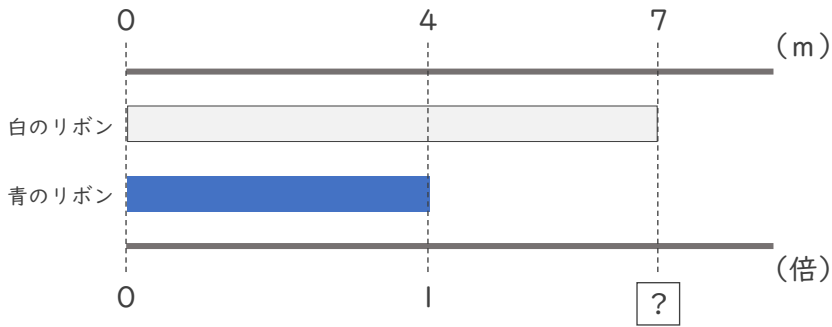


日にち：            月            日

名まえ \_\_\_\_\_

・ 次の問いに分数で答えましょう。

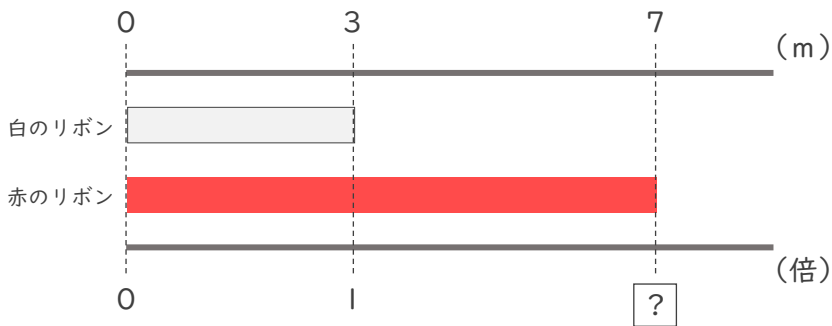
① 白のリボンは青のリボンの何倍ですか。



式：

答え (            倍            )

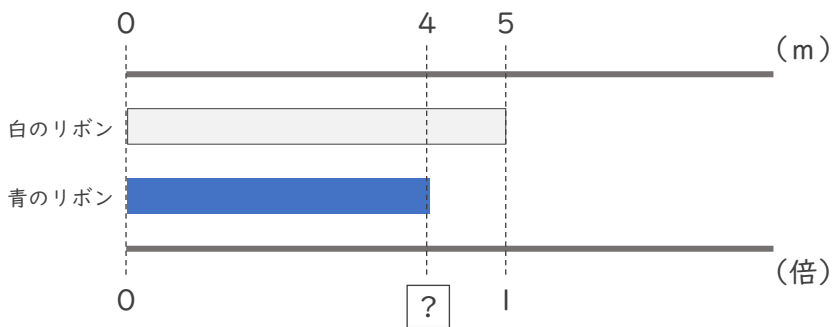
② 赤のリボンは白のリボンの何倍ですか。



式：

答え (            倍            )

③ 青のリボンは白のリボンの何倍ですか。



式：

答え (            倍            )



分数と小数、  
整数の関係 3

● 分数の倍

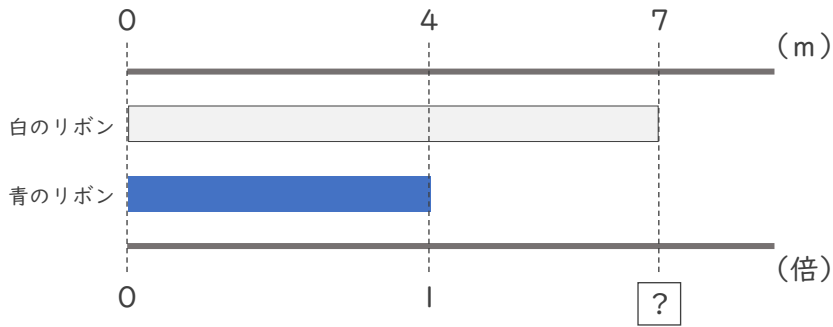


日にち：            月            日

名まえ \_\_\_\_\_

・次の問いに分数で答えましょう。

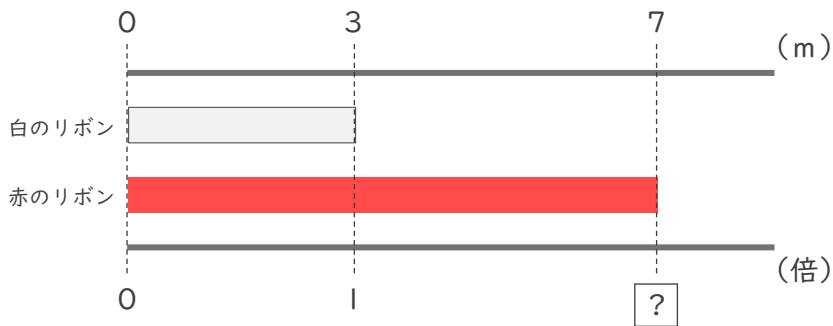
① 白のリボンは青のリボンの何倍ですか。



式：  $7 \div 4 = \frac{7}{4}$

答え (  $\frac{7}{4}$  倍 )

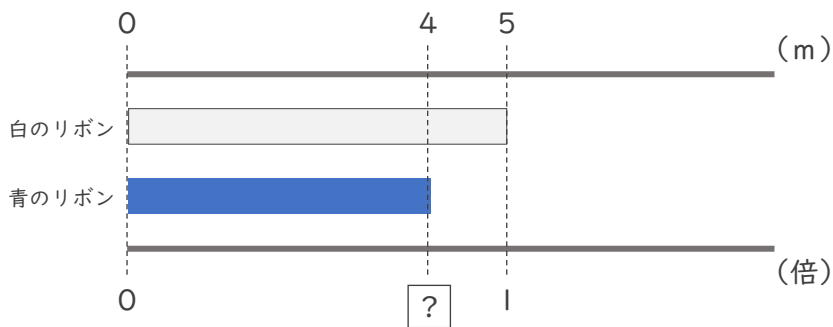
② 赤のリボンは白のリボンの何倍ですか。



式：  $7 \div 3 = \frac{7}{3}$

答え (  $\frac{7}{3}$  倍 )

③ 青のリボンは白のリボンの何倍ですか。



式：  $4 \div 5 = \frac{4}{5}$

答え (  $\frac{4}{5}$  倍 )