



合同な図形2

対応する辺や角探し

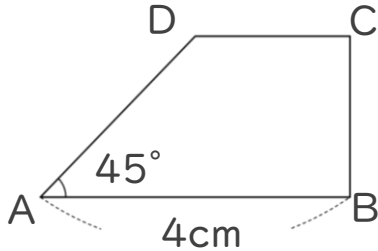


日にち： 月 日

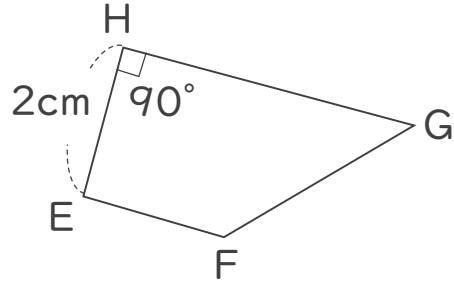
名まえ _____

・㊦と㊩の四角形は合同です。(うすい字は、なぞりましょう。)

㊦



㊩



① 辺ADに対応する辺はどれですか。

答え： _____

② 角Cに対応する角はどれですか。

答え： _____

③ 辺GHの長さは何cmですか。

答え： 4cm _____

④ 角Bの大きさは何度ですか。

答え： _____

⑤ 角Gの大きさは何度ですか。

答え： _____





合同な図形2

◎ 対応する辺や角探し

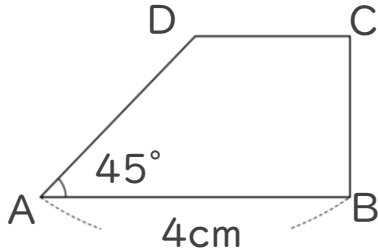


日にち： 月 日

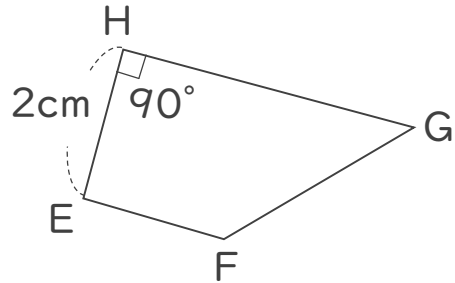
名まえ _____

・㊦と㊧の四角形は合同です。(うすい字は、なぞりましょう。)

㊦



㊧



① 辺ADに対応する辺はどれですか。

答え： 辺GF

② 角Cに対応する角はどれですか。

答え： 角E

③ 辺GHの長さは何cmですか。

答え： 4cm

④ 角Bの大きさは何度ですか。

答え： 90°

⑤ 角Gの大きさは何度ですか。

答え： 45°

