



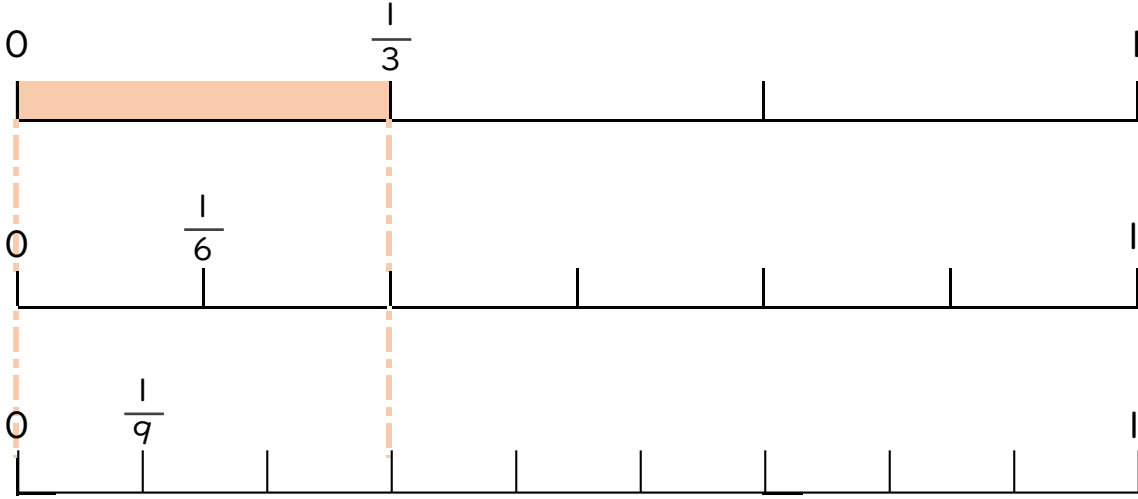
分数のたし算とひき算 I
 ◎数直線と大きさの等しい分数



日にち： 月 日

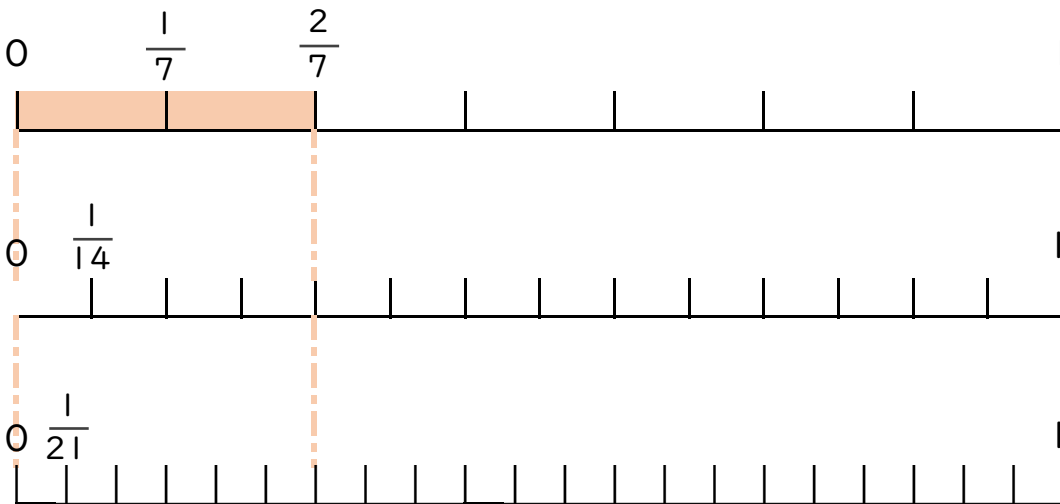
名まえ _____

1 $\frac{1}{3}$ と大きさの等しい分数を2つ見つけましょう(うすい字はなぞろう)




答え $\frac{2}{6}$ と $\frac{3}{9}$

2 $\frac{2}{7}$ と大きさの等しい分数を2つ見つけましょう。



答え



分数のたし算とひき算 I

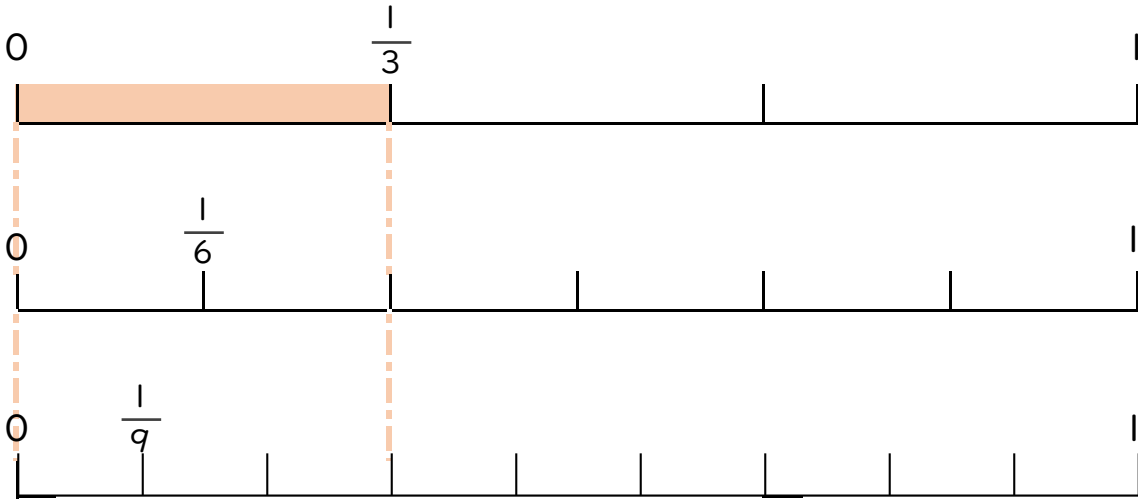
◎ 数直線と大きさの等しい分数



日にち： 月 日

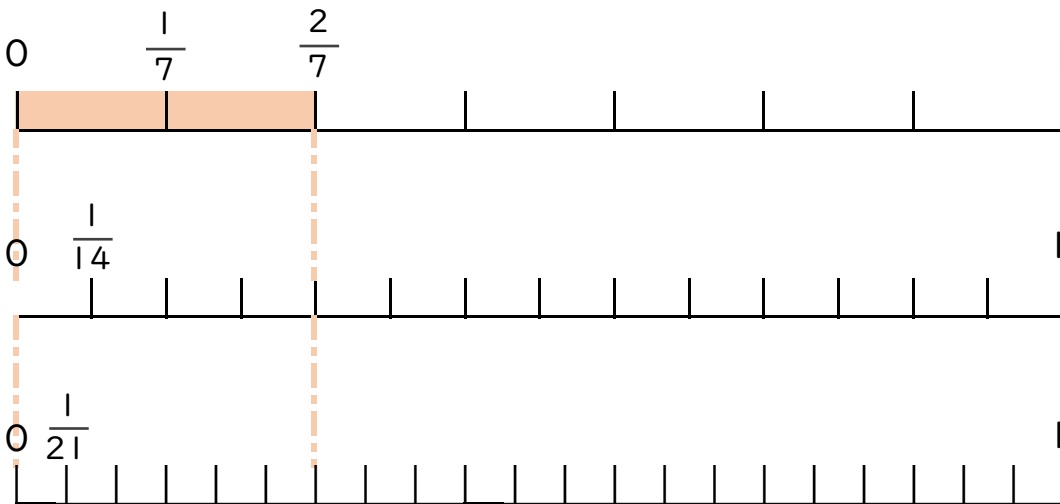
名まえ _____

1 $\frac{1}{3}$ と大きさの等しい分数を2つ見つけましょう(うすい字はなぞろう)



答え $\frac{2}{6}$ と $\frac{3}{9}$

2 $\frac{2}{7}$ と大きさの等しい分数を2つ見つけましょう。



答え $\frac{4}{14}$ と $\frac{6}{21}$