



直方体や
立方体の体積 3
直方体の体積を求める公式

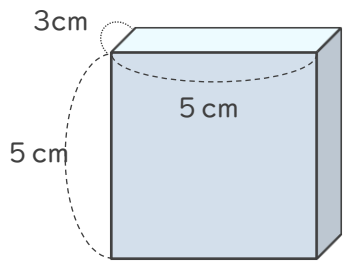


日にち： 月 日

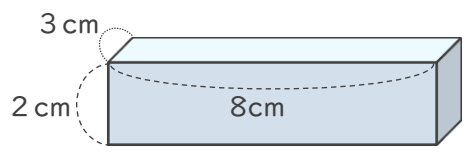
名まえ _____

・直方体の体積を求めましょう。

①



②



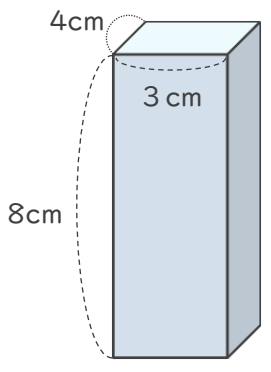
式： $3 \times 5 \times 5 = 75$

式： $3 \times 8 \times 2 = 48$

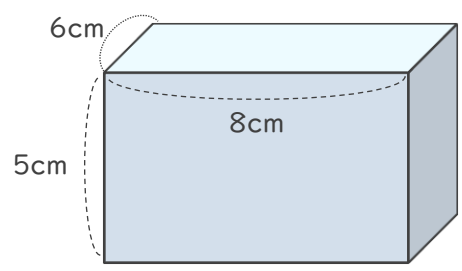
答え (75cm^3)

答え (48cm^3)

③



④



式： $4 \times 3 \times 8 = 96$

式： $6 \times 8 \times 5 = 240$

答え (96cm^3)

答え (240cm^3)