



# 小数の倍2

◎ 短いリボンは  
長いリボンの何倍？

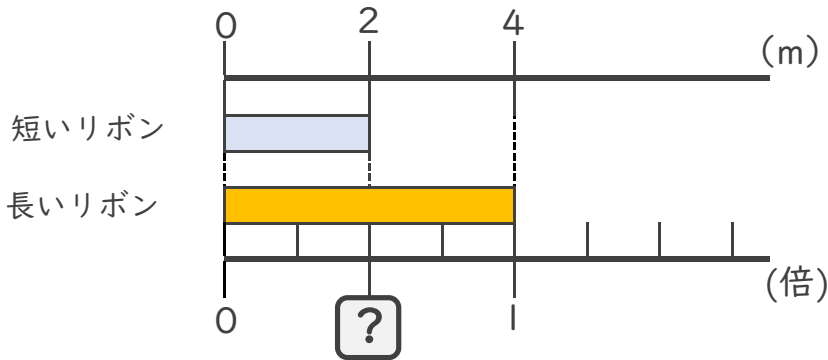


日にち：        月        日

名まえ \_\_\_\_\_

・ 次の問いに答えましょう。

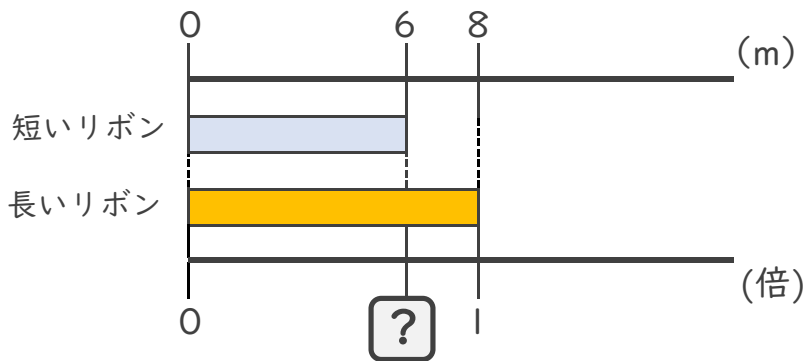
① 短いリボンは長いリボンの何倍でしょうか？



式：  $2 \div$

答え： \_\_\_\_\_

② 短いリボンは長いリボンの何倍でしょうか？



式：


答え： \_\_\_\_\_

③ 9mのリボンと12mのリボンがあります。  
短いリボンは長いリボンの何倍でしょうか？

式：

答え： \_\_\_\_\_





## 小数の倍2

◎ 短いリボンは  
長いリボンの何倍？

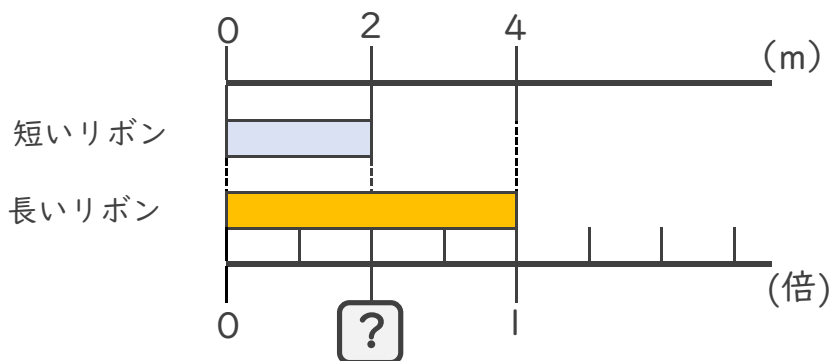


日にち：        月        日

名まえ \_\_\_\_\_

・ 次の問いに答えましょう。

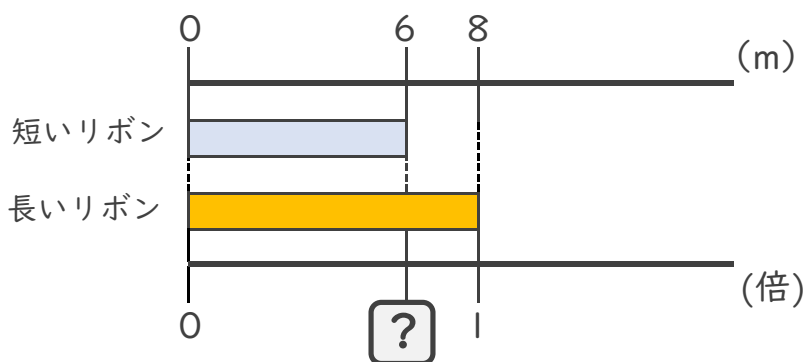
① 短いリボンは長いリボンの何倍でしょうか？



式：  $2 \div 4 = 0.5$

答え： 0.5倍

② 短いリボンは長いリボンの何倍でしょうか？



式：  $6 \div 8 = 0.75$

答え： 0.75倍

③ 9mのリボンと12mのリボンがあります。  
短いリボンは長いリボンの何倍でしょうか？

式：  $9 \div 12 = 0.75$

答え： 0.75倍

