



# 直方体や立方体の体積 2

◎ 1 cm<sup>3</sup>の立方体の何こ分？

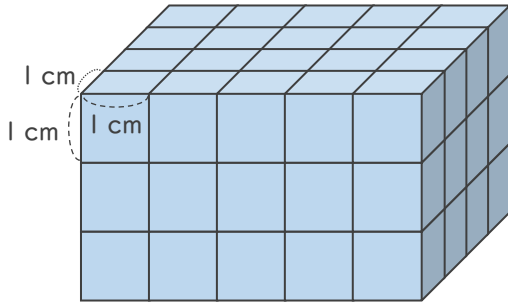


日にち：          月          日

名まえ \_\_\_\_\_

- ・ 1辺が1 cmの立方体を使って、直方体や立方体を作りました。  
体積は何cm<sup>3</sup>ですか。

①

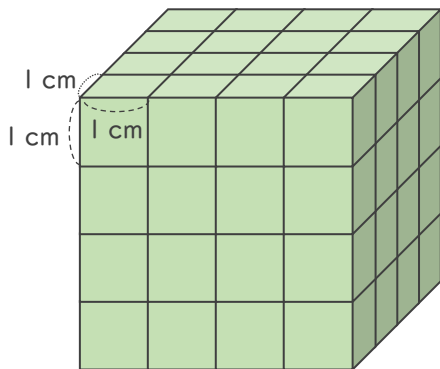


たての数      よこの数      だんの数

式：      ×      ×      =

答え（                          ）

②



式：

答え（                          ）



## 直方体や 立方体の体積 2

◎ 1 cm<sup>3</sup>の立方体の何こ分？

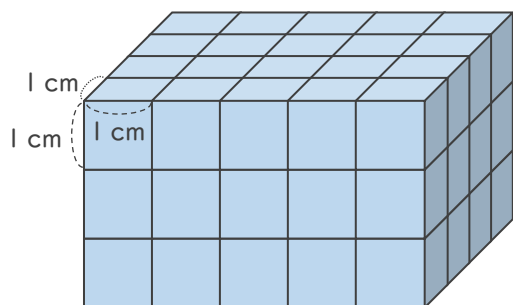


日にち：            月            日

名まえ \_\_\_\_\_

- ・ 1辺が1 cmの立方体を使って、直方体や立方体を作りました。  
体積は何cm<sup>3</sup>ですか。

①

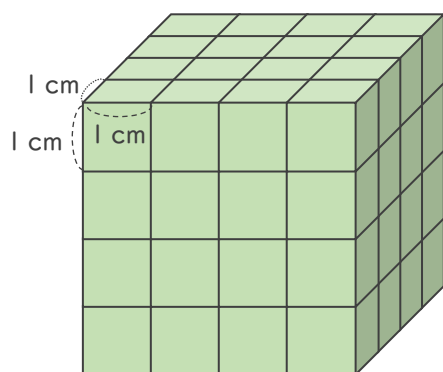


たての数      よこの数      だんの数

$$\text{式： } 4 \times 5 \times 3 = 60$$

答え (    60cm<sup>3</sup>    )

②



$$\text{式： } 4 \times 4 \times 4 = 64$$

答え (    64cm<sup>3</sup>    )

