

小数のかけ算 17

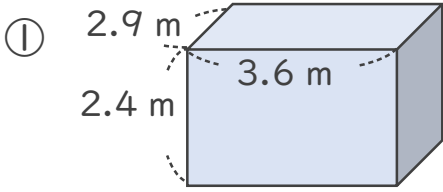
◎ 直方体の体積



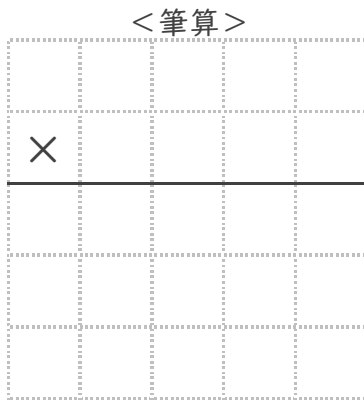
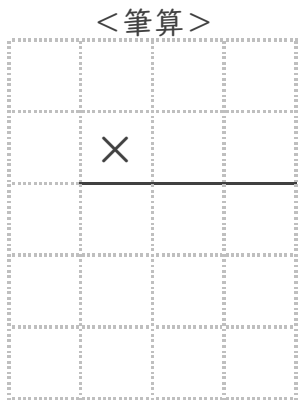
日にち： 月 日

名まえ _____

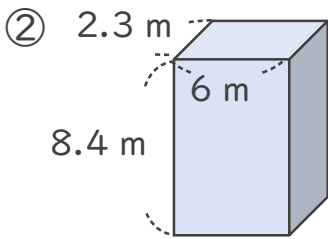
・ 次の立体の体積は何 m^3 でしょうか。



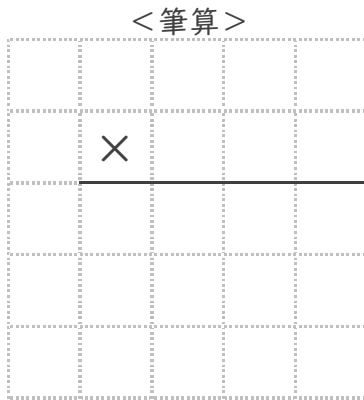
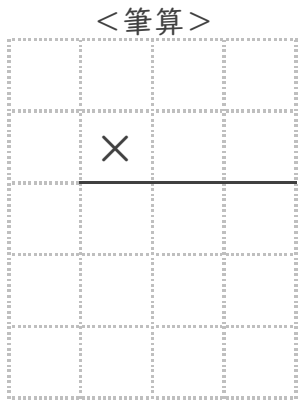
式： _____



答え： _____



式： _____



答え： _____





小数のかけ算 17

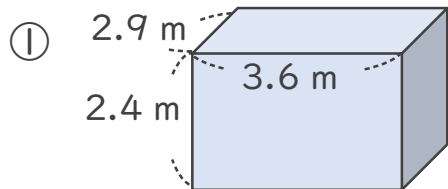


◎ 直方体の体積

日にち： 月 日

名まえ _____

・ 次の立体の体積は何 m^3 でしょうか。



式： $2.9 \times 3.6 \times 2.4 = 25.056$

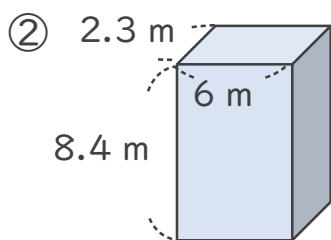
<筆算>

		2.9	
×		3.6	
<hr/>			
	1	7	4
	8	7	
<hr/>			
	1	0.4	4

<筆算>

		10.44	
×		2.4	
<hr/>			
	4	1	7
	2	0	8
<hr/>			
	2	5.0	5
			6

答え： $25.056 m^3$



式： $2.3 \times 6 \times 8.4 = 115.92$

<筆算>

		2.3	
×		6	
<hr/>			
	1	3.8	

<筆算>

		13.8	
×		8.4	
<hr/>			
	5	5	2
	1	1	0
<hr/>			
	1	1	5.9
			2

答え： $115.92 m^3$

