



小数のかけ算 16

◎ 長方形の面積

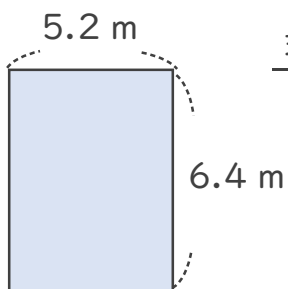


日にち： 月 日

名まえ _____

1. 次の長方形の面積は何㎡でしょうか。

①



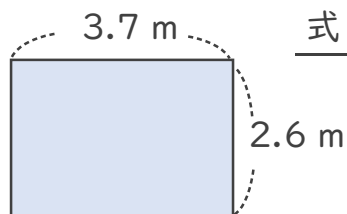
式： _____

答え： _____

<筆算>

	×		
<hr/>			

②



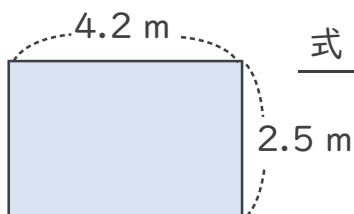
式： _____

答え： _____

<筆算>

	×		
<hr/>			

③



式： _____

答え： _____

<筆算>

	×		
<hr/>			





小数のかけ算 16

◎ 長方形の面積

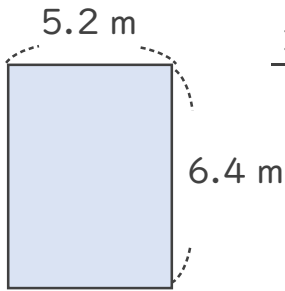


日にち： 月 日

名まえ _____

1. 次の長方形の面積は何㎡でしょうか。

①



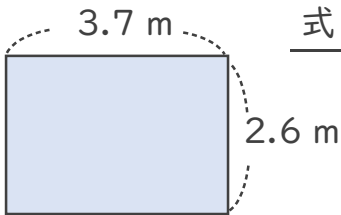
式： $6.4 \times 5.2 = 33.28$

答え： 33.28 m^2

<筆算>

		6.4
	×	5.2
		128
320		
3328		

②



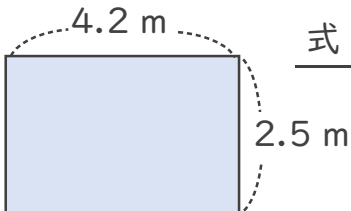
式： $2.6 \times 3.7 = 9.62$

答え： 9.62 m^2

<筆算>

		2.6
	×	3.7
		182
78		
962		

③



式： $2.5 \times 4.2 = 10.5$

答え： 10.5 m^2

<筆算>

		2.5
	×	4.2
		50
100		
1050		

