



小数のわり算 18

㊦ あまりのあるわり算
(商が整数)

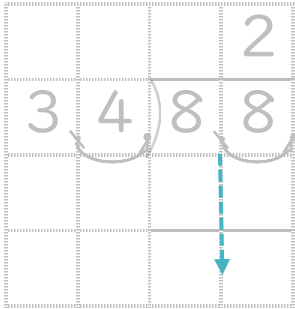


日にち： 月 日

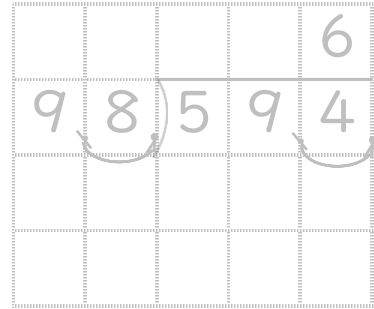
名まえ _____

- ・ 商は一の位まで求めて、あまりも出しましょう。
(うすい字は、なぞりましょう。)

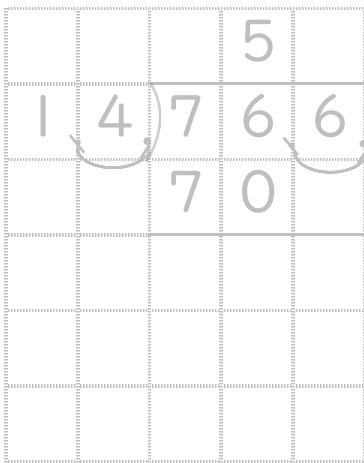
① $8.8 \div 3.4$




② $59.4 \div 9.8$



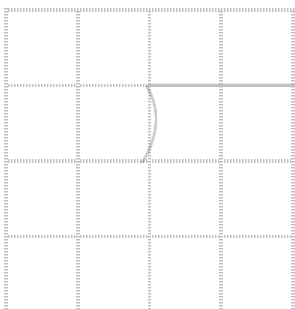
③ $76.6 \div 1.4$




④ $37.9 \div 2.6$



⑤ $6.9 \div 3.1$



⑥ $7.5 \div 2.4$





小数のわり算 18

◎ あまりのあるわり算
(商が整数)

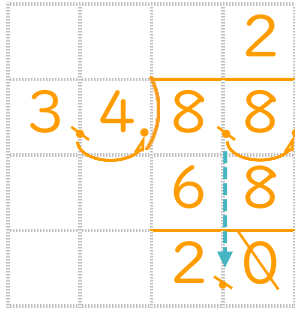


日にち： 月 日

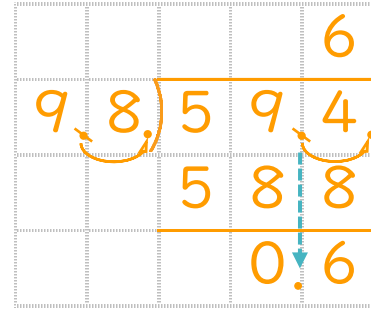
名まえ _____

- ・ 商は一の位まで求めて、あまりも出しましょう。
(うすい字は、なぞりましょう。)

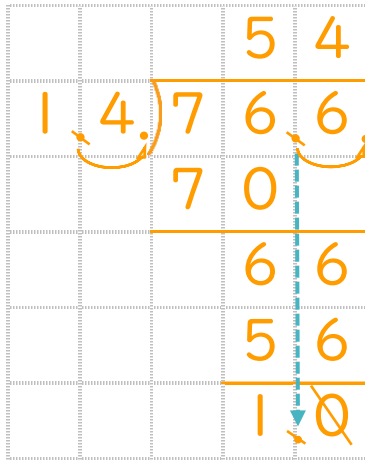
① $8.8 \div 3.4$



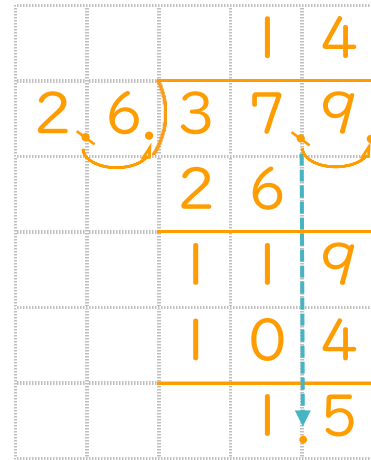
② $59.4 \div 9.8$



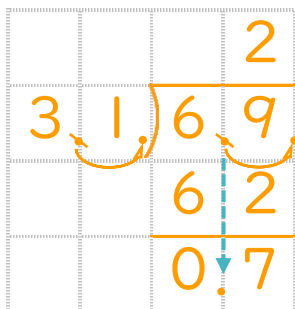
③ $76.6 \div 1.4$



④ $37.9 \div 2.6$



⑤ $6.9 \div 3.1$



⑥ $7.5 \div 2.4$

